



## Education Consultant India Ltd.

### Notations :

- Options shown in green color and with  icon are correct.
- Options shown in red color and with  icon are incorrect.

Question Paper Name:	Assistant Teacher Primary 13th November 2019 Shift 1
Subject Name:	ASSISTANT TEACHER PRIMARY
Creation Date:	2019-11-13 11:35:54
Duration:	120
Total Marks:	200
Display Marks:	Yes
Share Answer Key With Delivery Engine:	No
Actual Answer Key:	Yes
Calculator:	None
Magnifying Glass Required?:	No
Ruler Required?:	No
Eraser Required?:	No
Scratch Pad Required?:	No
Rough Sketch/Notepad Required?:	No
Protractor Required?:	No
Show Watermark on Console?:	Yes
Highlighter:	No
Auto Save on Console?:	No

### Mental Ability

Group Number :	1
Group Id :	719399859
Group Maximum Duration :	0
Group Minimum Duration :	0
Revisit allowed for view? :	No
Revisit allowed for edit? :	No
Break time:	0
Group Marks:	20
Revisit allowed for group Instructions? :	Yes
Maximum Instruction Time:	0
Minimum Instruction Time:	0

### Mental Ability

Section Id :	719399969
Section Number :	1
Section type :	Online
Mandatory or Optional:	Mandatory
Number of Questions:	20
Number of Questions to be attempted:	20
Section Marks:	20

Display Number Panel:

Yes

Group All Questions:

No

Sub-Section Number:

1

Sub-Section Id:

7193991165

Question Shuffling Allowed :

Yes

Question Number : 1 Question Id : 71939922037 Question Type : MCQ Option Shuffling : Yes Display Question Number : Yes  
Single Line Question Option : No Option Orientation : Vertical

Correct Marks : 1 Wrong Marks : 0.25

Arrange the given words in the sequence in which they occur in the dictionary.

1. Arrogant
2. Arrogance
3. Aromatic
4. Aromation
5. Aromapheutic

Options :

1. ✖ 53412
2. ✖ 54312
3. ✔ 53421
4. ✖ 54321

Question Number : 1 Question Id : 71939922037 Question Type : MCQ Option Shuffling : Yes Display Question Number : Yes  
Single Line Question Option : No Option Orientation : Vertical

Correct Marks : 1 Wrong Marks : 0.25

निम्नलिखित शब्दों को शब्दकोश में आने वाले क्रम के अनुसार लिखें

1. Arrogant
2. Arrogance
3. Aromatic
4. Aromation
5. Aromapheutic

Options :

1. ✖ 53412
2. ✖ 54312
3. ✔ 53421
4. ✖ 54321

Question Number : 2 Question Id : 71939922038 Question Type : MCQ Option Shuffling : Yes Display Question Number : Yes  
Single Line Question Option : No Option Orientation : Vertical

Correct Marks : 1 Wrong Marks : 0.25

A series is given with one term missing. Select the correct alternative from the given ones that will complete the series.

GPE, NGK, UXT, ?, IFL

Options :

1. ✖ BND
2. ✔ BOC
3. ✖ CMC
4. ✖ DND

Question Number : 2 Question Id : 71939922038 Question Type : MCQ Option Shuffling : Yes Display Question Number : Yes  
Single Line Question Option : No Option Orientation : Vertical

Correct Marks : 1 Wrong Marks : 0.25

एक अनुक्रम दिया गया है, जिसमें से एक पद लुप्त है। दिए गए विकल्पों में से वह सही विकल्प चुनिए, जो अनुक्रम को पूरा करे।

GPB, NGK, UXT, ?, IFL

Options :

1. ✖ BND
2. ✔ BOC
3. ✖ CMC
4. ✖ DND

Question Number : 3 Question Id : 71939922039 Question Type : MCQ Option Shuffling : Yes Display Question Number : Yes  
Single Line Question Option : No Option Orientation : Vertical

Correct Marks : 1 Wrong Marks : 0.25

In the following question, four letter pairs are given. The letters on left side of (-) is related to the letters on the right side of (-) with some Logic/Rule/Relation. Three are similar on basis of same Logic/Rule/Relation. Select the odd one out from the given alternatives.

Options :

1. ✖ OT - MR
2. ✖ RA - PY
3. ✔ PQ - NS
4. ✖ LN - JL

Question Number : 3 Question Id : 71939922039 Question Type : MCQ Option Shuffling : Yes Display Question Number : Yes  
Single Line Question Option : No Option Orientation : Vertical

Correct Marks : 1 Wrong Marks : 0.25

नीचे दिए गए प्रश्न में, चार अक्षर युग्म दिए गए हैं। (-) के बायीं ओर दिये गये अक्षर (-) के दायीं ओर दिये गये अक्षर से किसी तर्क/नियम/संबंध से संबंधित है। तीन उसी एक तर्क/नियम/संबंध के आधार पर समान हैं। दिए गए विकल्पों में से विषम को चुनिए।

Options :

1. ✖ OT - MR
2. ✖ RA - PY
3. ✔ PQ - NS
4. ✖ LN - JL

Question Number : 4 Question Id : 71939922040 Question Type : MCQ Option Shuffling : Yes Display Question Number : Yes  
Single Line Question Option : No Option Orientation : Vertical

Correct Marks : 1 Wrong Marks : 0.25

In the following question, select the related words from the given alternatives.

Vehicle : Car :: Tool : ?

Options :

1. ✖ Cut
2. ✔ Knife
3. ✖ Round
4. ✖ Bike

Question Number : 4 Question Id : 71939922040 Question Type : MCQ Option Shuffling : Yes Display Question Number : Yes  
Single Line Question Option : No Option Orientation : Vertical

Correct Marks : 1 Wrong Marks : 0.25

निम्नलिखित प्रश्न में दिए गए विकल्पों में से संबंधित शब्दों को चुनिए

वाहन : कार :: उपकरण : ?

Options :

1. ✖ कारना
2. ✔ चाकू
3. ✖ गोल
4. ✖ बाईक

Question Number : 5 Question Id : 71939922041 Question Type : MCQ Option Shuffling : Yes Display Question Number : Yes  
Single Line Question Option : No Option Orientation : Vertical

Correct Marks : 1 Wrong Marks : 0.25

In the following question, select the related word pair from the given alternatives.

PEN : QDO :: ?

Options :

1. ✖ BOM : APM
2. ✔ JAP : KZQ
3. ✖ SIT : TJU
4. ✖ COP : BNO

Question Number : 5 Question Id : 71939922041 Question Type : MCQ Option Shuffling : Yes Display Question Number : Yes  
Single Line Question Option : No Option Orientation : Vertical

Correct Marks : 1 Wrong Marks : 0.25

निम्नलिखित प्रश्न में दिए गए विकल्पों में से संबंधित शब्द युग्म को चुनिए

PEN : QDO :: ?

Options :

1. ✖ BOM : APM
2. ✔ JAP : KZQ
3. ✖ SIT : TJU
4. ✖ COP : BNO

Question Number : 6 Question Id : 71939922042 Question Type : MCQ Option Shuffling : Yes Display Question Number : Yes  
Single Line Question Option : No Option Orientation : Vertical

Correct Marks : 1 Wrong Marks : 0.25

In a certain code language, 'GON' is written as '33', 'PAD' is written as '18'. What is the code for 'TIR' in that code language?

Options :

1. ✖ 51
2. ✖ 45
3. ✖ 46
4. ✔ 44

Question Number : 6 Question Id : 71939922042 Question Type : MCQ Option Shuffling : Yes Display Question Number : Yes  
Single Line Question Option : No Option Orientation : Vertical

Correct Marks : 1 Wrong Marks : 0.25

एक विशिष्ट कोड भाषा में, 'GON' को '33' लिखा जाता है, 'PAD' को '18' लिखा जाता है। इस कोड भाषा में 'TIR' का कोड क्या है?

Options :

1. ✖ 51

2. ✖ 45
3. ✖ 46
4. ✔ 44

Question Number : 7 Question Id : 71939922043 Question Type : MCQ Option Shuffling : Yes Display Question Number : Yes  
Single Line Question Option : No Option Orientation : Vertical

Correct Marks : 1 Wrong Marks : 0.25

L is the father of P. R is the sister of P. S is the only son of R. L and V have only one daughter. How is P related to S?

Options :

1. ✔ Uncle
2. ✖ Father
3. ✖ Brother
4. ✖ Nephew

Question Number : 7 Question Id : 71939922043 Question Type : MCQ Option Shuffling : Yes Display Question Number : Yes  
Single Line Question Option : No Option Orientation : Vertical

Correct Marks : 1 Wrong Marks : 0.25

L, P का पिता है। R, P की बहन है। S, R का एकमात्र पुत्र है। L तथा V की केवल एक पुत्री है। P, S से किस प्रकार संबंधित है?

Options :

1. ✔ मामा
2. ✖ पिता
3. ✖ भाई
4. ✖ भांजा

Question Number : 8 Question Id : 71939922044 Question Type : MCQ Option Shuffling : Yes Display Question Number : Yes  
Single Line Question Option : No Option Orientation : Vertical

Correct Marks : 1 Wrong Marks : 0.25

A team of five members has to be formed out of 5 men : P, Q, R, S and T and 5 women : J, K, L, M and N.  
Following conditions should be kept in mind.

- (A) Minimum two women should be in the team.
- (B) S will not be in the same team with P.
- (C) T and Q will always be in the same team.
- (D) R will not be in the same team with J.
- (E) If K is selected, then M will also be selected.

Which of the following teams can be formed?

- I. TQRKM
- II. PRTQL
- III. JMKSQ
- IV. STQJN

Options :

1. ✖ Both II and III
2. ✖ Only I
3. ✖ Only IV
4. ✔ Both I and IV

Question Number : 8 Question Id : 71939922044 Question Type : MCQ Option Shuffling : Yes Display Question Number : Yes  
Single Line Question Option : No Option Orientation : Vertical

Correct Marks : 1 Wrong Marks : 0.25

5 पुरुष : P, Q, R, S तथा T तथा 5 महिला : J, K, L, M तथा N से पांच सदस्यों की एक टीम बनायी जानी है। निम्नलिखित शर्तों को ध्यान में रखें

- (A) टीम में कम से कम दो महिलाएं होनी चाहिए।
- (B) S, P के साथ समान टीम में नहीं होगा।
- (C) T तथा Q हमेशा समान टीम में होंगे।
- (D) R, J के साथ समान टीम में नहीं होगा।
- (E) यदि K को चुना जाता है, तो M को भी चुना जाएगा।

निम्नलिखित में से कौन सी टीम बनेगी?

- I. TQ RKM
- II. PRTQL
- III. JMKSQ
- IV. STQJN

Options :

- 1. ✖ II तथा III दोनों
- 2. ✖ केवल I
- 3. ✖ केवल IV
- 4. ✔ I तथा IV दोनों

Question Number : 9 Question Id : 71939922045 Question Type : MCQ Option Shuffling : Yes Display Question Number : Yes  
Single Line Question Option : No Option Orientation : Vertical

Correct Marks : 1 Wrong Marks : 0.25

Ten boys B1, B2, B3, B4, B5, B6, B7, B8, B9 and B10 are sitting in a row facing towards north (not necessarily in the same order). Only four boys are towards the left of B9. B6 is fourth to the right of B9. No boys is towards the left of B2. B5 is to the immediate right of B3. B4 is not towards the right of B6 and not towards the left of B9. B1 is second to the left of B7. B7 is third to the right of B2. Only two boys are sitting towards the right of B5. If B5 is to the immediate left of B6, then how many boys are sitting between B10 and B8?

Options :

- 1. ✖ 5
- 2. ✖ 7
- 3. ✔ 6
- 4. ✖ 8

Question Number : 9 Question Id : 71939922045 Question Type : MCQ Option Shuffling : Yes Display Question Number : Yes  
Single Line Question Option : No Option Orientation : Vertical

Correct Marks : 1 Wrong Marks : 0.25

दस लड़के B1, B2, B3, B4, B5, B6, B7, B8, B9 तथा B10 एक पंक्ति में उत्तर की ओर मुख करके बैठे हुए हैं (जरूरी नहीं की इसी क्रम में हो)। B9 के बायीं ओर केवल चार लड़के हैं। B6, B9 के दायीं ओर चौथा है। कोई भी लड़का B2 के बायीं ओर नहीं है। B5, B3 के तुरंत दायीं ओर है। B4, B6 के दायीं ओर नहीं है तथा B9 के बायीं ओर नहीं है। B1, B7 के बायीं ओर दूसरा है। B7, B2 के दायीं ओर तीसरा है। B5 के दायीं ओर केवल दो लड़के बैठे हुए हैं। यदि B5, B6 तुरंत बायीं ओर है, तो B10 तथा B8 के मध्य कितने लड़के बैठे हुए हैं?

Options :

- 1. ✖ 5
- 2. ✖ 7
- 3. ✔ 6
- 4. ✖ 8

Question Number : 10 Question Id : 71939922046 Question Type : MCQ Option Shuffling : Yes Display Question Number : Yes  
Single Line Question Option : No Option Orientation : Vertical

Correct Marks : 1 Wrong Marks : 0.25

In the following question below are given some statements followed by some conclusions based on those statements. Taking the given statements to be true even if they seem to be at variance from commonly known facts. Read all the conclusions and then decide which of the given conclusion logically follows the given statements.

Statements:

- I. Some red are boys.
- II. All boys are small.

Conclusions:

- I. All boys are red.
- II. Some small are red.

Options :

- 1. ✖ Only conclusion I follows
- 2. ✔ Only conclusion II follows
- 3. ✖ Both conclusion I and II follows
- 4. ✖ Neither conclusion follows

Question Number : 10 Question Id : 71939922046 Question Type : MCQ Option Shuffling : Yes Display Question Number : Yes  
Single Line Question Option : No Option Orientation : Vertical

Correct Marks : 1 Wrong Marks : 0.25

नीचे दिए गए प्रश्न में कुछ कथन और उनके बाद उन कथनों पर आधारित कुछ निष्कर्ष दिए गए हैं। दिए गए कथनों को सही माने, चाहे उनमें सामान्य ज्ञात तथ्यों से भिन्नता हो। सभी निष्कर्ष पढ़ें और फिर निर्धारित करें कि दिए गए कौन से निष्कर्ष, दिए गए कथनों के आधार पर युक्तिसंगत हैं।

कथन:

- I. कुछ लाल, लड़के हैं।
- II. सभी लड़के, छोटे हैं।

निष्कर्ष:

- I. सभी लड़के, लाल हैं।
- II. कुछ छोटे, लाल हैं।

Options :

- 1. ✖ केवल निष्कर्ष I अनुसरण करता है
- 2. ✔ केवल निष्कर्ष II अनुसरण करता है
- 3. ✖ दोनों निष्कर्ष I तथा II अनुसरण करते हैं
- 4. ✖ कोई भी निष्कर्ष अनुसरण नहीं करता है

Question Number : 11 Question Id : 71939922047 Question Type : MCQ Option Shuffling : Yes Display Question Number : Yes  
Single Line Question Option : No Option Orientation : Vertical

Correct Marks : 1 Wrong Marks : 0.25

In the following question below are given some statements followed by some conclusions based on those statements. Taking the given statements to be true even if they seem to be at variance from commonly known facts. Read all the conclusions and then decide which of the given conclusion logically follows the given statements.

Statements:

- I. No T is R.
- II. Some K are R.
- III. No T is J.

Conclusions:

- I. No K is J.
- II. Some J are not T.
- III. Some R are J.

Options :

1. ✖ Both conclusion II and III follows
2. ✖ Only conclusion I follows
3. ✖ Both conclusion I and II follows
4. ✔ Only conclusion II follows

Question Number : 11 Question Id : 71939922047 Question Type : MCQ Option Shuffling : Yes Display Question Number : Yes  
Single Line Question Option : No Option Orientation : Vertical

Correct Marks : 1 Wrong Marks : 0.25

नीचे दिए गए प्रश्न में कुछ कथन और उनके बाद उन कथनों पर आधारित कुछ निष्कर्ष दिए गए हैं। दिए गए कथनों को सही माने, चाहे उनमें सामान्य ज्ञात तथ्यों से भिन्नता हो। सभी निष्कर्ष पढ़ें और फिर निर्धारित करें कि दिए गए कौन से निष्कर्ष, दिए गए कथनों के आधार पर युक्तिसंगत हैं।

कथन:

- I. कोई T, R नहीं है।
- II. कुछ K, R हैं।
- III. कोई T, J नहीं है।

निष्कर्ष:

- I. कोई K, J नहीं है।
- II. कुछ J, T नहीं हैं।
- III. कुछ R, J हैं।

Options :

1. ✖ दोनों निष्कर्ष II तथा III अनुसरण करते हैं
2. ✖ केवल निष्कर्ष I अनुसरण करता है
3. ✖ दोनों निष्कर्ष I तथा II अनुसरण करते हैं
4. ✔ केवल निष्कर्ष II अनुसरण करता है

Question Number : 12 Question Id : 71939922048 Question Type : MCQ Option Shuffling : Yes Display Question Number : Yes  
Single Line Question Option : No Option Orientation : Vertical

Correct Marks : 1 Wrong Marks : 0.25

If  $16 R 2 T 4 = 12$  and  $35 R 7 T 2 = 7$ , then  $40 R 20 T 3 = ?$

Options :

1. ✖ 6
2. ✔ 5
3. ✖ 4
4. ✖ 10

Question Number : 12 Question Id : 71939922048 Question Type : MCQ Option Shuffling : Yes Display Question Number : Yes  
Single Line Question Option : No Option Orientation : Vertical

Correct Marks : 1 Wrong Marks : 0.25

यदि  $16 R 2 T 4 = 12$  तथा  $35 R 7 T 2 = 7$  हो, तो  $40 R 20 T 3 = ?$

Options :

1. ✖ 6
2. ✔ 5
3. ✖ 4
4. ✖ 10

Question Number : 13 Question Id : 71939922049 Question Type : MCQ Option Shuffling : Yes Display Question Number : Yes  
Single Line Question Option : No Option Orientation : Vertical

Correct Marks : 1 Wrong Marks : 0.25

If 'P' means '+', 'Q' means '÷', 'R' means '-' and 'S' means '×', then which of the following equation is true?

Options :



1. ✖ 16P19Q57S12R11 = 7
2. ✔ 13Q182S42P16R4 = 15
3. ✖ 11P16Q23S112R14 = 71
4. ✖ 16S8Q4P19R23 = 27

Question Number : 13 Question Id : 71939922049 Question Type : MCQ Option Shuffling : Yes Display Question Number : Yes  
Single Line Question Option : No Option Orientation : Vertical

Correct Marks : 1 Wrong Marks : 0.25

यदि 'P' का अर्थ '+', 'Q' का अर्थ '÷', 'R' का अर्थ '-' तथा 'S' का अर्थ '×' हो, तो निम्नलिखित में से कौन सा समीकरण सही है?

Options :

1. ✖ 16P19Q57S12R11 = 7
2. ✔ 13Q182S42P16R4 = 15
3. ✖ 11P16Q23S112R14 = 71
4. ✖ 16S8Q4P19R23 = 27

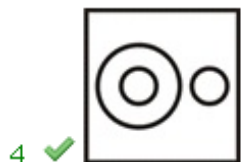
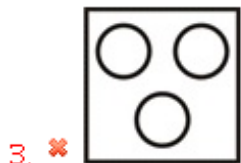

Question Number : 14 Question Id : 71939922050 Question Type : MCQ Option Shuffling : Yes Display Question Number : Yes  
Single Line Question Option : No Option Orientation : Vertical

Correct Marks : 1 Wrong Marks : 0.25

Identify the diagram that best represents the relationship among the given classes.

Stool, Teacher, Furniture

Options :



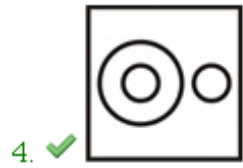
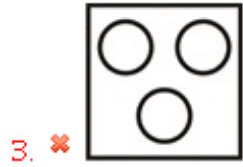

Question Number : 14 Question Id : 71939922050 Question Type : MCQ Option Shuffling : Yes Display Question Number : Yes  
Single Line Question Option : No Option Orientation : Vertical

Correct Marks : 1 Wrong Marks : 0.25

वह आरेख चुनिए जो नीचे दिए गए वर्गों के बीच के संबंध का सही निरूपण करता है।

स्टूल, अध्यापक, फर्नीचर

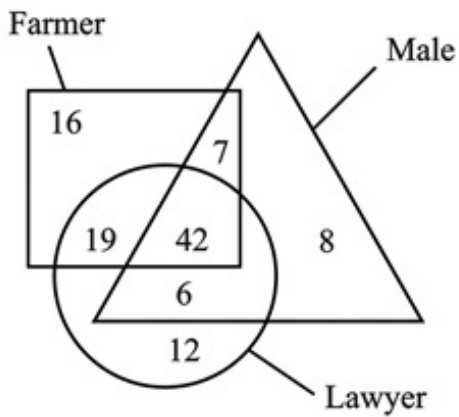
Options :



Question Number : 15 Question Id : 71939922051 Question Type : MCQ Option Shuffling : Yes Display Question Number : Yes  
Single Line Question Option : No Option Orientation : Vertical

Correct Marks : 1 Wrong Marks : 0.25

How many are male lawyers?



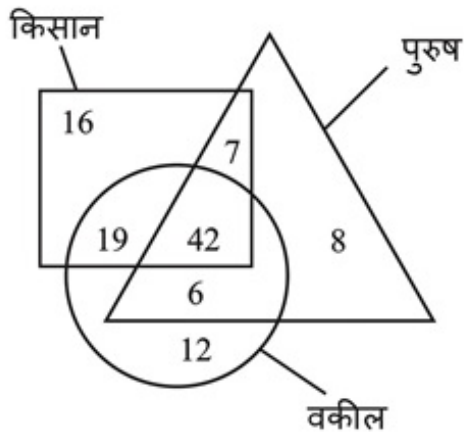
Options :

1. ✖ 14  
2. ✖ 42  
3. ✔ 48  
4. ✖ 6

Question Number : 15 Question Id : 71939922051 Question Type : MCQ Option Shuffling : Yes Display Question Number : Yes  
Single Line Question Option : No Option Orientation : Vertical

Correct Marks : 1 Wrong Marks : 0.25

कितने पुरुष वकील हैं?



Options :

- ✗ 14
- ✗ 42
- ✓ 48
- ✗ 6

Question Number : 16 Question Id : 71939922052 Question Type : MCQ Option Shuffling : Yes Display Question Number : Yes Single Line Question Option : No Option Orientation : Vertical

Correct Marks : 1 Wrong Marks : 0.25

Suman walks 36 km towards west. She turns left and walks 12 km. Now she turns right and walks 14 km. She again turns right and walks 12 km. She finally turns left and walks 11 km. How far and in which direction is she now from the initial point?

Options :

- ✗ 39 km, West
- ✗ 61 km, North west
- ✓ 61 km, West
- ✗ 39 km, North west

Question Number : 16 Question Id : 71939922052 Question Type : MCQ Option Shuffling : Yes Display Question Number : Yes Single Line Question Option : No Option Orientation : Vertical

Correct Marks : 1 Wrong Marks : 0.25

सुमन पश्चिम की ओर 36 कि.मी. चलती है वह बायीं ओर मुड़ती है तथा 12 कि.मी. चलती है। अब वह दायीं ओर मुड़ती है तथा 14 कि.मी. चलती है। वह पुनः दायीं ओर मुड़ती है तथा 12 कि.मी. चलती है। वह अंततः बायीं ओर मुड़ती है तथा 11 कि.मी. चलती है। वह आरंभिक बिंदु से अब किस दिशा में तथा कितनी दूरी पर है?

Options :

- ✗ 39 कि.मी., पश्चिम
- ✗ 61 कि.मी., उत्तर पश्चिम
- ✓ 61 कि.मी., पश्चिम
- ✗ 39 कि.मी., उत्तर पश्चिम

Question Number : 17 Question Id : 71939922053 Question Type : MCQ Option Shuffling : Yes Display Question Number : Yes Single Line Question Option : No Option Orientation : Vertical

Correct Marks : 1 Wrong Marks : 0.25

Point R is 16 km towards the west of point J. Point T is 39 km towards the north of point J. Point J is 12 km towards the south of Point S. Point Q is 10 km towards the north of point R. If the point K is 144 km towards the west of point Q, then in which direction is point K from the point S?

Options :

1. ✖ West
2. ✔ South west
3. ✖ South east
4. ✖ North east

Question Number : 17 Question Id : 71939922053 Question Type : MCQ Option Shuffling : Yes Display Question Number : Yes  
Single Line Question Option : No Option Orientation : Vertical

Correct Marks : 1 Wrong Marks : 0.25

बिंदु R, बिंदु J से 16 कि.मी. पश्चिम की ओर है। बिंदु T, बिंदु J से 39 कि.मी. उत्तर की ओर है। बिंदु J, बिंदु S से 12 कि.मी. दक्षिण की ओर है। बिंदु Q, बिंदु R से 10 कि.मी. उत्तर की ओर है। यदि बिंदु K, बिंदु Q से 144 कि.मी. पश्चिम की ओर है, तो बिंदु K, बिंदु S से किस दिशा में है?

Options :

1. ✖ पश्चिम
2. ✔ दक्षिण पश्चिम
3. ✖ दक्षिण पूर्व
4. ✖ उत्तर पूर्व

Question Number : 18 Question Id : 71939922054 Question Type : MCQ Option Shuffling : Yes Display Question Number : Yes  
Single Line Question Option : No Option Orientation : Vertical

Correct Marks : 1 Wrong Marks : 0.25

In the following question, select the odd figure from the given alternatives.

Options :

1. ✖ 
2. ✖ 
3. ✖ 
4. ✔ 

Question Number : 18 Question Id : 71939922054 Question Type : MCQ Option Shuffling : Yes Display Question Number : Yes  
Single Line Question Option : No Option Orientation : Vertical

Correct Marks : 1 Wrong Marks : 0.25

निम्नलिखित प्रश्न में, दिए गए विकल्पों में से विषम आकृति को चुनिए।

Options :



Question Number : 19 Question Id : 71939922055 Question Type : MCQ Option Shuffling : Yes Display Question Number : Yes  
Single Line Question Option : No Option Orientation : Vertical

Correct Marks : 1 Wrong Marks : 0.25

A big solid cube is painted with red colour on two opposite faces, yellow colour on two adjacent faces and green colour on remaining two faces. Now 3 cuts are made on each axis of this cube and then some small cubes are obtained. How many small cubes will have one face painted with red colour and one face painted with yellow colour?

Options :

1. ✖ 16

2. ✖ 20

3. ✔ 14

4. ✖ 12

Question Number : 19 Question Id : 71939922055 Question Type : MCQ Option Shuffling : Yes Display Question Number : Yes  
Single Line Question Option : No Option Orientation : Vertical

Correct Marks : 1 Wrong Marks : 0.25

एक बड़े ठोस घन को दो विपरीत फलकों पर लाल रंग से, दो संलग्न फलकों पर पीले रंग से तथा शेष दो फलकों पर हरे रंग से रंगा गया है। अब इस घन की प्रत्येक अक्ष पर 3 कटाव लगाये गये हैं तथा फिर कुछ छोटे घन प्राप्त हुए हैं। कितने छोटे घनों की एक फलक लाल रंग से रंगी हुई है तथा एक फलक पीले रंग से रंगी हुई है?

Options :

1. ✖ 16

2. ✖ 20

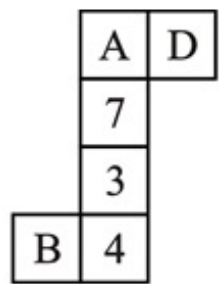
3. ✔ 14

4. ✖ 12

Question Number : 20 Question Id : 71939922056 Question Type : MCQ Option Shuffling : Yes Display Question Number : Yes  
Single Line Question Option : No Option Orientation : Vertical

Correct Marks : 1 Wrong Marks : 0.25

By folding the given paper, which of the following cube cannot be made?



I



II



III

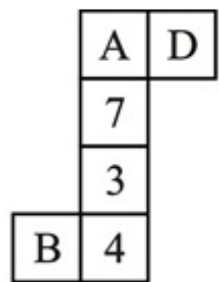
Options :

- 1. ✓ Only III
- 2. ✗ Only II
- 3. ✗ Both I and II
- 4. ✗ Both II and III

Question Number : 20 Question Id : 71939922056 Question Type : MCQ Option Shuffling : Yes Display Question Number : Yes Single Line Question Option : No Option Orientation : Vertical

Correct Marks : 1 Wrong Marks : 0.25

दिए गए कागज को मोड़ने पर, निम्नलिखित में से कौन सा घन नहीं बनाया जा सकता है?



I



II



III

Options :

- 1. ✓ केवल III
- 2. ✗ केवल II
- 3. ✗ I तथा II दोनों
- 4. ✗ II तथा III दोनों

General Awareness

Group Number :	2
Group Id :	719399860
Group Maximum Duration :	0
Group Minimum Duration :	0
Revisit allowed for view? :	No

Revisit allowed for edit? :	No
Break time:	0
Group Marks:	20
Revisit allowed for group Instructions? :	Yes
Maximum Instruction Time:	0
Minimum Instruction Time:	0

#### General Awareness

Section Id :	719399970
Section Number :	1
Section type :	Online
Mandatory or Optional:	Mandatory
Number of Questions:	20
Number of Questions to be attempted:	20
Section Marks:	20
Display Number Panel:	Yes
Group All Questions:	No

Sub-Section Number:	1
Sub-Section Id:	7193991166
Question Shuffling Allowed :	Yes

Question Number : 21 Question Id : 71939922057 Question Type : MCQ Option Shuffling : Yes Display Question Number : Yes  
Single Line Question Option : No Option Orientation : Vertical

Correct Marks : 1 Wrong Marks : 0.25

"Bonalu" in which Goddess Mahakali is worshipped is celebrated in \_\_\_\_\_ .

Options :

1. ✓ Telangana
2. ✗ Karnataka
3. ✗ West Bengal
4. ✗ Odisha

Question Number : 21 Question Id : 71939922057 Question Type : MCQ Option Shuffling : Yes Display Question Number : Yes  
Single Line Question Option : No Option Orientation : Vertical

Correct Marks : 1 Wrong Marks : 0.25

"बोनालू" जिस में देवी महाकाली की पूजा की जाती है, \_\_\_\_\_ में मनाया जाता है।

Options :

1. ✓ तेलंगाना
2. ✗ कर्नाटक
3. ✗ पश्चिम बंगाल
4. ✗ ओडिशा

Question Number : 22 Question Id : 71939922058 Question Type : MCQ Option Shuffling : Yes Display Question Number : Yes  
Single Line Question Option : No Option Orientation : Vertical

Correct Marks : 1 Wrong Marks : 0.25

Dancing postures of the Chowk and the Tribhanga are associated with which classical dance form?

Options :

1. ✗ Bharatnatyam

2. ✖ kathakali
3. ✔ Odissi
4. ✖ Kuchipudi

Question Number : 22 Question Id : 71939922058 Question Type : MCQ Option Shuffling : Yes Display Question Number : Yes  
Single Line Question Option : No Option Orientation : Vertical

Correct Marks : 1 Wrong Marks : 0.25

चौक तथा त्रिभंगा की नृत्य मुद्राएँ किस शास्त्रीय नृत्य शैली से जुड़ी हैं?

Options :

1. ✖ भरतनाट्यम
2. ✖ कथकली
3. ✔ ओडिसी
4. ✖ कुचिपुड़ी

Question Number : 23 Question Id : 71939922059 Question Type : MCQ Option Shuffling : Yes Display Question Number : Yes  
Single Line Question Option : No Option Orientation : Vertical

Correct Marks : 1 Wrong Marks : 0.25

The (fixed) interest rate at which the Reserve Bank provides overnight liquidity to banks against the collateral of government and other approved securities under the liquidity adjustment facility (LAF) is known as \_\_\_\_\_.

Options :

1. ✔ Repo rate
2. ✖ Reverse repo rate
3. ✖ Bank rate
4. ✖ Marginal rate

Question Number : 23 Question Id : 71939922059 Question Type : MCQ Option Shuffling : Yes Display Question Number : Yes  
Single Line Question Option : No Option Orientation : Vertical

Correct Marks : 1 Wrong Marks : 0.25

वह ब्याज दर (निश्चित) जिस पर रिज़र्व बैंक तरलता समायोजन सुविधा (एलएएफ) के तहत सरकार और अन्य अनुमोदित प्रतिभूतियों के समपार्श्व के खिलाफ बैंकों को रातोंरात तरलता प्रदान करता है, \_\_\_\_\_ के रूप में जाना जाता है।

Options :

1. ✔ रेपो दर
2. ✖ रिवर्स रेपो दर
3. ✖ बैंक दर
4. ✖ सीमांत दर

Question Number : 24 Question Id : 71939922060 Question Type : MCQ Option Shuffling : Yes Display Question Number : Yes  
Single Line Question Option : No Option Orientation : Vertical

Correct Marks : 1 Wrong Marks : 0.25

\_\_\_\_\_ is also responsible for maintenance and management of data on inward foreign direct investment into India based on the remittances reported by the Reserve Bank of India.

Options :

1. ✖ SEBI
2. ✔ Department for Promotion of Industry and Internal Trade
3. ✖ RBI
4. ✖ NABARD

Question Number : 24 Question Id : 71939922060 Question Type : MCQ Option Shuffling : Yes Display Question Number : Yes  
Single Line Question Option : No Option Orientation : Vertical



Correct Marks : 1 Wrong Marks : 0.25

भारतीय रिज़र्व बैंक द्वारा रिपोर्ट किए गए प्रेषण के आधार पर भारत में आवक प्रत्यक्ष विदेशी निवेश पर डेटा के रखरखाव और प्रबंधन के लिए \_\_\_\_\_ भी जिम्मेदार है।

Options :

1. ✖ सेबी
2. ✔ उद्योग संवर्धन और आंतरिक व्यापार विभाग
3. ✖ आर.बी.आई
4. ✖ नाबार्ड

Question Number : 25 Question Id : 71939922061 Question Type : MCQ Option Shuffling : Yes Display Question Number : Yes  
Single Line Question Option : No Option Orientation : Vertical

Correct Marks : 1 Wrong Marks : 0.25

Which of the following element doesn't react with diluted hydrochloric acid even on heating but reacts with sulphuric acid?

Options :

1. ✖ Magnesium
2. ✖ Sodium
3. ✖ Iron
4. ✔ Copper

Question Number : 25 Question Id : 71939922061 Question Type : MCQ Option Shuffling : Yes Display Question Number : Yes  
Single Line Question Option : No Option Orientation : Vertical

Correct Marks : 1 Wrong Marks : 0.25

निम्नलिखित में से कौन सा तत्व तनु हाइड्रोक्लोरिक अम्ल से गर्म करने पर भी अभिक्रिया नहीं करता, परन्तु यह सल्फ्यूरिक अम्ल से अभिक्रिया कर लेता है?

Options :

1. ✖ मैग्नीशियम
2. ✖ सोडियम
3. ✖ लोहा
4. ✔ कॉपर

Question Number : 26 Question Id : 71939922062 Question Type : MCQ Option Shuffling : Yes Display Question Number : Yes  
Single Line Question Option : No Option Orientation : Vertical

Correct Marks : 1 Wrong Marks : 0.25

\_\_\_\_\_ is present at the growing tips of stems and roots and increases their length.

Options :

1. ✖ Lateral meristem
2. ✖ Intercalary meristem
3. ✔ Apical meristem
4. ✖ Xylem

Question Number : 26 Question Id : 71939922062 Question Type : MCQ Option Shuffling : Yes Display Question Number : Yes  
Single Line Question Option : No Option Orientation : Vertical

Correct Marks : 1 Wrong Marks : 0.25

\_\_\_\_\_ जड़ों एवं तनों की वृद्धि वाले भाग में विद्यमान रहता है तथा वह इनकी लंबाई में वृद्धि करता है।

Options :

1. ✖ पार्श्व विभज्योतक
2. ✖ अंतर्विष्ट विभज्योतक
3. ✔ शीर्षस्थ विभज्योतक

4. ✖ जाइलम

Question Number : 27 Question Id : 71939922063 Question Type : MCQ Option Shuffling : Yes Display Question Number : Yes  
Single Line Question Option : No Option Orientation : Vertical

Correct Marks : 1 Wrong Marks : 0.25

Which of the following statements regarding ultrasound is correct?

I. Ultrasound is employed to break small 'stones' formed in the kidneys into fine grains.

II. In echocardiography technique, ultrasonic waves are made to reflect from various parts of the heart and form the image of the heart.

Options :

1. ✖ Only I
2. ✖ Only II
3. ✔ Both I and II
4. ✖ Neither I nor II

Question Number : 27 Question Id : 71939922063 Question Type : MCQ Option Shuffling : Yes Display Question Number : Yes  
Single Line Question Option : No Option Orientation : Vertical

Correct Marks : 1 Wrong Marks : 0.25

परीध्वनि के संबंध में निम्नलिखित में से कौन सा कथन सही है?

I. परीध्वनि का उपयोग गुर्दे की छोटी पथरी को बारीक कणों में तोड़ने के लिए किया जाता है।

II. इकोकार्डियोग्राफी तकनीक में पराध्वनि तरंगों को हृदय के विभिन्न भागों से परावर्तित करा कर हृदय का प्रतिबिंब बनाया जाता है।

Options :

1. ✖ केवल I
2. ✖ केवल II
3. ✔ I तथा II दोनों
4. ✖ ना ही I ना ही II

Question Number : 28 Question Id : 71939922064 Question Type : MCQ Option Shuffling : Yes Display Question Number : Yes  
Single Line Question Option : No Option Orientation : Vertical

Correct Marks : 1 Wrong Marks : 0.25

Which of the following rivers drains Chotanagpur Plateau?

Options :

1. ✔ Damodar river
2. ✖ Chambal river
3. ✖ Brahmaputra river
4. ✖ Godavari river

Question Number : 28 Question Id : 71939922064 Question Type : MCQ Option Shuffling : Yes Display Question Number : Yes  
Single Line Question Option : No Option Orientation : Vertical

Correct Marks : 1 Wrong Marks : 0.25

निम्नलिखित में से कौन सी नदी छोटानागपुर पठार को अपवाहित करता है?

Options :

1. ✔ दामोदर नदी
2. ✖ चंबल नदी
3. ✖ ब्रह्मपुत्र नदी
4. ✖ गोदावरी नदी

Question Number : 29 Question Id : 71939922065 Question Type : MCQ Option Shuffling : Yes Display Question Number : Yes  
Single Line Question Option : No Option Orientation : Vertical

Correct Marks : 1 Wrong Marks : 0.25

Indira Sagar Dam is built on which river and in which state?

Options :

1. ✖ Pench - Maharashtra
2. ✖ Pench - Madhya Pradesh
3. ✖ Narmada - Maharashtra
4. ✔ Narmada - Madhya Pradesh

Question Number : 29 Question Id : 71939922065 Question Type : MCQ Option Shuffling : Yes Display Question Number : Yes  
Single Line Question Option : No Option Orientation : Vertical

Correct Marks : 1 Wrong Marks : 0.25

इंदिरा सागर बांध किस नदी पर बना है तथा किस राज्य में है?

Options :

1. ✖ पेंच - महाराष्ट्र
2. ✖ पेंच - मध्य प्रदेश
3. ✖ नर्मदा - महाराष्ट्र
4. ✔ नर्मदा - मध्य प्रदेश

Question Number : 30 Question Id : 71939922066 Question Type : MCQ Option Shuffling : Yes Display Question Number : Yes  
Single Line Question Option : No Option Orientation : Vertical

Correct Marks : 1 Wrong Marks : 0.25

\_\_\_\_\_ is rich in soil nutrients, such as calcium carbonate, magnesium, potash and lime.

Options :

1. ✔ Black Soil
2. ✖ Alluvial Soil
3. ✖ Arid Soil
4. ✖ Laterite Soil

Question Number : 30 Question Id : 71939922066 Question Type : MCQ Option Shuffling : Yes Display Question Number : Yes  
Single Line Question Option : No Option Orientation : Vertical

Correct Marks : 1 Wrong Marks : 0.25

\_\_\_\_\_ पौष्टिक तत्वों, जैसे कैल्शियम कार्बोनेट, मैग्नीशियम, पोटैश और चूना से परिपूर्ण होती हैं।

Options :

1. ✔ काली मृदा
2. ✖ जलोढ़ मृदा
3. ✖ मरुस्थली मृदा
4. ✖ लेटाइट मृदा

Question Number : 31 Question Id : 71939922067 Question Type : MCQ Option Shuffling : Yes Display Question Number : Yes  
Single Line Question Option : No Option Orientation : Vertical

Correct Marks : 1 Wrong Marks : 0.25

Capital of the kingdom of the Pallavas was \_\_\_\_\_.

Options :

1. ✖ Kanauj
2. ✖ Madras
3. ✔ Kanchipuram

#### 4. ✖ Mysore

Question Number : 31 Question Id : 71939922067 Question Type : MCQ Option Shuffling : Yes Display Question Number : Yes  
Single Line Question Option : No Option Orientation : Vertical

Correct Marks : 1 Wrong Marks : 0.25

पल्लवों के राज्य की राजधानी \_\_\_\_\_ थी।

Options :

1. ✖ कन्नौज
2. ✖ मद्रास
3. ✔ काँचीपुरम
4. ✖ मैसूर

Question Number : 32 Question Id : 71939922068 Question Type : MCQ Option Shuffling : Yes Display Question Number : Yes  
Single Line Question Option : No Option Orientation : Vertical

Correct Marks : 1 Wrong Marks : 0.25

Which of the following statements regarding Brahmo Samaj is incorrect?

Options :

1. ✖ It prohibited all forms of idoltary and sacrifice.
2. ✔ It didn't believe in the Upanishads.
3. ✖ It forbade its members from criticising other religious practices.
4. ✖ It critically drew upon the ideals of religions Hinduism and Christianity.

Question Number : 32 Question Id : 71939922068 Question Type : MCQ Option Shuffling : Yes Display Question Number : Yes  
Single Line Question Option : No Option Orientation : Vertical

Correct Marks : 1 Wrong Marks : 0.25

ब्रह्मों समाज के बारे में निम्नलिखित में से कौन सा कथन गलत है?

Options :

1. ✖ यह सभी प्रकार की मूर्ति पूजा और बलि के विरुद्ध थी।
2. ✔ यह उपनिषदों में विश्वास नहीं रखती थी।
3. ✖ इसके सदस्यों को अन्य धार्मिक प्रथाओं या परंपराओं की आलोचना करने का अधिकार नहीं था।
4. ✖ यह हिंदुत्व तथा ईसाई धर्म के आदर्शों की आलोचनात्मक व्याख्या करते थे।

Question Number : 33 Question Id : 71939922069 Question Type : MCQ Option Shuffling : Yes Display Question Number : Yes  
Single Line Question Option : No Option Orientation : Vertical

Correct Marks : 1 Wrong Marks : 0.25

Ashvaghosha, a poet who composed a biography of the Buddha, the Buddhacharita, lived in the court of which ruler?

Options :

1. ✖ Ashoka
2. ✖ Gautamiputra Shri Satakarni
3. ✔ Kanishka
4. ✖ Bindusara

Question Number : 33 Question Id : 71939922069 Question Type : MCQ Option Shuffling : Yes Display Question Number : Yes  
Single Line Question Option : No Option Orientation : Vertical

Correct Marks : 1 Wrong Marks : 0.25

एक कवि अश्वघोष, जिन्होंने बुद्ध की जीवनी बुद्धचरित की रचना की थी, वह किस शासक के दरबार में रहते थे?

Options :

1. ✖ अशोक

2. ✖ गौतमीपुत्र श्री सतकर्णी
3. ✔ कनिष्क
4. ✖ बिन्दुसार

Question Number : 34 Question Id : 71939922070 Question Type : MCQ Option Shuffling : Yes Display Question Number : Yes  
Single Line Question Option : No Option Orientation : Vertical

Correct Marks : 1 Wrong Marks : 0.25

Who was appointed as the Chairman of Association of World Election Bodies (AWEB) for the term 2019-21?

Options :

1. ✖ S. Y. Quraishi
2. ✔ Sunil Arora
3. ✖ Hari Shankar Brahma
4. ✖ V. S. Sampath

Question Number : 34 Question Id : 71939922070 Question Type : MCQ Option Shuffling : Yes Display Question Number : Yes  
Single Line Question Option : No Option Orientation : Vertical

Correct Marks : 1 Wrong Marks : 0.25

2019-21 के कार्यकाल के लिए एसोसिएशन ऑफ वर्ल्ड इलेक्शन बॉडीज़ (ए डब्लू इ बी) के अध्यक्ष के रूप में किसे नियुक्त किया गया?

Options :

1. ✖ एस. वाई. कुरैशी
2. ✔ सुनील अरोड़ा
3. ✖ हरि शंकर ब्रह्मा
4. ✖ वी. एस. संपत

Question Number : 35 Question Id : 71939922071 Question Type : MCQ Option Shuffling : Yes Display Question Number : Yes  
Single Line Question Option : No Option Orientation : Vertical

Correct Marks : 1 Wrong Marks : 0.25

Which of the following project was launched by Khadi and Village Industries Commission (KVIC) to make carry bags by mixing processed and treated plastic waste with cotton fibre rags?

Options :

1. ✖ REPLACE
2. ✔ REPLAN
3. ✖ REUSE
4. ✖ RE-INVEST

Question Number : 35 Question Id : 71939922071 Question Type : MCQ Option Shuffling : Yes Display Question Number : Yes  
Single Line Question Option : No Option Orientation : Vertical

Correct Marks : 1 Wrong Marks : 0.25

खादी और ग्रामोद्योग आयोग (के वी आई सी) द्वारा निम्नलिखित में से किस परियोजना की शुरुआत कपास और रेशे के साथ संसाधित और उपचारित प्लास्टिक अवशेष को मिलाकर कैरी बैग बनाने के लिए की गई थी?

Options :

1. ✖ रिप्लेस
2. ✔ रिप्लान
3. ✖ रीयूज़
4. ✖ री - इन्वेस्ट

Question Number : 36 Question Id : 71939922072 Question Type : MCQ Option Shuffling : Yes Display Question Number : Yes  
Single Line Question Option : No Option Orientation : Vertical

Correct Marks : 1 Wrong Marks : 0.25

Who is the head of the committee that has been constituted by the Union Government to oversee the bifurcation of Jammu and Kashmir (J&K) into Union Territories?

Options :

- ✖ Ajit Doval
- ✖ Sunil Mehta
- ✔ Sanjay Mitra
- ✖ Ram Madhav

Question Number : 36 Question Id : 71939922072 Question Type : MCQ Option Shuffling : Yes Display Question Number : Yes  
Single Line Question Option : No Option Orientation : Vertical

Correct Marks : 1 Wrong Marks : 0.25

जम्मू-कश्मीर (जम्मू-कश्मीर) को संघ राज्य क्षेत्रों में विभाजित करने की देखरेख के लिए केंद्र सरकार द्वारा गठित समिति के प्रमुख कौन हैं?

Options :

- ✖ अजीत डोभाल
- ✖ सुनील मेहता
- ✔ संजय मित्रा
- ✖ राम माधव

Question Number : 37 Question Id : 71939922073 Question Type : MCQ Option Shuffling : Yes Display Question Number : Yes  
Single Line Question Option : No Option Orientation : Vertical

Correct Marks : 1 Wrong Marks : 0.25

"Method of election of the President" provision has been borrowed by Indian constitution from \_\_\_\_\_.

Options :

- ✖ USA Constitution
- ✔ Irish Constitution
- ✖ Canadian Constitution
- ✖ Australian Constitution

Question Number : 37 Question Id : 71939922073 Question Type : MCQ Option Shuffling : Yes Display Question Number : Yes  
Single Line Question Option : No Option Orientation : Vertical

Correct Marks : 1 Wrong Marks : 0.25

"राष्ट्रपति की निर्वाचन प्रणालि" प्रावधान भारतीय संविधान द्वारा \_\_\_\_\_ से उधार लिये गये हैं।

Options :

- ✖ संयुक्त राज्य अमेरिका का संविधान
- ✔ आयरलैंड का संविधान
- ✖ कनाडा का संविधान
- ✖ ऑस्ट्रेलिया का संविधान

Question Number : 38 Question Id : 71939922074 Question Type : MCQ Option Shuffling : Yes Display Question Number : Yes  
Single Line Question Option : No Option Orientation : Vertical

Correct Marks : 1 Wrong Marks : 0.25

Which of the following special powers are bestowed upon council of states by Indian constitution which are not enjoyed by House of people?

I. It can authorize the Parliament to create new All-India services common to both the centre and state.

II. It can authorize the Parliament to make a law on a subject enumerated in the state list.

Options :

- ✖ Only I
- ✖ Only II

3. ☒ Both I and II
4. ☐ Neither I nor II

Question Number : 38 Question Id : 71939922074 Question Type : MCQ Option Shuffling : Yes Display Question Number : Yes  
Single Line Question Option : No Option Orientation : Vertical

Correct Marks : 1 Wrong Marks : 0.25

भारतीय संविधान द्वारा निम्नलिखित में से कौन-सी शक्तियाँ राज्यसभा को दी गई हैं जिनका लाभ लोक सभा द्वारा नहीं उठाया जाता है?

- I. यह संसद को केन्द्र एवं राज्य दोनों के लिए नयी अखिल भारतीय सेवा के सृजन हेतु अधिकृत कर सकती है
- II. यह संसद को राज्यसूची में से विधि बनाने हेतु अधिकृत कर सकती है

Options :

1. ☐ केवल I
2. ☐ केवल II
3. ☒ I तथा II दोनों
4. ☐ ना ही I ना ही II

Question Number : 39 Question Id : 71939922075 Question Type : MCQ Option Shuffling : Yes Display Question Number : Yes  
Single Line Question Option : No Option Orientation : Vertical

Correct Marks : 1 Wrong Marks : 0.25

FIFA World Cup 2022 will be hosted by which country?

Options :

1. ☒ Qatar
2. ☐ Brazil
3. ☐ France
4. ☐ Saudi Arabia

Question Number : 39 Question Id : 71939922075 Question Type : MCQ Option Shuffling : Yes Display Question Number : Yes  
Single Line Question Option : No Option Orientation : Vertical

Correct Marks : 1 Wrong Marks : 0.25

फीफा विश्व कप 2022 की मेजबानी किस देश द्वारा की जाएगी?

Options :

1. ☒ कतर
2. ☐ ब्राजील
3. ☐ फ्रांस
4. ☐ सऊदी अरब

Question Number : 40 Question Id : 71939922076 Question Type : MCQ Option Shuffling : Yes Display Question Number : Yes  
Single Line Question Option : No Option Orientation : Vertical

Correct Marks : 1 Wrong Marks : 0.25

2019 Asian Snooker Championship was won by\_\_\_\_\_.

Options :

1. ☐ Subhash Aggarwal
2. ☐ Lucky Vatnani
3. ☒ Pankaj Advani
4. ☐ Yasin Merchant

Question Number : 40 Question Id : 71939922076 Question Type : MCQ Option Shuffling : Yes Display Question Number : Yes  
Single Line Question Option : No Option Orientation : Vertical

Correct Marks : 1 Wrong Marks : 0.25

2019 एशियाई खूकर चैम्पियनशिप \_\_\_\_\_ द्वारा जीता गया था।

Options :

1. ✖ सुभाष अग्रवाल
2. ✖ लकी वतनानी
3. ✔ पंकज आडवाणी
4. ✖ यासीन मर्चेंट

#### Arithmetic Ability

Group Number :	3
Group Id :	719399861
Group Maximum Duration :	0
Group Minimum Duration :	0
Revisit allowed for view? :	No
Revisit allowed for edit? :	No
Break time:	0
Group Marks:	20
Revisit allowed for group Instructions? :	Yes
Maximum Instruction Time:	0
Minimum Instruction Time:	0

#### Arithmetic Ability

Section Id :	719399971
Section Number :	1
Section type :	Online
Mandatory or Optional:	Mandatory
Number of Questions:	20
Number of Questions to be attempted:	20
Section Marks:	20
Display Number Panel:	Yes
Group All Questions:	No

Sub-Section Number:	1
Sub-Section Id:	7193991167
Question Shuffling Allowed :	Yes

Question Number : 41 Question Id : 71939922077 Question Type : MCQ Option Shuffling : Yes Display Question Number : Yes  
Single Line Question Option : No Option Orientation : Vertical  
Correct Marks : 1 Wrong Marks : 0.25

What is the value of x :  $\sqrt[3]{3x-8} - 4 = 0$  ?

Options :

1. ✖ 12
2. ✔ 24
3. ✖ 36
4. ✖ 7



Question Number : 41 Question Id : 71939922077 Question Type : MCQ Option Shuffling : Yes Display Question Number : Yes  
Single Line Question Option : No Option Orientation : Vertical

Correct Marks : 1 Wrong Marks : 0.25

$$\sqrt[3]{3x-8} - 4 = 0, x \text{ का मान क्या है?}$$

Options :

- 1. ✖ 12
- 2. ✔ 24
- 3. ✖ 36
- 4. ✖ 7

Question Number : 42 Question Id : 71939922078 Question Type : MCQ Option Shuffling : Yes Display Question Number : Yes  
Single Line Question Option : No Option Orientation : Vertical

Correct Marks : 1 Wrong Marks : 0.25

If sum of two numbers is 15 and sum of their square is 113, then what is the product of two numbers?

Options :

- 1. ✔ 56
- 2. ✖ 112
- 3. ✖ 50
- 4. ✖ 28

Question Number : 42 Question Id : 71939922078 Question Type : MCQ Option Shuffling : Yes Display Question Number : Yes  
Single Line Question Option : No Option Orientation : Vertical

Correct Marks : 1 Wrong Marks : 0.25

यदि दो संख्याओं का योग 15 है तथा उसके वर्ग का योग 113 है, तो दो संख्याओं का गुणनफल क्या है?

Options :

- 1. ✔ 56
- 2. ✖ 112
- 3. ✖ 50
- 4. ✖ 28

Question Number : 43 Question Id : 71939922079 Question Type : MCQ Option Shuffling : Yes Display Question Number : Yes  
Single Line Question Option : No Option Orientation : Vertical

Correct Marks : 1 Wrong Marks : 0.25

What will be the ratio of the Least Common Multiple and Highest Common Factor of the 10, 20 and 30?

Options :

- 1. ✖ 2 : 1
- 2. ✖ 4 : 1
- 3. ✔ 6 : 1
- 4. ✖ 8 : 1

Question Number : 43 Question Id : 71939922079 Question Type : MCQ Option Shuffling : Yes Display Question Number : Yes  
Single Line Question Option : No Option Orientation : Vertical

Correct Marks : 1 Wrong Marks : 0.25

10, 20 तथा 30 के लघुत्तम समापवर्त्य तथा महत्तम समापवर्तक का अनुपात क्या होगा?

Options :

- 1. ✖ 2 : 1
- 2. ✖ 4 : 1

3. ✓ 6 : 1

4. ✗ 8 : 1

Question Number : 44 Question Id : 71939922080 Question Type : MCQ Option Shuffling : Yes Display Question Number : Yes  
Single Line Question Option : No Option Orientation : Vertical

Correct Marks : 1 Wrong Marks : 0.25

If  $A = (243)^{0.12} \times (243)^{0.08}$  and  $B = \left(\frac{1}{216}\right)^{-2/3} \div \left(\frac{1}{27}\right)^{-4/3}$

then what is the value of B/A?

Options :

1. ✓ 4/27

2. ✗ 4/3

3. ✗ 8/3

4. ✗ 3/4

Question Number : 44 Question Id : 71939922080 Question Type : MCQ Option Shuffling : Yes Display Question Number : Yes  
Single Line Question Option : No Option Orientation : Vertical

Correct Marks : 1 Wrong Marks : 0.25

यदि  $A = (243)^{0.12} \times (243)^{0.08}$  तथा  $B = \left(\frac{1}{216}\right)^{-2/3} \div \left(\frac{1}{27}\right)^{-4/3}$  तो B/A का मान क्या है?

Options :

1. ✓ 4/27

2. ✗ 4/3

3. ✗ 8/3

4. ✗ 3/4

Question Number : 45 Question Id : 71939922081 Question Type : MCQ Option Shuffling : Yes Display Question Number : Yes  
Single Line Question Option : No Option Orientation : Vertical

Correct Marks : 1 Wrong Marks : 0.25

What is the greatest 5 digit number which when divided by 4 and 5 leaves remainder 3?

Options :

1. ✗ 99928

2. ✗ 99953

3. ✓ 99983

4. ✗ 99987

Question Number : 45 Question Id : 71939922081 Question Type : MCQ Option Shuffling : Yes Display Question Number : Yes  
Single Line Question Option : No Option Orientation : Vertical

Correct Marks : 1 Wrong Marks : 0.25

5 अंको की सबसे बड़ी संख्या क्या है जिसे 4 तथा 5 से विभाजित करने पर 3 शेष बचता है?

Options :

1. ✗ 99928

2. ✗ 99953

3. ✓ 99983

4. ✗ 99987

Question Number : 46 Question Id : 71939922082 Question Type : MCQ Option Shuffling : Yes Display Question Number : Yes  
Single Line Question Option : No Option Orientation : Vertical

Correct Marks : 1 Wrong Marks : 0.25

Discount offered on selling a watch is Rs. 2016. If the marked price of this watch is Rs. 7200, then what is the discounted percentage?

Options :

1. ✖ 32 percent
2. ✖ 26 percent
3. ✖ 34 percent
4. ✔ 28 percent

Question Number : 46 Question Id : 71939922082 Question Type : MCQ Option Shuffling : Yes Display Question Number : Yes  
Single Line Question Option : No Option Orientation : Vertical

Correct Marks : 1 Wrong Marks : 0.25

एक घड़ी को बेचने पर दी गयी छूट 2016 रुपये है। यदि इस घड़ी का अंकित मूल्य 7200 रुपये है, तो छूट प्रतिशत क्या है?

Options :

1. ✖ 32 प्रतिशत
2. ✖ 26 प्रतिशत
3. ✖ 34 प्रतिशत
4. ✔ 28 प्रतिशत

Question Number : 47 Question Id : 71939922083 Question Type : MCQ Option Shuffling : Yes Display Question Number : Yes  
Single Line Question Option : No Option Orientation : Vertical

Correct Marks : 1 Wrong Marks : 0.25

If A is 14.28% less than B, then B is how much percentage more than A?

Options :

1. ✔ 16.66 percent
2. ✖ 12.5 percent
3. ✖ 20 percent
4. ✖ 25 percent

Question Number : 47 Question Id : 71939922083 Question Type : MCQ Option Shuffling : Yes Display Question Number : Yes  
Single Line Question Option : No Option Orientation : Vertical

Correct Marks : 1 Wrong Marks : 0.25

यदि A, B से 14.28% कम है, तो B, A से कितना प्रतिशत अधिक है।

Options :

1. ✔ 16.66 प्रतिशत
2. ✖ 12.5 प्रतिशत
3. ✖ 20 प्रतिशत
4. ✖ 25 प्रतिशत

Question Number : 48 Question Id : 71939922084 Question Type : MCQ Option Shuffling : Yes Display Question Number : Yes  
Single Line Question Option : No Option Orientation : Vertical

Correct Marks : 1 Wrong Marks : 0.25

A is 30% of B. C is 45% of B. B is how much percentage less than (A + B + C)?

Options :

1. ✖ 57.14 percent
2. ✔ 42.86 percent

- 3. ✖ 28.56 percent
- 4. ✖ 32.56 percent

Question Number : 48 Question Id : 71939922084 Question Type : MCQ Option Shuffling : Yes Display Question Number : Yes  
Single Line Question Option : No Option Orientation : Vertical

Correct Marks : 1 Wrong Marks : 0.25

A, B का 30% है। C, B का 45% है। B, (A + B + C) से कितना प्रतिशत कम है?

Options :

- 1. ✖ 57.14 प्रतिशत
- 2. ✔ 42.86 प्रतिशत
- 3. ✖ 28.56 प्रतिशत
- 4. ✖ 32.56 प्रतिशत

Question Number : 49 Question Id : 71939922085 Question Type : MCQ Option Shuffling : Yes Display Question Number : Yes  
Single Line Question Option : No Option Orientation : Vertical

Correct Marks : 1 Wrong Marks : 0.25

A sold a table to B at a profit of 40%, B sold it to D at a profit of 60%. W sold a chair L to X at the loss of 20%, X sold it to P at a loss of 30% and finally P sold it to G at a loss of 50%. Price at which D bought the table from B and the Price at which P bought the chair from X is same. If the price at which W bought the chair is Rs. 600, then at what price D bought table?

Options :

- 1. ✖ Rs. 396
- 2. ✖ Rs. 219
- 3. ✖ Rs. 348
- 4. ✔ Rs. 336

Question Number : 49 Question Id : 71939922085 Question Type : MCQ Option Shuffling : Yes Display Question Number : Yes  
Single Line Question Option : No Option Orientation : Vertical

Correct Marks : 1 Wrong Marks : 0.25

A ने एक मेज, B को 40% के लाभ पर बेची, B ने उसे D को 60% के लाभ पर बेचा। W ने एक कुर्सी, X को 20% की हानि पर बेची, X ने P को 30% की हानि पर बेची तथा अंततः P ने G को 50% की हानि पर बेची। वह मूल्य जिस पर D ने B से मेज खरीदी तथा वह मूल्य जिस पर P ने X से कुर्सी खरीदी समान है। यदि वह मूल्य जिस पर W ने कुर्सी खरीदी 600 रुपये है, तो D ने मेज किस मूल्य पर खरीदी?

Options :

- 1. ✖ 396 रुपये
- 2. ✖ 219 रुपये
- 3. ✖ 348 रुपये
- 4. ✔ 336 रुपये

Question Number : 50 Question Id : 71939922086 Question Type : MCQ Option Shuffling : Yes Display Question Number : Yes  
Single Line Question Option : No Option Orientation : Vertical

Correct Marks : 1 Wrong Marks : 0.25

P, Q and R are partners in a company. In any year P receives  $\frac{1}{6}$  part of profit, Q receives  $\frac{1}{5}$  part and R receives Rs. 38000. How much amount will P get as profit?

Options :

- 1. ✖ Rs. 8000
- 2. ✔ Rs. 10000
- 3. ✖ Rs. 6000
- 4. ✖ Rs. 9000

Question Number : 50 Question Id : 71939922086 Question Type : MCQ Option Shuffling : Yes Display Question Number : Yes  
Single Line Question Option : No Option Orientation : Vertical

Correct Marks : 1 Wrong Marks : 0.25

P, Q तथा R एक कंपनी में साझेदार हैं। किसी एक वर्ष में P लाभ का  $\frac{1}{6}$  भाग प्राप्त करता है, Q,  $\frac{1}{5}$  भाग प्राप्त करता है तथा R, 38000 रुपये प्राप्त करता है। P को लाभ के रूप में कितनी राशि प्राप्त होगी?

Options :

1. ✖ 8000 रुपये
2. ✔ 10000 रुपये
3. ✖ 6000 रुपये
4. ✖ 9000 रुपये

Question Number : 51 Question Id : 71939922087 Question Type : MCQ Option Shuffling : Yes Display Question Number : Yes  
Single Line Question Option : No Option Orientation : Vertical

Correct Marks : 1 Wrong Marks : 0.25

Containers I and II have milk and water in the ratio of 4 : 5 and 8 : 3 respectively. In what ratio Container I and Container II should be mixed to get a new mixture in which milk and water are in the ratio of 16 : 13?

Options :

1. ✔ 18 : 11
2. ✖ 12 : 25
3. ✖ 23 : 11
4. ✖ 28 : 13

Question Number : 51 Question Id : 71939922087 Question Type : MCQ Option Shuffling : Yes Display Question Number : Yes  
Single Line Question Option : No Option Orientation : Vertical

Correct Marks : 1 Wrong Marks : 0.25

कंटेनर I तथा II में दूध तथा पानी का अनुपात क्रमशः 4 : 5 तथा 8 : 3 है। 16 : 13 के अनुपात में दूध तथा पानी वाला मिश्रण प्राप्त करने के लिए कंटेनर I तथा कंटेनर II को किस अनुपात में मिलाया जाये?

Options :

1. ✔ 18 : 11
2. ✖ 12 : 25
3. ✖ 23 : 11
4. ✖ 28 : 13

Question Number : 52 Question Id : 71939922088 Question Type : MCQ Option Shuffling : Yes Display Question Number : Yes  
Single Line Question Option : No Option Orientation : Vertical

Correct Marks : 1 Wrong Marks : 0.25

Compound interest received in the third year on a sum is Rs. 442. If the annual rate of interest is 15%, then how much compound interest will be received in the fourth year on the same sum? (Interest is compounded annually)

Options :

1. ✔ 508.3
2. ✖ 624.3
3. ✖ 514.3
4. ✖ 512.7

Question Number : 52 Question Id : 71939922088 Question Type : MCQ Option Shuffling : Yes Display Question Number : Yes  
Single Line Question Option : No Option Orientation : Vertical

Correct Marks : 1 Wrong Marks : 0.25

एक राशि पर तीसरे वर्ष में प्राप्त किया गया चक्रवृद्धि ब्याज 442 रुपये है। यदि ब्याज की वार्षिक दर 15% है, तो समान राशि पर चौथे वर्ष में कितना चक्रवृद्धि ब्याज प्राप्त होगा? (ब्याज का संयोजन वार्षिक रूप से किया गया है)

Options :

1. ✓ 508.3
2. ✗ 624.3
3. ✗ 514.3
4. ✗ 512.7

Question Number : 53 Question Id : 71939922089 Question Type : MCQ Option Shuffling : Yes Display Question Number : Yes  
Single Line Question Option : No Option Orientation : Vertical

Correct Marks : 1 Wrong Marks : 0.25

One-third of a certain journey is covered at the speed of 20 km/hr, one-fourth at the speed of 30 km/hr and the rest at the speed of 50 km/hr. what will be the average speed for the whole journey?

Options :

1. ✗ 20 km/hr
2. ✓ 30 km/hr
3. ✗ 35 km/hr
4. ✗ 25 km/hr

Question Number : 53 Question Id : 71939922089 Question Type : MCQ Option Shuffling : Yes Display Question Number : Yes  
Single Line Question Option : No Option Orientation : Vertical

Correct Marks : 1 Wrong Marks : 0.25

एक यात्रा का एक-तिहाई भाग 20 कि.मी./घंटा की गति से, एक-चौथाई भाग 30 कि.मी./घंटा की गति से तथा शेष भाग 50 कि.मी./घंटा की गति से तय किया जाता है। पूरी यात्रा के दौरान उसकी औसत गति क्या होगी?

Options :

1. ✗ 20 कि.मी./घंटा
2. ✓ 30 कि.मी./घंटा
3. ✗ 35 कि.मी./घंटा
4. ✗ 25 कि.मी./घंटा

Question Number : 54 Question Id : 71939922090 Question Type : MCQ Option Shuffling : Yes Display Question Number : Yes  
Single Line Question Option : No Option Orientation : Vertical

Correct Marks : 1 Wrong Marks : 0.25

Two trains leave P and Q towards Q and P at same time. Speeds of train moving from P and Q is 25 km/hr and 30 km/hr respectively. When they meet then it is known that the train coming from Q has travelled 10 km distance more than train coming from P. What is the distance between P and Q?

Options :

1. ✓ 110 km
2. ✗ 100 km
3. ✗ 120 km
4. ✗ 90 km

Question Number : 54 Question Id : 71939922090 Question Type : MCQ Option Shuffling : Yes Display Question Number : Yes  
Single Line Question Option : No Option Orientation : Vertical

Correct Marks : 1 Wrong Marks : 0.25

दो रेलगाड़ियाँ P तथा Q से Q तथा P के लिए एक ही समय पर निकलती हैं। P तथा Q से चलने वाली रेलगाड़ियों की गति क्रमशः 25 कि.मी./घंटा तथा 30 कि.मी./घंटा है। जब वह मिली तो यह पता चलता है कि Q से आ रही रेलगाड़ी ने P से आ रही रेलगाड़ी से 10 कि.मी. दूरी अधिक तय कर ली है। P तथा Q के बीच कितनी दूरी है?

Options :

1. ✓ 110 कि.मी.
2. ✗ 100 कि.मी.
3. ✗ 120 कि.मी.

4. ✖ 90 कि.मी.

Question Number : 55 Question Id : 71939922091 Question Type : MCQ Option Shuffling : Yes Display Question Number : Yes  
Single Line Question Option : No Option Orientation : Vertical

Correct Marks : 1 Wrong Marks : 0.25

A and B together can complete  $(\frac{3}{5})$  part of a work in 18 days. If A alone can complete  $(\frac{1}{3})$  part of the same work in 25 days, then in how many days B alone can complete  $(\frac{4}{5})$  part of the same work?

Options :

1. ✖ 48 days
2. ✖ 60 days
3. ✖ 35 days
4. ✔ 40 days

Question Number : 55 Question Id : 71939922091 Question Type : MCQ Option Shuffling : Yes Display Question Number : Yes  
Single Line Question Option : No Option Orientation : Vertical

Correct Marks : 1 Wrong Marks : 0.25

A तथा B मिलकर एक कार्य का  $(\frac{3}{5})$  भाग 18 दिन में पूरा कर सकते हैं। यदि A अकेला समान कार्य का  $(\frac{1}{3})$  भाग 25 दिन में पूरा कर सकता है, तो B अकेला समान कार्य का  $(\frac{4}{5})$  भाग कितने दिन में पूरा कर सकता है?

Options :

1. ✖ 48 दिन
2. ✖ 60 दिन
3. ✖ 35 दिन
4. ✔ 40 दिन

Question Number : 56 Question Id : 71939922092 Question Type : MCQ Option Shuffling : Yes Display Question Number : Yes  
Single Line Question Option : No Option Orientation : Vertical

Correct Marks : 1 Wrong Marks : 0.25

Volume of a cylinder is 4 times to the volume of a sphere. Their radius are equal. Sum of the radius and height of cylinder is 133 cm. What is the volume of sphere?

Options :

1. ✖ 40954 cm<sup>3</sup>
2. ✖ 35402 cm<sup>3</sup>
3. ✔ 38808 cm<sup>3</sup>
4. ✖ 36572 cm<sup>3</sup>

Question Number : 56 Question Id : 71939922092 Question Type : MCQ Option Shuffling : Yes Display Question Number : Yes  
Single Line Question Option : No Option Orientation : Vertical

Correct Marks : 1 Wrong Marks : 0.25

एक बेलन का आयतन एक गोले के आयतन का 4 गुना है। उनकी त्रिज्याएँ बराबर हैं। बेलन की त्रिज्या तथा ऊँचाई का योग 133 से.मी. है। गोले का आयतन क्या है?

Options :

1. ✖ 40954 से.मी.<sup>3</sup>
2. ✖ 35402 से.मी.<sup>3</sup>
3. ✔ 38808 से.मी.<sup>3</sup>
4. ✖ 36572 से.मी.<sup>3</sup>

Question Number : 57 Question Id : 71939922093 Question Type : MCQ Option Shuffling : Yes Display Question Number : Yes  
Single Line Question Option : No Option Orientation : Vertical

Correct Marks : 1 Wrong Marks : 0.25

Length of a rectangle PQRS is equal to the length of side AB of a triangle ABC. Height of triangle from base AB is 8 times to the breadth of rectangle PQRS. If the perimeter of rectangle is 100 cm and the area of a rectangle is 600 cm<sup>2</sup>, then what will be the area of triangle ABC?

Options :

1. ✖ 3600 cm<sup>2</sup>
2. ✖ 1200 cm<sup>2</sup>
3. ✖ 4800 cm<sup>2</sup>
4. ✔ 2400 cm<sup>2</sup>

Question Number : 57 Question Id : 71939922093 Question Type : MCQ Option Shuffling : Yes Display Question Number : Yes  
Single Line Question Option : No Option Orientation : Vertical

Correct Marks : 1 Wrong Marks : 0.25

एक आयत PQRS की लम्बाई एक त्रिभुज ABC की भुजा AB के बराबर है। आधार AB से त्रिभुज की ऊँचाई आयतन PQRS की चौड़ाई का 8 गुना है। यदि आयतन का परिमाण 100 से.मी. है तथा आयतन का क्षेत्रफल 600 से.मी.<sup>2</sup> है, तो त्रिभुज ABC का क्षेत्रफल क्या होगा?

Options :

1. ✖ 3600 से.मी.<sup>2</sup>
2. ✖ 1200 से.मी.<sup>2</sup>
3. ✖ 4800 से.मी.<sup>2</sup>

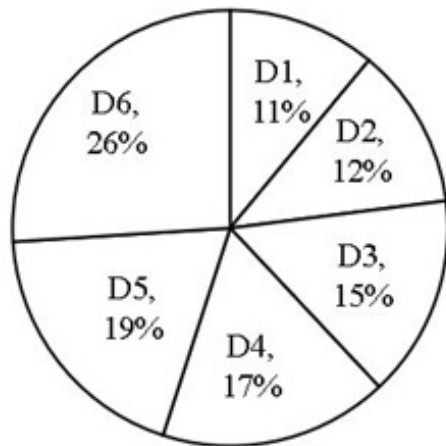


4. ✓ 2400 से.मी.<sup>2</sup>

Question Number : 58 Question Id : 71939922094 Question Type : MCQ Option Shuffling : Yes Display Question Number : Yes  
Single Line Question Option : No Option Orientation : Vertical

Correct Marks : 1 Wrong Marks : 0.25

The pie chart given below shows the number of eggs sold by a shopkeeper in different days. The number of eggs sold on particular day is shown as a percentage of total number of eggs sold on all days together.



If the total number of eggs sold are 1800, then what is the difference in number of eggs sold on day D6 and day D2?

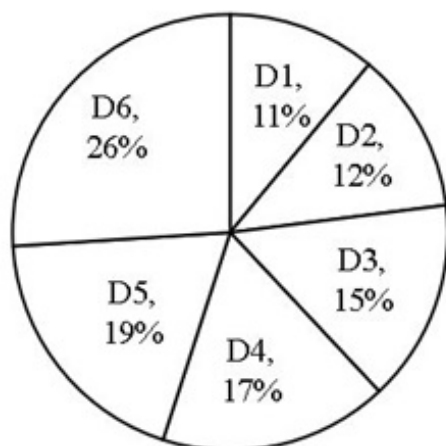
Options :

1. ✗ 242
2. ✗ 246
3. ✗ 250
4. ✓ 252

Question Number : 58 Question Id : 71939922094 Question Type : MCQ Option Shuffling : Yes Display Question Number : Yes  
Single Line Question Option : No Option Orientation : Vertical

Correct Marks : 1 Wrong Marks : 0.25

नीचे दिया गया वृत्त चित्र एक दुकानदार द्वारा विभिन्न दिन में बेचे गए अंडे की संख्या को दर्शाता है। किसी विशिष्ट दिन में बेचे गए अंडे की संख्या को सभी दिनों में मिलाकर बेचे गए कुल अंडे की संख्या के प्रतिशत के रूप में दर्शाया गया है।



यदि कुल 1800 अंडे बेचे गए हैं, तो D6 दिन तथा D2 दिन में बेचे गए अंडों की संख्या में कितना अंतर है?

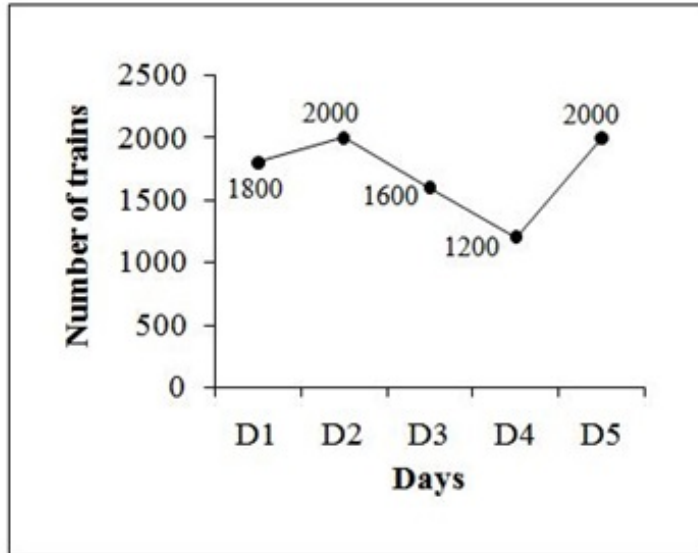
Options :

1. ✖ 242
2. ✖ 246
3. ✖ 250
4. ✔ 252

Question Number : 59 Question Id : 71939922095 Question Type : MCQ Option Shuffling : Yes Display Question Number : Yes  
Single Line Question Option : No Option Orientation : Vertical

Correct Marks : 1 Wrong Marks : 0.25

The line graph given below shows the number of trains departing from a station on different days of a week.



What is the ratio of the number of trains departing on day D5 to the total number of trains departing from the station on all 5 days?

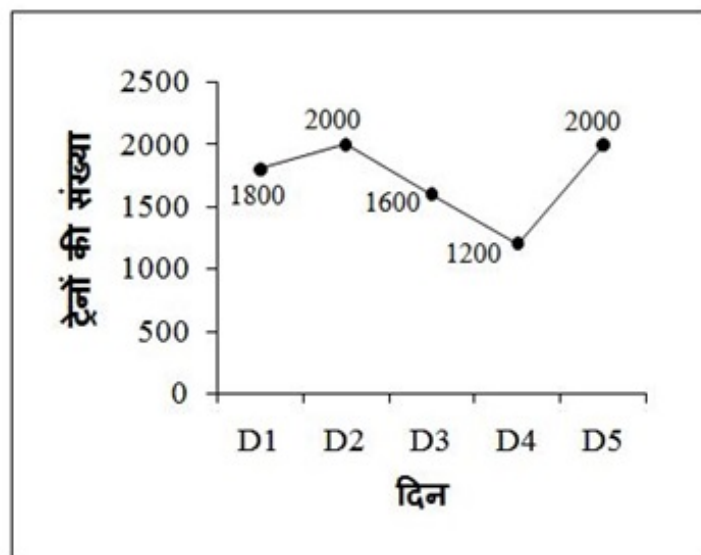
Options :

1. ✔ 10 : 43
2. ✖ 43 : 10
3. ✖ 10 : 33
4. ✖ 33 : 10

Question Number : 59 Question Id : 71939922095 Question Type : MCQ Option Shuffling : Yes Display Question Number : Yes  
Single Line Question Option : No Option Orientation : Vertical

Correct Marks : 1 Wrong Marks : 0.25

नीचे दिया गया रेखा चित्र सप्ताह के विभिन्न दिनों पर एक स्टेशन से जाने वाली रेलगाड़ियों की संख्या को दर्शाता है।



D5 दिन में जाने वाली रेलगाड़ियों की संख्या का सभी पाँच दिनों में स्टेशन से जाने वाली कुल रेलगाड़ियों की संख्या से क्या अनुपात है?

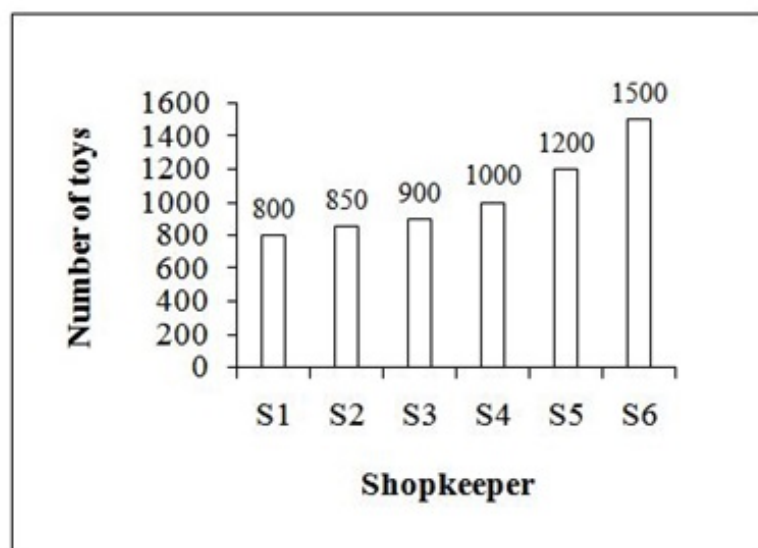
Options :

1. ✓ 10 : 43
2. ✗ 43 : 10
3. ✗ 10 : 33
4. ✗ 33 : 10

Question Number : 60 Question Id : 71939922096 Question Type : MCQ Option Shuffling : Yes Display Question Number : Yes Single Line Question Option : No Option Orientation : Vertical

Correct Marks : 1 Wrong Marks : 0.25

The bar graph given below shows the number of toys sold by different shopkeeper on a particular day.



What is the average number of toys sold by first 3 shopkeepers on that day?

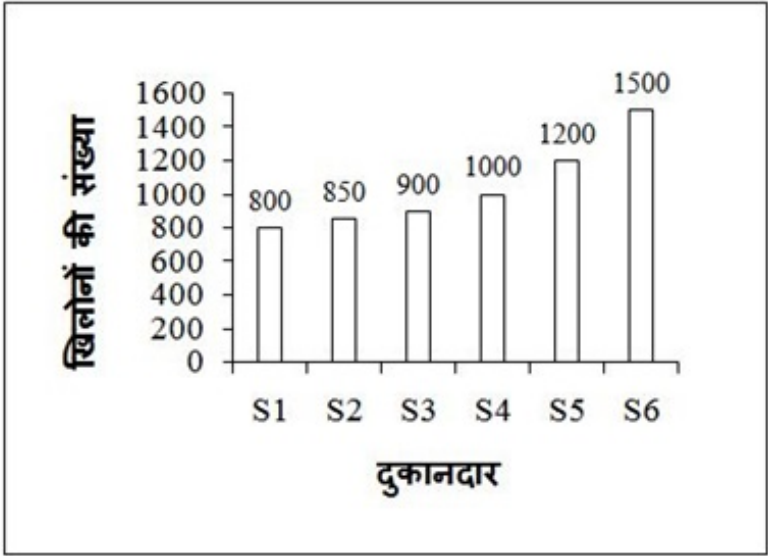
Options :

1. ✗ 750
2. ✗ 800
3. ✓ 850
4. ✗ 900

Question Number : 60 Question Id : 71939922096 Question Type : MCQ Option Shuffling : Yes Display Question Number : Yes  
Single Line Question Option : No Option Orientation : Vertical

Correct Marks : 1 Wrong Marks : 0.25

नीचे दिया गया दण्ड चित्र एक विशिष्ट दिन में विभिन्न दुकानदारों द्वारा बेचे गए खिलौनों की संख्या को दर्शाता है।



उस दिन पहले तीन दुकानदारों द्वारा बेचे गए खिलौनों की औसत संख्या क्या है?

Options :

- 1. ✗ 750
- 2. ✗ 800
- 3. ✓ 850
- 4. ✗ 900

General English

Group Number :	4
Group Id :	719399862
Group Maximum Duration :	0
Group Minimum Duration :	0
Revisit allowed for view? :	No
Revisit allowed for edit? :	No
Break time:	0
Group Marks:	20
Revisit allowed for group Instructions? :	Yes
Maximum Instruction Time:	0
Minimum Instruction Time:	0

General English

Section Id :	719399972
Section Number :	1
Section type :	Online
Mandatory or Optional:	Mandatory
Number of Questions:	16
Number of Questions to be attempted:	16
Section Marks:	20

Display Number Panel: Yes  
Group All Questions: No

Sub-Section Number: 1  
Sub-Section Id: 7193991168  
Question Shuffling Allowed : Yes

Question Number : 61 Question Id : 71939922097 Question Type : MCQ Option Shuffling : Yes Display Question Number : Yes  
Single Line Question Option : No Option Orientation : Vertical

Correct Marks : 1 Wrong Marks : 0.25

Find the part of the given sentence that has an error in it. If there is no error, choose 'No error'.

The young soldier (1)/ was brought (2)/ before a king (3)/ No error (4)

Options :

1. ✖ 1

2. ✖ 2

3. ✔ 3

4. ✖ 4

Question Number : 61 Question Id : 71939922097 Question Type : MCQ Option Shuffling : Yes Display Question Number : Yes  
Single Line Question Option : No Option Orientation : Vertical

Correct Marks : 1 Wrong Marks : 0.25

Find the part of the given sentence that has an error in it. If there is no error, choose 'No error'.

The young soldier (1)/ was brought (2)/ before a king (3)/ No error (4)

Options :

1. ✖ 1

2. ✖ 2

3. ✔ 3

4. ✖ 4

Question Number : 62 Question Id : 71939922098 Question Type : MCQ Option Shuffling : Yes Display Question Number : Yes  
Single Line Question Option : No Option Orientation : Vertical

Correct Marks : 1 Wrong Marks : 0.25

Find the part of the given sentence that has an error in it. If there is no error, choose 'No error'.

People always (1)/ admires a (2)/ courageous person (3)/ No error (4)

Options :

1. ✖ 1

2. ✔ 2

3. ✖ 3

4. ✖ 4

Question Number : 62 Question Id : 71939922098 Question Type : MCQ Option Shuffling : Yes Display Question Number : Yes  
Single Line Question Option : No Option Orientation : Vertical

Correct Marks : 1 Wrong Marks : 0.25

Find the part of the given sentence that has an error in it. If there is no error, choose 'No error'.

People always (1)/ admires a (2)/ courageous person (3)/ No error (4)

Options :

1. ✖ 1
2. ✔ 2
3. ✖ 3
4. ✖ 4

Question Number : 63 Question Id : 71939922099 Question Type : MCQ Option Shuffling : Yes Display Question Number : Yes  
Single Line Question Option : No Option Orientation : Vertical

Correct Marks : 1 Wrong Marks : 0.25

Improve the bracketed part of the sentence.

She kept us all (at) suspense regarding her future plans.

Options :

1. ✔ in
2. ✖ on
3. ✖ with
4. ✖ No improvement

Question Number : 63 Question Id : 71939922099 Question Type : MCQ Option Shuffling : Yes Display Question Number : Yes  
Single Line Question Option : No Option Orientation : Vertical

Correct Marks : 1 Wrong Marks : 0.25

Improve the bracketed part of the sentence.

She kept us all (at) suspense regarding her future plans.

Options :

1. ✔ in
2. ✖ on
3. ✖ with
4. ✖ No improvement

Question Number : 64 Question Id : 71939922100 Question Type : MCQ Option Shuffling : Yes Display Question Number : Yes  
Single Line Question Option : No Option Orientation : Vertical

Correct Marks : 1 Wrong Marks : 0.25

Improve the bracketed part of the sentence.

Don't lean against this wall, it (would) collapse.

Options :

1. ✖ must
2. ✖ shall
3. ✔ might
4. ✖ No improvement

Question Number : 64 Question Id : 71939922100 Question Type : MCQ Option Shuffling : Yes Display Question Number : Yes  
Single Line Question Option : No Option Orientation : Vertical

Correct Marks : 1 Wrong Marks : 0.25

Improve the bracketed part of the sentence.

Don't lean against this wall, it (would) collapse.

Options :

1. ✖ must
2. ✖ shall

3. ✓ might

4. ✗ No improvement

Question Number : 65 Question Id : 71939922101 Question Type : MCQ Option Shuffling : Yes Display Question Number : Yes  
Single Line Question Option : No Option Orientation : Vertical

Correct Marks : 1 Wrong Marks : 0.25

A sentence has been given with a blank to be filled with an appropriate word. Choose the correct alternative.

When are you \_\_\_\_\_ to write to your friend?

Options :

1. ✗ go

2. ✓ going

3. ✗ gone

4. ✗ goes

Question Number : 65 Question Id : 71939922101 Question Type : MCQ Option Shuffling : Yes Display Question Number : Yes  
Single Line Question Option : No Option Orientation : Vertical

Correct Marks : 1 Wrong Marks : 0.25

A sentence has been given with a blank to be filled with an appropriate word. Choose the correct alternative.

When are you \_\_\_\_\_ to write to your friend?

Options :

1. ✗ go

2. ✓ going

3. ✗ gone

4. ✗ goes

Question Number : 66 Question Id : 71939922102 Question Type : MCQ Option Shuffling : Yes Display Question Number : Yes  
Single Line Question Option : No Option Orientation : Vertical

Correct Marks : 1 Wrong Marks : 0.25

A sentence has been given with a blank to be filled with an appropriate word. Choose the correct alternative.

This is the bicycle \_\_\_\_\_ chain is broken.

Options :

1. ✓ whose

2. ✗ that

3. ✗ who's

4. ✗ that's

Question Number : 66 Question Id : 71939922102 Question Type : MCQ Option Shuffling : Yes Display Question Number : Yes  
Single Line Question Option : No Option Orientation : Vertical

Correct Marks : 1 Wrong Marks : 0.25

A sentence has been given with a blank to be filled with an appropriate word. Choose the correct alternative.

This is the bicycle \_\_\_\_\_ chain is broken.

Options :

1. ✓ whose

2. ✗ that

3. ✗ who's

4. ✗ that's

Question Number : 67 Question Id : 71939922103 Question Type : MCQ Option Shuffling : Yes Display Question Number : Yes  
Single Line Question Option : No Option Orientation : Vertical

Correct Marks : 1 Wrong Marks : 0.25

Rearrange the parts of the sentence in correct order.

P: for his behaviour

Q: he is clever

R: towards his parents

S: and has an explanation

Options :

1. ✖ RSQP

2. ✔ QSPR

3. ✖ PRSQ

4. ✖ SRQP

Question Number : 67 Question Id : 71939922103 Question Type : MCQ Option Shuffling : Yes Display Question Number : Yes  
Single Line Question Option : No Option Orientation : Vertical

Correct Marks : 1 Wrong Marks : 0.25

Rearrange the parts of the sentence in correct order.

P: for his behaviour

Q: he is clever

R: towards his parents

S: and has an explanation

Options :

1. ✖ RSQP

2. ✔ QSPR

3. ✖ PRSQ

4. ✖ SRQP

Question Number : 68 Question Id : 71939922104 Question Type : MCQ Option Shuffling : Yes Display Question Number : Yes  
Single Line Question Option : No Option Orientation : Vertical

Correct Marks : 1 Wrong Marks : 0.25

Rearrange the parts of the sentence in correct order.

P: whirling round the sun

Q: rope was tied to them

R: it was as if a

S: and they kept

Options :

1. ✖ PSQR

2. ✔ RQSP

3. ✖ RQPS

4. ✖ SRQP

Question Number : 68 Question Id : 71939922104 Question Type : MCQ Option Shuffling : Yes Display Question Number : Yes  
Single Line Question Option : No Option Orientation : Vertical

Correct Marks : 1 Wrong Marks : 0.25



Rearrange the parts of the sentence in correct order.

P: whirling round the sun

Q: rope was tied to them

R: it was as if a

S: and they kept

Options :

1. ✖ PSQR

2. ✔ RQSP

3. ✖ RQPS

4. ✖ SRQP

Question Number : 69 Question Id : 71939922105 Question Type : MCQ Option Shuffling : Yes Display Question Number : Yes  
Single Line Question Option : No Option Orientation : Vertical

Correct Marks : 1 Wrong Marks : 0.25

Choose the word that means the same as the given word.

Loyal

Options :

1. ✖ Permit

2. ✔ Devoted

3. ✖ Ban

4. ✖ Taboo

Question Number : 69 Question Id : 71939922105 Question Type : MCQ Option Shuffling : Yes Display Question Number : Yes  
Single Line Question Option : No Option Orientation : Vertical

Correct Marks : 1 Wrong Marks : 0.25

Choose the word that means the same as the given word.

Loyal

Options :

1. ✖ Permit

2. ✔ Devoted

3. ✖ Ban

4. ✖ Taboo

Question Number : 70 Question Id : 71939922106 Question Type : MCQ Option Shuffling : Yes Display Question Number : Yes  
Single Line Question Option : No Option Orientation : Vertical

Correct Marks : 1 Wrong Marks : 0.25

Choose the word that is opposite in meaning to the given word.

Neglect

Options :

1. ✔ Appreciate

2. ✖ Scare

3. ✖ Bitter

4. ✖ Foolish

Question Number : 70 Question Id : 71939922106 Question Type : MCQ Option Shuffling : Yes Display Question Number : Yes  
Single Line Question Option : No Option Orientation : Vertical

Correct Marks : 1 Wrong Marks : 0.25

Choose the word that is opposite in meaning to the given word.

Neglect

Options :

1. ✓ Appreciate
2. ✗ Scare
3. ✗ Bitter
4. ✗ Foolish

Question Number : 71 Question Id : 71939922107 Question Type : MCQ Option Shuffling : Yes Display Question Number : Yes  
Single Line Question Option : No Option Orientation : Vertical

Correct Marks : 1 Wrong Marks : 0.25

In the given question, four words are given out of which one word is correctly spelt. Choose the correctly spelt word.

Options :

1. ✓ Liaison
2. ✗ Laison
3. ✗ Liason
4. ✗ Liaision

Question Number : 71 Question Id : 71939922107 Question Type : MCQ Option Shuffling : Yes Display Question Number : Yes  
Single Line Question Option : No Option Orientation : Vertical

Correct Marks : 1 Wrong Marks : 0.25

In the given question, four words are given out of which one word is correctly spelt. Choose the correctly spelt word.

Options :

1. ✓ Liaison
2. ✗ Laison
3. ✗ Liason
4. ✗ Liaision

Question Number : 72 Question Id : 71939922108 Question Type : MCQ Option Shuffling : Yes Display Question Number : Yes  
Single Line Question Option : No Option Orientation : Vertical

Correct Marks : 1 Wrong Marks : 0.25

In the given question, four words are given out of which one word is incorrectly spelt. Choose the incorrectly spelt word.

Options :

1. ✗ Library
2. ✗ Receive
3. ✗ License
4. ✓ Liesure

Question Number : 72 Question Id : 71939922108 Question Type : MCQ Option Shuffling : Yes Display Question Number : Yes  
Single Line Question Option : No Option Orientation : Vertical

Correct Marks : 1 Wrong Marks : 0.25

In the given question, four words are given out of which one word is incorrectly spelt. Choose the incorrectly spelt word.

Options :

1. ✗ Library
2. ✗ Receive

3. ✖ License
4. ✔ Liesure

Question Number : 73 Question Id : 71939922109 Question Type : MCQ Option Shuffling : Yes Display Question Number : Yes  
Single Line Question Option : No Option Orientation : Vertical

Correct Marks : 1 Wrong Marks : 0.25

In the following question, out of the given four alternatives, select the alternative which best expresses the meaning of the Idiom/Phrase.

Lion's share

Options :

1. ✖ Done for material benefits
2. ✖ Completely alone
3. ✔ A major share
4. ✖ Totally unaware

Question Number : 73 Question Id : 71939922109 Question Type : MCQ Option Shuffling : Yes Display Question Number : Yes  
Single Line Question Option : No Option Orientation : Vertical

Correct Marks : 1 Wrong Marks : 0.25

In the following question, out of the given four alternatives, select the alternative which best expresses the meaning of the Idiom/Phrase.

Lion's share

Options :

1. ✖ Done for material benefits
2. ✖ Completely alone
3. ✔ A major share
4. ✖ Totally unaware

Question Number : 74 Question Id : 71939922110 Question Type : MCQ Option Shuffling : Yes Display Question Number : Yes  
Single Line Question Option : No Option Orientation : Vertical

Correct Marks : 1 Wrong Marks : 0.25

In the following question, out of the given four alternatives, select the alternative which best expresses the meaning of the Idiom/Phrase.

On the hook

Options :

1. ✔ To be responsible for something
2. ✖ Very rarely
3. ✖ Being too happy
4. ✖ In a bad condition and will not last long

Question Number : 74 Question Id : 71939922110 Question Type : MCQ Option Shuffling : Yes Display Question Number : Yes  
Single Line Question Option : No Option Orientation : Vertical

Correct Marks : 1 Wrong Marks : 0.25

In the following question, out of the given four alternatives, select the alternative which best expresses the meaning of the Idiom/Phrase.

On the hook

Options :

1. ✔ To be responsible for something

2. ✖ Very rarely
3. ✖ Being too happy
4. ✖ In a bad condition and will not last long

Question Number : 75 Question Id : 71939922111 Question Type : MCQ Option Shuffling : Yes Display Question Number : Yes  
Single Line Question Option : No Option Orientation : Vertical

Correct Marks : 1 Wrong Marks : 0.25

Choose the word that can substitute the given sentence.

One who is unable to pay his debts.

Options :

1. ✖ bale
2. ✔ insolvent
3. ✖ caucus
4. ✖ brood

Question Number : 75 Question Id : 71939922111 Question Type : MCQ Option Shuffling : Yes Display Question Number : Yes  
Single Line Question Option : No Option Orientation : Vertical

Correct Marks : 1 Wrong Marks : 0.25

Choose the word that can substitute the given sentence.

One who is unable to pay his debts.

Options :

1. ✖ bale
2. ✔ insolvent
3. ✖ caucus
4. ✖ brood

Sub-Section Number:	2
Sub-Section Id:	7193991169
Question Shuffling Allowed :	Yes

Question Id : 71939922112 Question Type : COMPREHENSION Sub Question Shuffling Allowed : Yes Group Comprehension  
Questions : No

Question Numbers : (76 to 80)

Question Label : Comprehension

Read the following information carefully and answer the given questions.

Information and Communication Technology has a major impact on the on the world in which young people live. Similarly, E-learning has considerable potential to support traditional teaching approaches, which are well known.

A very good example of this potential is the fact that E-learning will assist the making of connections by enabling students to enter and explore new learning environment, overcoming barriers of distance and time. This has another advantage because it facilitates shared learning by enabling students to join or create communities of learners that extend well beyond the classroom. It further assists in the creation of supportive learning environment by offering resources that take account of individual, cultural or development differences. E-learning also enhances opportunities to learn by offering students virtual experiences and tools that save them time, allowing them to take their learning further. Thus, all educational institutions should explore not only how ICT can supplement traditional ways of teaching, but also how it can open up new and different ways of learning.

Sub questions

Question Number : 76 Question Id : 71939922113 Question Type : MCQ Option Shuffling : Yes Display Question Number : Yes  
Single Line Question Option : No Option Orientation : Vertical

Correct Marks : 1 Wrong Marks : 0.25

Which of the following statements is true about E-learning?

Options :

1. ✖ It gives more chances for students to learn, as it saves their time.
2. ✖ It helps students contact other students in distant lands.
3. ✖ It takes care of person to person differences between students.
4. ✔ It has considerable potential to support traditional teaching approaches.

Question Number : 77 Question Id : 71939922114 Question Type : MCQ Option Shuffling : Yes Display Question Number : Yes  
Single Line Question Option : No Option Orientation : Vertical

Correct Marks : 1 Wrong Marks : 0.25

What is the major reason for the high potential of E-learning in supporting conventional teaching methods?

Options :

1. ✖ It creates a supportive learning environment.
2. ✖ It gives more opportunities for students to learn.
3. ✖ It enables students to create communities of learners.
4. ✔ It is facilitated by ICT, which young people understand.

Question Number : 78 Question Id : 71939922115 Question Type : MCQ Option Shuffling : Yes Display Question Number : Yes  
Single Line Question Option : No Option Orientation : Vertical

Correct Marks : 1 Wrong Marks : 0.25

What aspects of E-learning should schools and colleges explore?

Options :

1. ✖ How it can help students understand learning software better
2. ✖ How it can give rise to alternative learning systems
3. ✖ How it can support traditional teaching methods
4. ✔ How it can give rise to alternative learning systems and how it can support traditional teaching methods

Question Number : 79 Question Id : 71939922116 Question Type : MCQ Option Shuffling : Yes Display Question Number : Yes  
Single Line Question Option : No Option Orientation : Vertical

Correct Marks : 1 Wrong Marks : 0.25

Which word from the passage means the same as overcoming?

Options :

1. ✖ Forfeit
2. ✖ Surrender
3. ✔ Surmount
4. ✖ Yield

Question Number : 80 Question Id : 71939922117 Question Type : MCQ Option Shuffling : Yes Display Question Number : Yes  
Single Line Question Option : No Option Orientation : Vertical

Correct Marks : 1 Wrong Marks : 0.25

Which word from the passage is opposite in meaning to closure?

Options :

1. ✖ Considerable
2. ✔ Enhances
3. ✖ Experiences

#### 4. ✖ Potential

**Question Id : 71939922112 Question Type : COMPREHENSION Sub Question Shuffling Allowed : Yes Group Comprehension Questions : No**

**Question Numbers : (76 to 80)**

**Question Label : Comprehension**

Read the following information carefully and answer the given questions.

Information and Communication Technology has a major impact on the on the world in which young people live. Similarly, E-learning has considerable potential to support traditional teaching approaches, which are well known.

A very good example of this potential is the fact that E-learning will assist the making of connections by enabling students to enter and explore new learning environment, overcoming barriers of distance and time. This has another advantage because it facilitates shared learning by enabling students to join or create communities of learners that extend well beyond the classroom. It further assists in the creation of supportive learning environment by offering resources that take account of individual, cultural or development differences. E-learning also enhances opportunities to learn by offering students virtual experiences and tools that save them time, allowing them to take their learning further. Thus, all educational institutions should explore not only how ICT can supplement traditional ways of teaching, but also how it can open up new and different ways of learning.

**Sub questions**

**Question Number : 76 Question Id : 71939922113 Question Type : MCQ Option Shuffling : Yes Display Question Number : Yes Single Line Question Option : No Option Orientation : Vertical**

**Correct Marks : 1 Wrong Marks : 0.25**

Which of the following statements is true about E-learning?

**Options :**

1. ✖ It gives more chances for students to learn, as it saves their time.
2. ✖ It helps students contact other students in distant lands.
3. ✖ It takes care of person to person differences between students.
4. ✔ It has considerable potential to support traditional teaching approaches.

**Question Number : 77 Question Id : 71939922114 Question Type : MCQ Option Shuffling : Yes Display Question Number : Yes Single Line Question Option : No Option Orientation : Vertical**

**Correct Marks : 1 Wrong Marks : 0.25**

What is the major reason for the high potential of E-learning in supporting conventional teaching methods?

**Options :**

1. ✖ It creates a supportive learning environment.
2. ✖ It gives more opportunities for students to learn.
3. ✖ It enables students to create communities of learners.
4. ✔ It is facilitated by ICT, which young people understand.

**Question Number : 78 Question Id : 71939922115 Question Type : MCQ Option Shuffling : Yes Display Question Number : Yes Single Line Question Option : No Option Orientation : Vertical**

**Correct Marks : 1 Wrong Marks : 0.25**

What aspects of E-learning should schools and colleges explore?

**Options :**

1. ✖ How it can help students understand learning software better
2. ✖ How it can give rise to alternative learning systems
3. ✖ How it can support traditional teaching methods
4. ✔ How it can give rise to alternative learning systems and how it can support traditional teaching methods

Question Number : 79 Question Id : 71939922116 Question Type : MCQ Option Shuffling : Yes Display Question Number : Yes  
Single Line Question Option : No Option Orientation : Vertical

Correct Marks : 1 Wrong Marks : 0.25

Which word from the passage means the same as overcoming?

Options :

1. ✖ Forfeit
2. ✖ Surrender
3. ✔ Surmount
4. ✖ Yield

Question Number : 80 Question Id : 71939922117 Question Type : MCQ Option Shuffling : Yes Display Question Number : Yes  
Single Line Question Option : No Option Orientation : Vertical

Correct Marks : 1 Wrong Marks : 0.25

Which word from the passage is opposite in meaning to closure?

Options :

1. ✖ Considerable
2. ✔ Enhances
3. ✖ Experiences
4. ✖ Potential

#### General Hindi

Group Number :	5
Group Id :	719399863
Group Maximum Duration :	0
Group Minimum Duration :	0
Revisit allowed for view? :	No
Revisit allowed for edit? :	No
Break time:	0
Group Marks:	20
Revisit allowed for group Instructions? :	Yes
Maximum Instruction Time:	0
Minimum Instruction Time:	0

#### General Hindi

Section Id :	719399973
Section Number :	1
Section type :	Online
Mandatory or Optional:	Mandatory
Number of Questions:	16
Number of Questions to be attempted:	16
Section Marks:	20
Display Number Panel:	Yes
Group All Questions:	No

Sub-Section Number:	1
Sub-Section Id:	7193991170
Question Shuffling Allowed :	Yes

Question Number : 81 Question Id : 71939922118 Question Type : MCQ Option Shuffling : Yes Display Question Number : Yes  
Single Line Question Option : No Option Orientation : Vertical

Correct Marks : 1 Wrong Marks : 0.25

दिए गए शब्द का संधि विच्छेद ज्ञात कीजिए

कल्पांत

Options :

1. ✓ कल्प + अन्त
2. ✗ कलप् + अंत
3. ✗ कल्पा + न्त
4. ✗ कल्प + आंत

Question Number : 81 Question Id : 71939922118 Question Type : MCQ Option Shuffling : Yes Display Question Number : Yes  
Single Line Question Option : No Option Orientation : Vertical

Correct Marks : 1 Wrong Marks : 0.25

दिए गए शब्द का संधि विच्छेद ज्ञात कीजिए

कल्पांत

Options :

1. ✓ कल्प + अन्त
2. ✗ कलप् + अंत
3. ✗ कल्पा + न्त
4. ✗ कल्प + आंत

Question Number : 82 Question Id : 71939922119 Question Type : MCQ Option Shuffling : Yes Display Question Number : Yes  
Single Line Question Option : No Option Orientation : Vertical

Correct Marks : 1 Wrong Marks : 0.25

दिए गए वाक्य में से गुणवाचक विशेषण ज्ञात कीजिए

कालीदास विद्वान व्यक्ति थे

Options :

1. ✗ कालीदास
2. ✗ व्यक्ति
3. ✓ विद्वान
4. ✗ थे

Question Number : 82 Question Id : 71939922119 Question Type : MCQ Option Shuffling : Yes Display Question Number : Yes  
Single Line Question Option : No Option Orientation : Vertical

Correct Marks : 1 Wrong Marks : 0.25

दिए गए वाक्य में से गुणवाचक विशेषण ज्ञात कीजिए

कालीदास विद्वान व्यक्ति थे

Options :

1. ✗ कालीदास
2. ✗ व्यक्ति
3. ✓ विद्वान
4. ✗ थे

Question Number : 83 Question Id : 71939922120 Question Type : MCQ Option Shuffling : Yes Display Question Number : Yes  
Single Line Question Option : No Option Orientation : Vertical



Correct Marks : 1 Wrong Marks : 0.25

दिए गए वाक्य की क्रिया ज्ञात कीजिए

चुटकुला सुनकर बालक मुस्कुराया

Options :

1. ✖ अकर्मक क्रिया
2. ✔ सकर्मक क्रिया
3. ✖ प्रेरणार्थक क्रिया
4. ✖ संयुक्त क्रिया

Question Number : 83 Question Id : 71939922120 Question Type : MCQ Option Shuffling : Yes Display Question Number : Yes  
Single Line Question Option : No Option Orientation : Vertical

Correct Marks : 1 Wrong Marks : 0.25

दिए गए वाक्य की क्रिया ज्ञात कीजिए

चुटकुला सुनकर बालक मुस्कुराया

Options :

1. ✖ अकर्मक क्रिया
2. ✔ सकर्मक क्रिया
3. ✖ प्रेरणार्थक क्रिया
4. ✖ संयुक्त क्रिया

Question Number : 84 Question Id : 71939922121 Question Type : MCQ Option Shuffling : Yes Display Question Number : Yes  
Single Line Question Option : No Option Orientation : Vertical

Correct Marks : 1 Wrong Marks : 0.25

दिए गए शब्द युग्म का सही शब्द युग्म ज्ञात कीजिए

तनी : तनि

Options :

1. ✖ उसके बाद : तुम्हारा
2. ✖ तराजू : लहर
3. ✔ थोड़ा : बंधन
4. ✖ युवती : सूर्य

Question Number : 84 Question Id : 71939922121 Question Type : MCQ Option Shuffling : Yes Display Question Number : Yes  
Single Line Question Option : No Option Orientation : Vertical

Correct Marks : 1 Wrong Marks : 0.25

दिए गए शब्द युग्म का सही शब्द युग्म ज्ञात कीजिए

तनी : तनि

Options :

1. ✖ उसके बाद : तुम्हारा
2. ✖ तराजू : लहर
3. ✔ थोड़ा : बंधन
4. ✖ युवती : सूर्य

Question Number : 85 Question Id : 71939922122 Question Type : MCQ Option Shuffling : Yes Display Question Number : Yes  
Single Line Question Option : No Option Orientation : Vertical

Correct Marks : 1 Wrong Marks : 0.25

दिए गए वाक्य में उपयुक्त शब्द का चयन करके रिक्तस्थान की पूर्ति कीजिए।

वहाँ सब प्रकार की \_\_\_\_\_ उपलब्ध हैं।

Options :

1. ✖ वस्तुओं
2. ✖ वस्तुयों
3. ✔ वस्तुएँ
4. ✖ वस्तु

Question Number : 85 Question Id : 71939922122 Question Type : MCQ Option Shuffling : Yes Display Question Number : Yes  
Single Line Question Option : No Option Orientation : Vertical

Correct Marks : 1 Wrong Marks : 0.25

दिए गए वाक्य में उपयुक्त शब्द का चयन करके रिक्तस्थान की पूर्ति कीजिए।

वहाँ सब प्रकार की \_\_\_\_\_ उपलब्ध हैं।

Options :

1. ✖ वस्तुओं
2. ✖ वस्तुयों
3. ✔ वस्तुएँ
4. ✖ वस्तु

Question Number : 86 Question Id : 71939922123 Question Type : MCQ Option Shuffling : Yes Display Question Number : Yes  
Single Line Question Option : No Option Orientation : Vertical

Correct Marks : 1 Wrong Marks : 0.25

दिए गए शब्द का पर्यायवाची शब्द ज्ञात कीजिए।

जग

Options :

1. ✖ नर
2. ✔ लोक
3. ✖ मनुष्य
4. ✖ अम्बा

Question Number : 86 Question Id : 71939922123 Question Type : MCQ Option Shuffling : Yes Display Question Number : Yes  
Single Line Question Option : No Option Orientation : Vertical

Correct Marks : 1 Wrong Marks : 0.25

दिए गए शब्द का पर्यायवाची शब्द ज्ञात कीजिए।

जग

Options :

1. ✖ नर
2. ✔ लोक
3. ✖ मनुष्य
4. ✖ अम्बा

Question Number : 87 Question Id : 71939922124 Question Type : MCQ Option Shuffling : Yes Display Question Number : Yes  
Single Line Question Option : No Option Orientation : Vertical

Correct Marks : 1 Wrong Marks : 0.25

दिए गए शब्द का विलोम शब्द ज्ञात कीजिए।

संक्षेप

Options :

1. ✖ विक्षेप
2. ✔ विस्तार
3. ✖ संकीर्ण
4. ✖ अक्षेप

Question Number : 87 Question Id : 71939922124 Question Type : MCQ Option Shuffling : Yes Display Question Number : Yes  
Single Line Question Option : No Option Orientation : Vertical

Correct Marks : 1 Wrong Marks : 0.25

दिए गए शब्द का विलोम शब्द ज्ञात कीजिए।

संक्षेप

Options :

1. ✖ विक्षेप
2. ✔ विस्तार
3. ✖ संकीर्ण
4. ✖ अक्षेप

Question Number : 88 Question Id : 71939922125 Question Type : MCQ Option Shuffling : Yes Display Question Number : Yes  
Single Line Question Option : No Option Orientation : Vertical

Correct Marks : 1 Wrong Marks : 0.25

दिए गए वाक्यों में से शुद्ध वाक्य ज्ञात कीजिए।

Options :

1. ✖ पिकनिक जाने के लिए तैयार हो जाओ।
2. ✖ पिकनिक की ओर चलने के लिए तैयार हो जाओ।
3. ✖ पिकनिक से चलने पर तैयार हो जाओ।
4. ✔ पिकनिक पर जाने के लिए तैयार हो जाओ।

Question Number : 88 Question Id : 71939922125 Question Type : MCQ Option Shuffling : Yes Display Question Number : Yes  
Single Line Question Option : No Option Orientation : Vertical

Correct Marks : 1 Wrong Marks : 0.25

दिए गए वाक्यों में से शुद्ध वाक्य ज्ञात कीजिए।

Options :

1. ✖ पिकनिक जाने के लिए तैयार हो जाओ।
2. ✖ पिकनिक की ओर चलने के लिए तैयार हो जाओ।
3. ✖ पिकनिक से चलने पर तैयार हो जाओ।
4. ✔ पिकनिक पर जाने के लिए तैयार हो जाओ।

Question Number : 89 Question Id : 71939922126 Question Type : MCQ Option Shuffling : Yes Display Question Number : Yes  
Single Line Question Option : No Option Orientation : Vertical

Correct Marks : 1 Wrong Marks : 0.25

दिए गए वाक्य का काल ज्ञात कीजिए।

भक्तों द्वारा पूजा की जा रही थी।

Options :

1. ✖ पूर्ण भूतकाल
2. ✔ अपूर्ण भूतकाल
3. ✖ सामान्य भूतकाल
4. ✖ वर्तमान काल

Question Number : 89 Question Id : 71939922126 Question Type : MCQ Option Shuffling : Yes Display Question Number : Yes  
Single Line Question Option : No Option Orientation : Vertical

Correct Marks : 1 Wrong Marks : 0.25

दिए गए वाक्य का काल ज्ञात कीजिए

भक्तों द्वारा पूजा की जा रही थी।

Options :

1. ✖ पूर्ण भूतकाल
2. ✔ अपूर्ण भूतकाल
3. ✖ सामान्य भूतकाल
4. ✖ वर्तमान काल

Question Number : 90 Question Id : 71939922127 Question Type : MCQ Option Shuffling : Yes Display Question Number : Yes  
Single Line Question Option : No Option Orientation : Vertical

Correct Marks : 1 Wrong Marks : 0.25

निम्नलिखित शब्दों में से स्त्रीलिंग शब्द ज्ञात कीजिए

Options :

1. ✖ प्राण
2. ✖ घी
3. ✔ चीनी
4. ✖ गिरगिट

Question Number : 90 Question Id : 71939922127 Question Type : MCQ Option Shuffling : Yes Display Question Number : Yes  
Single Line Question Option : No Option Orientation : Vertical

Correct Marks : 1 Wrong Marks : 0.25

निम्नलिखित शब्दों में से स्त्रीलिंग शब्द ज्ञात कीजिए

Options :

1. ✖ प्राण
2. ✖ घी
3. ✔ चीनी
4. ✖ गिरगिट

Question Number : 91 Question Id : 71939922128 Question Type : MCQ Option Shuffling : Yes Display Question Number : Yes  
Single Line Question Option : No Option Orientation : Vertical

Correct Marks : 1 Wrong Marks : 0.25

दिए गए वाक्यों में से शुद्ध वाक्य ज्ञात कीजिए

Options :

1. ✖ उसे घूमना बहुत अधिक पसंद थी
2. ✖ वह हमारे लिए चाय को बनाकर जाता है।
3. ✖ राम और सीता दोनों खेलने गई थी।
4. ✔ बालिका दिनभर पढ़ती है।

Question Number : 91 Question Id : 71939922128 Question Type : MCQ Option Shuffling : Yes Display Question Number : Yes  
Single Line Question Option : No Option Orientation : Vertical

Correct Marks : 1 Wrong Marks : 0.25

दिए गए वाक्यों में से शुद्ध वाक्य ज्ञात कीजिए

Options :

1. ✖ उसे घूमना बहुत अधिक पसंद थी

2. ✖ वह हमारे लिए चाय को बनाकर जाता है।
3. ✖ राम और सीता दोनों खेलने गई थी।
4. ✔ बालिका दिनभर पढ़ती है।

Question Number : 92 Question Id : 71939922129 Question Type : MCQ Option Shuffling : Yes Display Question Number : Yes  
Single Line Question Option : No Option Orientation : Vertical

Correct Marks : 1 Wrong Marks : 0.25

दिए गए वाक्य में किस विराम चिह्न का उपयोग किया जाएगा उनकी पहचान कीजिए

यह घड़ी ज्यादा दिनों तक नहीं चलेगी यह बहुत सस्ती है

Options :

1. ✔ ; ।
2. ✖ : !
3. ✖ - ।
4. ✖ - ,

Question Number : 92 Question Id : 71939922129 Question Type : MCQ Option Shuffling : Yes Display Question Number : Yes  
Single Line Question Option : No Option Orientation : Vertical

Correct Marks : 1 Wrong Marks : 0.25

दिए गए वाक्य में किस विराम चिह्न का उपयोग किया जाएगा उनकी पहचान कीजिए

यह घड़ी ज्यादा दिनों तक नहीं चलेगी यह बहुत सस्ती है

Options :

1. ✔ ; ।
2. ✖ : !
3. ✖ - ।
4. ✖ - ,

Question Number : 93 Question Id : 71939922130 Question Type : MCQ Option Shuffling : Yes Display Question Number : Yes  
Single Line Question Option : No Option Orientation : Vertical

Correct Marks : 1 Wrong Marks : 0.25

दिए गए रिक्तस्थान में उपयुक्त मुहावरे का चयन कीजिए

इन्हें सही रास्ते पर लाना \_\_\_\_\_ है।

Options :

1. ✔ रेढ़ी खीर
2. ✖ टूट पड़ना
3. ✖ टका सा जवाब देना
4. ✖ दाना-पानी उठाना

Question Number : 93 Question Id : 71939922130 Question Type : MCQ Option Shuffling : Yes Display Question Number : Yes  
Single Line Question Option : No Option Orientation : Vertical

Correct Marks : 1 Wrong Marks : 0.25

दिए गए रिक्तस्थान में उपयुक्त मुहावरे का चयन कीजिए

इन्हें सही रास्ते पर लाना \_\_\_\_\_ है।

Options :

1. ✔ रेढ़ी खीर
2. ✖ टूट पड़ना
3. ✖ टका सा जवाब देना

4. ✖ दाना-पानी उठाना

Question Number : 94 Question Id : 71939922131 Question Type : MCQ Option Shuffling : Yes Display Question Number : Yes  
Single Line Question Option : No Option Orientation : Vertical

Correct Marks : 1 Wrong Marks : 0.25

दिए गए मुहावरे का अर्थ ज्ञात कीजिए

‘दाल में काला होना’

Options :

1. ✖ खूब तरक्की करना
2. ✔ संदेह की बात होना
3. ✖ परास्त करना
4. ✖ बहुत आसान समझना

Question Number : 94 Question Id : 71939922131 Question Type : MCQ Option Shuffling : Yes Display Question Number : Yes  
Single Line Question Option : No Option Orientation : Vertical

Correct Marks : 1 Wrong Marks : 0.25

दिए गए मुहावरे का अर्थ ज्ञात कीजिए

‘दाल में काला होना’

Options :

1. ✖ खूब तरक्की करना
2. ✔ संदेह की बात होना
3. ✖ परास्त करना
4. ✖ बहुत आसान समझना

Question Number : 95 Question Id : 71939922132 Question Type : MCQ Option Shuffling : Yes Display Question Number : Yes  
Single Line Question Option : No Option Orientation : Vertical

Correct Marks : 1 Wrong Marks : 0.25

दिए गए विराम चिह्न में से अर्द्ध विराम चिह्न ज्ञात कीजिए

Options :

1. ✖ ( )
2. ✖ ,
3. ✔ ;
4. ✖ !

Question Number : 95 Question Id : 71939922132 Question Type : MCQ Option Shuffling : Yes Display Question Number : Yes  
Single Line Question Option : No Option Orientation : Vertical

Correct Marks : 1 Wrong Marks : 0.25

दिए गए विराम चिह्न में से अर्द्ध विराम चिह्न ज्ञात कीजिए

Options :

1. ✖ ( )
2. ✖ ,
3. ✔ ;
4. ✖ !

Question Id : 71939922133 Question Type : COMPREHENSION Sub Question Shuffling Allowed : Yes Group Comprehension Questions : No

Question Numbers : (96 to 100)

Question Label : Comprehension

एक गद्यांश दिया गया है। गद्यांश को ध्यानपूर्वक पढ़ें तथा प्रत्येक प्रश्न के चार विकल्पों में से सही विकल्प चुनें।

दीपावली पूरे देश में हर्ष और उल्लास के साथ मनाया जाने वाला सबसे बड़ा पर्व होता है। इस दिन भगवान श्रीराम, माता सीता और भ्राता लक्ष्मण के साथ चौदह वर्ष का वनवास पूर्ण कर अयोध्या लौटे थे। इस खुशी में अयोध्यावासियों ने दीये जलाकर उनका स्वागत किया था। अमावस्या की अंधेरी रात जगमग असंख्य दीयों से जगमगाने लगती है। यह त्योहार कार्तिक मास की अमावस्या के दिन मनाया जाता है। दशहरे के बाद से ही घरों में दीपावली की तैयारियां व्यापक स्तर पर शुरू हो जाती हैं, प्रत्येक समाज त्योहारों के माध्यम से अपनी खुशी को प्रकट करता है। दीपावली का त्योहार जीवन में खुशी प्रदान करता है। नया जीवन जीने का उत्साह प्रदान करता है। भारत देश में दीपावली का बहुत अधिक महत्त्व है। इस दिन को अंधकार पर प्रकाश की विजय का प्रतीक माना जाता है। इस दिन को बहुत ही सुंदर और पारंपरिक तरीके से मनाया जाता है। दीपावली के दिन धन की देवी लक्ष्मी जी, माता सरस्वती जी और भगवान गणेश की पूजा की जाती है।

Sub questions

Question Number : 96 Question Id : 71939922134 Question Type : MCQ Option Shuffling : Yes Display Question Number : Yes Single Line Question Option : No Option Orientation : Vertical

Correct Marks : 1 Wrong Marks : 0.25

दशहरे के बाद कौन-से त्योहार की तैयारियां शुरू हो जाती हैं?

Options :

1. ❌ होली
2. ❌ रक्षाबंधन
3. ✔ दीपावली
4. ❌ छठ पूजा

Question Number : 97 Question Id : 71939922135 Question Type : MCQ Option Shuffling : Yes Display Question Number : Yes Single Line Question Option : No Option Orientation : Vertical

Correct Marks : 1 Wrong Marks : 0.25

भगवान श्रीराम, सीता व लक्ष्मण के साथ कितने वर्ष बाद वनवास से अयोध्या लौटे थे?

Options :

1. ✔ चौदह वर्ष
2. ❌ दो वर्ष
3. ❌ पाँच वर्ष
4. ❌ तीन वर्ष

Question Number : 98 Question Id : 71939922136 Question Type : MCQ Option Shuffling : Yes Display Question Number : Yes Single Line Question Option : No Option Orientation : Vertical

Correct Marks : 1 Wrong Marks : 0.25

दीपावली किस दिन मनाई जाती है?

Options :

1. ❌ रविवार
2. ✔ अमावस्या
3. ❌ पूर्णिमा
4. ❌ किसी भी दिन

Question Number : 99 Question Id : 71939922137 Question Type : MCQ Option Shuffling : Yes Display Question Number : Yes Single Line Question Option : No Option Orientation : Vertical

Correct Marks : 1 Wrong Marks : 0.25

दीपावली सभी के जीवन में क्या प्रदान करती है?

Options :

1. ✖ क्रोध
2. ✖ लोभ
3. ✔ खुशी
4. ✖ दुःख

Question Number : 100 Question Id : 71939922138 Question Type : MCQ Option Shuffling : Yes Display Question Number : Yes  
Single Line Question Option : No Option Orientation : Vertical

Correct Marks : 1 Wrong Marks : 0.25

उपर्युक्त गद्यांश का उपयुक्त शीर्षक क्या होगा?

Options :

1. ✔ दीपावली
2. ✖ दशहरा
3. ✖ रक्षाबंधन
4. ✖ नव वर्ष

Question Id : 71939922133 Question Type : COMPREHENSION Sub Question Shuffling Allowed : Yes Group Comprehension  
Questions : No

Question Numbers : (96 to 100)

Question Label : Comprehension

एक गद्यांश दिया गया है। गद्यांश को ध्यानपूर्वक पढ़ें तथा प्रत्येक प्रश्न के चार विकल्पों में से सही विकल्प चुनें।

दीपावली पूरे देश में हर्ष और उल्लास के साथ मनाया जाने वाला सबसे बड़ा पर्व होता है। इस दिन भगवान श्रीराम, माता सीता और भ्राता लक्ष्मण के साथ चौदह वर्ष का वनवास पूर्ण कर अयोध्या लौटे थे। इस खुशी में अयोध्यावासियों ने दीये जलाकर उनका स्वागत किया था। अमावस्या की अंधेरी रात जगमग असंख्य दीपों से जगमगाने लगती है। यह त्योहार कार्तिक मास की अमावस्या के दिन मनाया जाता है। दशहरे के बाद से ही घरों में दीपावली की तैयारियां व्यापक स्तर पर शुरू हो जाती हैं, प्रत्येक समाज त्योहारों के माध्यम से अपनी खुशी को प्रकट करता है। दीपावली का त्योहार जीवन में खुशी प्रदान करता है। नया जीवन जीने का उत्साह प्रदान करता है। भारत देश में दीपावली का बहुत अधिक महत्त्व है। इस दिन को अंधकार पर प्रकाश की विजय का प्रतीक माना जाता है। इस दिन को बहुत ही सुंदर और पारंपरिक तरीके से मनाया जाता है। दीपावली के दिन धन की देवी लक्ष्मी जी, माता सरस्वती जी और भगवान गणेश की पूजा की जाती है।

Sub questions

Question Number : 96 Question Id : 71939922134 Question Type : MCQ Option Shuffling : Yes Display Question Number : Yes  
Single Line Question Option : No Option Orientation : Vertical

Correct Marks : 1 Wrong Marks : 0.25

दशहरे के बाद कौन-से त्योहार की तैयारियां शुरू हो जाती हैं?

Options :

1. ✖ होली
2. ✖ रक्षाबंधन
3. ✔ दीपावली
4. ✖ छठ पूजा

Question Number : 97 Question Id : 71939922135 Question Type : MCQ Option Shuffling : Yes Display Question Number : Yes  
Single Line Question Option : No Option Orientation : Vertical

Correct Marks : 1 Wrong Marks : 0.25

भगवान श्रीराम, सीता व लक्ष्मण के साथ कितने वर्ष बाद वनवास से अयोध्या लौटे थे?

Options :

1. ✔ चौदह वर्ष
2. ✖ दो वर्ष
3. ✖ पाँच वर्ष
4. ✖ तीन वर्ष



Question Number : 98 Question Id : 71939922136 Question Type : MCQ Option Shuffling : Yes Display Question Number : Yes  
Single Line Question Option : No Option Orientation : Vertical

Correct Marks : 1 Wrong Marks : 0.25

दीपावली किस दिन मनाई जाती है?

Options :

- ❌ रविवार
- ✅ अमावस्या
- ❌ पूर्णिमा
- ❌ किसी भी दिन

Question Number : 99 Question Id : 71939922137 Question Type : MCQ Option Shuffling : Yes Display Question Number : Yes  
Single Line Question Option : No Option Orientation : Vertical

Correct Marks : 1 Wrong Marks : 0.25

दीपावली सभी के जीवन में क्या प्रदान करती है?

Options :

- ❌ क्रोध
- ❌ लोभ
- ✅ खुशी
- ❌ दुःख

Question Number : 100 Question Id : 71939922138 Question Type : MCQ Option Shuffling : Yes Display Question Number : Yes  
Single Line Question Option : No Option Orientation : Vertical

Correct Marks : 1 Wrong Marks : 0.25

उपर्युक्त गद्यांश का उपयुक्त शीर्षक क्या होगा?

Options :

- ✅ दीपावली
- ❌ दशहरा
- ❌ रक्षाबंधन
- ❌ नव वर्ष

#### Discipline1

Group Number :	6
Group Id :	719399864
Group Maximum Duration :	0
Group Minimum Duration :	0
Revisit allowed for view? :	No
Revisit allowed for edit? :	No
Break time:	0
Group Marks:	20
Revisit allowed for group Instructions? :	Yes
Maximum Instruction Time:	0
Minimum Instruction Time:	0

#### Discipline1

Section Id :	719399974
Section Number :	1
Section type :	Online

<b>Mandatory or Optional:</b>	Mandatory
<b>Number of Questions:</b>	20
<b>Number of Questions to be attempted:</b>	20
<b>Section Marks:</b>	20
<b>Display Number Panel:</b>	Yes
<b>Group All Questions:</b>	No

<b>Sub-Section Number:</b>	1
<b>Sub-Section Id:</b>	7193991172
<b>Question Shuffling Allowed :</b>	Yes

**Question Number : 101 Question Id : 71939922139 Question Type : MCQ Option Shuffling : Yes Display Question Number : Yes**  
**Single Line Question Option : No Option Orientation : Vertical**

**Correct Marks : 1 Wrong Marks : 0.25**

Which of the following type of thinking is characterized by a predominance of actual objects and events and the absence of concepts and generalization?

**Options :**

1. ✖ Inductive thinking
2. ✖ Deductive thinking
3. ✔ Concrete thinking
4. ✖ Abstract thinking

**Question Number : 101 Question Id : 71939922139 Question Type : MCQ Option Shuffling : Yes Display Question Number : Yes**  
**Single Line Question Option : No Option Orientation : Vertical**

**Correct Marks : 1 Wrong Marks : 0.25**

निम्नलिखित में से कौन सी सोच वास्तविक वस्तुओं और घटनाओं की एक प्रमुखता और अवधारणाओं और सामान्यीकरण की अनुपस्थिति की विशेषता है?

**Options :**

1. ✖ आगमनात्मक चिंतन
2. ✖ निगमनात्मक चिंतन
3. ✔ ठोस (कंक्रीट) चिंतन
4. ✖ अमूर्त चिंतन

**Question Number : 102 Question Id : 71939922140 Question Type : MCQ Option Shuffling : Yes Display Question Number : Yes**  
**Single Line Question Option : No Option Orientation : Vertical**

**Correct Marks : 1 Wrong Marks : 0.25**

Which of the following is NOT one of the attitude of the effective teacher?

**Options :**

1. ✔ Passing and responsibility
2. ✖ Encouraging creativity
3. ✖ Fostering individualized instruction
4. ✖ Sensitively accepting diversity

**Question Number : 102 Question Id : 71939922140 Question Type : MCQ Option Shuffling : Yes Display Question Number : Yes**  
**Single Line Question Option : No Option Orientation : Vertical**

**Correct Marks : 1 Wrong Marks : 0.25**

निम्नलिखित में से कौन सा प्रभावी शिक्षक की एक अभिवृत्ति नहीं है?

**Options :**

1. ✔ पासिंग और जिम्मेदारी
2. ✖ रचनात्मकता को प्रोत्साहित करना

3. ✖ व्यक्तिगत निर्देशन को बढ़ावा देना
4. ✖ संवेदनशील रूप से विविधता को स्वीकार करना

Question Number : 103 Question Id : 71939922141 Question Type : MCQ Option Shuffling : Yes Display Question Number : Yes  
Single Line Question Option : No Option Orientation : Vertical

Correct Marks : 1 Wrong Marks : 0.25

Which of the following is NOT a method that stimulate divergent thinking?

Options :

1. ✖ Brainstorming
2. ✖ Free writing
3. ✖ Keeping a journal
4. ✔ Mind Calibrating

Question Number : 103 Question Id : 71939922141 Question Type : MCQ Option Shuffling : Yes Display Question Number : Yes  
Single Line Question Option : No Option Orientation : Vertical

Correct Marks : 1 Wrong Marks : 0.25

निम्नलिखित में से कौन सी अपसारी चिंतन को उत्तेजित करने की एक विधि नहीं है?

Options :

1. ✖ बुद्धिशीलता (ब्रेनस्टोरमिंग)
2. ✖ स्वतंत्र लेखन
3. ✖ एक पत्रिका बनाना
4. ✔ मन अंशांकन (माइंड केलिब्रटिंग) करना

Question Number : 104 Question Id : 71939922142 Question Type : MCQ Option Shuffling : Yes Display Question Number : Yes  
Single Line Question Option : No Option Orientation : Vertical

Correct Marks : 1 Wrong Marks : 0.25

According to Carl Jung, which of the following is NOT a general characteristic of an introvert?

Options :

1. ✔ Neglectful of ailments and personal belongings
2. ✖ Rather reserved
3. ✖ Lacking in flexibility
4. ✖ Easily embarrassed

Question Number : 104 Question Id : 71939922142 Question Type : MCQ Option Shuffling : Yes Display Question Number : Yes  
Single Line Question Option : No Option Orientation : Vertical

Correct Marks : 1 Wrong Marks : 0.25

कार्ल जंग के अनुसार, निम्नलिखित में से कौन सी अंतर्मुखी की एक सामान्य विशेषता नहीं है?

Options :

1. ✔ बीमारियों और व्यक्तिगत सामान की उपेक्षा
2. ✖ रिजर्व्ड रहना
3. ✖ नम्रता में कमी
4. ✖ आसानी से शर्मिंदा हो जाना

Question Number : 105 Question Id : 71939922143 Question Type : MCQ Option Shuffling : Yes Display Question Number : Yes  
Single Line Question Option : No Option Orientation : Vertical

Correct Marks : 1 Wrong Marks : 0.25

Which of the following is/are ways to enhance motivation in children?

- I. Give children opportunities to evaluate their own accomplishment.
- II. Allow children ample time when working to allow for persistence.
- III. Playtime should be structured and organised.

Options :

- 1. ✓ Both I and II
- 2. ✗ Both II and III
- 3. ✗ Both I and III
- 4. ✗ I, II and III

Question Number : 105 Question Id : 71939922143 Question Type : MCQ Option Shuffling : Yes Display Question Number : Yes  
Single Line Question Option : No Option Orientation : Vertical

Correct Marks : 1 Wrong Marks : 0.25

निम्नलिखित में से क्या बच्चों में प्रेरणा बढ़ाने के तरीके है/हैं?

- I. बच्चों को अपनी स्वयं की उपलब्धियों का मूल्यांकन करने का अवसर दें
- II. कार्य करते समय दृढ़ता के लिए बच्चों को पर्याप्त समय दें
- III. खेलने का समय सरचित और संगठित होना चाहिए

Options :

- 1. ✓ I तथा II दोनों
- 2. ✗ II तथा III दोनों
- 3. ✗ I तथा III दोनों
- 4. ✗ I, II तथा III

Question Number : 106 Question Id : 71939922144 Question Type : MCQ Option Shuffling : Yes Display Question Number : Yes  
Single Line Question Option : No Option Orientation : Vertical

Correct Marks : 1 Wrong Marks : 0.25

Which of the following are important points that should be considered while selecting any teaching – learning material?

- I. Age appropriate
- II. Level appropriate
- III. Availability
- IV. Creative use

Options :

- 1. ✗ I, II and III
- 2. ✗ II, III and IV
- 3. ✗ I, III and IV
- 4. ✓ I, II, III and IV

Question Number : 106 Question Id : 71939922144 Question Type : MCQ Option Shuffling : Yes Display Question Number : Yes  
Single Line Question Option : No Option Orientation : Vertical

Correct Marks : 1 Wrong Marks : 0.25

निम्नलिखित में कौन सी महत्वपूर्ण बातें हैं जिनका किसी भी शिक्षण - अधिगम सामग्री का चयन करते समय विचार किया जाना चाहिए?

- I. आयु उपयुक्त
- II. स्तर उपयुक्त
- III. उपलब्धता
- IV. रचनात्मक उपयोग

Options :

- 1. ✗ I, II तथा III

2. ✖ II, III तथा IV
3. ✖ I, III तथा IV
4. ✔ I, II, III तथा IV

Question Number : 107 Question Id : 71939922145 Question Type : MCQ Option Shuffling : Yes Display Question Number : Yes  
Single Line Question Option : No Option Orientation : Vertical

Correct Marks : 1 Wrong Marks : 0.25

Which of the following are commonly identified skills in the teaching - learning process?

- I. Skill in putting question
- II. Skill in introducing the topic
- III. Skill in non - verbal cues
- IV. Skill in explanation

Options :

1. ✖ I, II and III
2. ✖ II, III and IV
3. ✖ I, III and IV
4. ✔ I, II, III and IV

Question Number : 107 Question Id : 71939922145 Question Type : MCQ Option Shuffling : Yes Display Question Number : Yes  
Single Line Question Option : No Option Orientation : Vertical

Correct Marks : 1 Wrong Marks : 0.25

निम्नलिखित में से कौन शिक्षण - अधिगम प्रक्रिया में सामान्यतः पहचानी गयी कौशल हैं?

- I. प्रश्न पूछने का कौशल
- II. प्रसंग का परिचय कराने का कौशल
- III. गैर मौखिक संकेतों में कौशल
- IV. व्याख्या में कौशल

Options :

1. ✖ I, II तथा III
2. ✖ II, III तथा IV
3. ✖ I, III तथा IV
4. ✔ I, II, III तथा IV

Question Number : 108 Question Id : 71939922146 Question Type : MCQ Option Shuffling : Yes Display Question Number : Yes  
Single Line Question Option : No Option Orientation : Vertical

Correct Marks : 1 Wrong Marks : 0.25

Which of the following can be defined as the process of giving rewards and punishment to the children?

Options :

1. ✖ Enhancement
2. ✖ Consolidation
3. ✔ Reinforcement
4. ✖ Accompaniment

Question Number : 108 Question Id : 71939922146 Question Type : MCQ Option Shuffling : Yes Display Question Number : Yes  
Single Line Question Option : No Option Orientation : Vertical

Correct Marks : 1 Wrong Marks : 0.25

निम्नलिखित में से किसको बच्चों को पुरस्कार और दण्ड देने की प्रक्रिया के रूप में परिभाषित किया जा सकता है?

Options :

1. ✖ अधिकता

2. ✖ संपिण्डन
3. ✔ सुदृढीकरण
4. ✖ संगत

Question Number : 109 Question Id : 71939922147 Question Type : MCQ Option Shuffling : Yes Display Question Number : Yes  
Single Line Question Option : No Option Orientation : Vertical

Correct Marks : 1 Wrong Marks : 0.25

'Choice of challenge' is a characteristic of which of the following?

Options :

1. ✖ Values
2. ✖ Discipline
3. ✔ Motivation
4. ✖ Inclusive education

Question Number : 109 Question Id : 71939922147 Question Type : MCQ Option Shuffling : Yes Display Question Number : Yes  
Single Line Question Option : No Option Orientation : Vertical

Correct Marks : 1 Wrong Marks : 0.25

'द्युनौती का विकल्प' निम्नलिखित में से किसकी विशेषता है?

Options :

1. ✖ मूल्य
2. ✖ अनुशासन
3. ✔ प्रेरणा
4. ✖ समावेशी शिक्षा

Question Number : 110 Question Id : 71939922148 Question Type : MCQ Option Shuffling : Yes Display Question Number : Yes  
Single Line Question Option : No Option Orientation : Vertical

Correct Marks : 1 Wrong Marks : 0.25

Which of the following is/are type(s) of value?

- I. Moral
- II. Cultural
- III. Universal
- IV. Spiritual

Options :

1. ✖ I, II and III
2. ✖ II, III and IV
3. ✖ I, III and IV
4. ✔ I, II, III and IV

Question Number : 110 Question Id : 71939922148 Question Type : MCQ Option Shuffling : Yes Display Question Number : Yes  
Single Line Question Option : No Option Orientation : Vertical

Correct Marks : 1 Wrong Marks : 0.25

निम्नलिखित में से कौन सा/से मूल्य का/के प्रकार है/हैं?

- I. नैतिकता
- II. सांस्कृतिक
- III. सर्वव्यापी
- IV. आध्यात्मिक

Options :

1. ✖ I, II तथा III

2. ✖ II, III तथा IV
3. ✖ I, III तथा IV
4. ✔ I, II, III तथा IV

Question Number : 111 Question Id : 71939922149 Question Type : MCQ Option Shuffling : Yes Display Question Number : Yes  
Single Line Question Option : No Option Orientation : Vertical

Correct Marks : 1 Wrong Marks : 0.25

\_\_\_\_\_ is/are the collective conscience and unwritten constitution of any society.

Options :

1. ✖ Norms
2. ✖ Roles
3. ✖ Values
4. ✔ Both norms and values

Question Number : 111 Question Id : 71939922149 Question Type : MCQ Option Shuffling : Yes Display Question Number : Yes  
Single Line Question Option : No Option Orientation : Vertical

Correct Marks : 1 Wrong Marks : 0.25

\_\_\_\_\_ किसी भी समाज का/के सामूहिक अंतःकरण तथा अलिखित संविधान है/हैं।

Options :

1. ✖ मानदण्ड
2. ✖ भूमिका
3. ✖ मूल्य
4. ✔ मानदण्ड तथा मूल्य दोनों

Question Number : 112 Question Id : 71939922150 Question Type : MCQ Option Shuffling : Yes Display Question Number : Yes  
Single Line Question Option : No Option Orientation : Vertical

Correct Marks : 1 Wrong Marks : 0.25

Which sociologist laid emphasis on the role of education system in the preservation of society and culture?

Options :

1. ✔ Emile Durkheim
2. ✖ John Dewey
3. ✖ Ivan Illich
4. ✖ Karl Marx

Question Number : 112 Question Id : 71939922150 Question Type : MCQ Option Shuffling : Yes Display Question Number : Yes  
Single Line Question Option : No Option Orientation : Vertical

Correct Marks : 1 Wrong Marks : 0.25

किस समाजशास्त्री ने समाज तथा संस्कृति के संरक्षण में शिक्षा प्रणाली की भूमिका पर बल दिया?

Options :

1. ✔ इमार्ईल दुर्खीम
2. ✖ जॉन डूई
3. ✖ इवान इलिच
4. ✖ कार्ल मार्क्स

Question Number : 113 Question Id : 71939922151 Question Type : MCQ Option Shuffling : Yes Display Question Number : Yes  
Single Line Question Option : No Option Orientation : Vertical

Correct Marks : 1 Wrong Marks : 0.25

Which sociologist observed that the teaching process, teaching method and language makes a difference between oppressors and oppressed?

Options :

1. ✖ Pierre Bourdieu
2. ✔ Paulo Freire
3. ✖ Karl Marx
4. ✖ Talcott Parsons

Question Number : 113 Question Id : 71939922151 Question Type : MCQ Option Shuffling : Yes Display Question Number : Yes  
Single Line Question Option : No Option Orientation : Vertical

Correct Marks : 1 Wrong Marks : 0.25

किस समाजशास्त्री ने देखा कि शिक्षण प्रक्रिया, शिक्षण विधि तथा भाषा उत्पीड़क तथा उत्पीड़ित के बीच अंतर पैदा करती है?

Options :

1. ✖ पियरे बोर्डियू
2. ✔ पाउलो फ्रेइरे
3. ✖ कार्ल मार्क्स
4. ✖ टैल्कोट पार्सन्स

Question Number : 114 Question Id : 71939922152 Question Type : MCQ Option Shuffling : Yes Display Question Number : Yes  
Single Line Question Option : No Option Orientation : Vertical

Correct Marks : 1 Wrong Marks : 0.25

A teacher should know the cross-cultural understanding of the community where the school is. This can be done through which of the following?

- I. Exploring about the diversity in community
- II. Avoiding bias and preconceptions

Options :

1. ✖ Only I
2. ✖ Only II
3. ✔ Both I and II
4. ✖ Neither I nor II

Question Number : 114 Question Id : 71939922152 Question Type : MCQ Option Shuffling : Yes Display Question Number : Yes  
Single Line Question Option : No Option Orientation : Vertical

Correct Marks : 1 Wrong Marks : 0.25

एक शिक्षक को उस समुदाय की अंतः सांस्कृतिक समझ होनी चाहिए जहां स्कूल है। इसे निम्नलिखित में से किस के माध्यम से किया जा सकता है?

- I. समुदाय में विविधता के बारे में जानना
- II. पक्षपात और पूर्वाग्रहों से बचना

Options :

1. ✖ केवल I
2. ✖ केवल II
3. ✔ I तथा II दोनों
4. ✖ ना ही I ना ही II

Question Number : 115 Question Id : 71939922153 Question Type : MCQ Option Shuffling : Yes Display Question Number : Yes  
Single Line Question Option : No Option Orientation : Vertical

Correct Marks : 1 Wrong Marks : 0.25

Which of the following is NOT a function of School Management Committee as per Right to Education Act, 2009?

Options :

1. ✖ Monitor the working of school



2. ☒ Encourage parents to punish their child
3. ☐ Prepare school development plan
4. ☐ Monitor utilisation of grants

Question Number : 115 Question Id : 71939922153 Question Type : MCQ Option Shuffling : Yes Display Question Number : Yes  
Single Line Question Option : No Option Orientation : Vertical

Correct Marks : 1 Wrong Marks : 0.25

निम्नलिखित में से कौन सा शिक्षा के अधिकार अधिनियम, 2009 के अनुसार स्कूल प्रबंधन समिति का एक कार्य नहीं है?

Options :

1. ☐ स्कूल के कार्य की निगरानी करना
2. ☒ माता-पिता को अपने बच्चे को दंडित करने के लिए प्रोत्साहित करना
3. ☐ स्कूल विकास योजना तैयार करना
4. ☐ अनुदान की उपयोगिता की निगरानी करना

Question Number : 116 Question Id : 71939922154 Question Type : MCQ Option Shuffling : Yes Display Question Number : Yes  
Single Line Question Option : No Option Orientation : Vertical

Correct Marks : 1 Wrong Marks : 0.25

The 74th amendment added municipalities in which part of Indian Constitution?

Options :

1. ☒ IXA
2. ☐ X
3. ☐ XIA
4. ☐ XII

Question Number : 116 Question Id : 71939922154 Question Type : MCQ Option Shuffling : Yes Display Question Number : Yes  
Single Line Question Option : No Option Orientation : Vertical

Correct Marks : 1 Wrong Marks : 0.25

74वें संशोधन ने भारतीय संविधान के किस भाग में नगरपालिकाओं को जोड़ा?

Options :

1. ☒ IXA
2. ☐ X
3. ☐ XIA
4. ☐ XII

Question Number : 117 Question Id : 71939922155 Question Type : MCQ Option Shuffling : Yes Display Question Number : Yes  
Single Line Question Option : No Option Orientation : Vertical

Correct Marks : 1 Wrong Marks : 0.25

Which of the following is not a part of six theories of knowledge and truth?

Options :

1. ☐ The Revelation theory
2. ☐ The Coherence theory
3. ☒ The Dogmatic theory
4. ☐ The Intuition theory

Question Number : 117 Question Id : 71939922155 Question Type : MCQ Option Shuffling : Yes Display Question Number : Yes  
Single Line Question Option : No Option Orientation : Vertical

Correct Marks : 1 Wrong Marks : 0.25

निम्नलिखित में से कौन सा ज्ञान और सत्य के छह सिद्धांतों का हिस्सा नहीं है?

Options :

1. ✖ रहस्योद्घाटन सिद्धांत
2. ✖ संसकृता सिद्धांत
3. ✔ स्वमताभिमानी सिद्धांत
4. ✖ अंतर्ज्ञान सिद्धांत

Question Number : 118 Question Id : 71939922156 Question Type : MCQ Option Shuffling : Yes Display Question Number : Yes  
Single Line Question Option : No Option Orientation : Vertical

Correct Marks : 1 Wrong Marks : 0.25

Which of the following is correct order of curriculum development?

1. Evaluation of objectives
2. Formation of objectives
3. Implimenting teaching - learning experiences
4. Selection of teaching - learning experiences

Options :

1. ✖ 2, 1, 3, 4
2. ✔ 2, 4, 3, 1
3. ✖ 2, 3, 4, 1
4. ✖ 2, 1, 4, 3

Question Number : 118 Question Id : 71939922156 Question Type : MCQ Option Shuffling : Yes Display Question Number : Yes  
Single Line Question Option : No Option Orientation : Vertical

Correct Marks : 1 Wrong Marks : 0.25

निम्नलिखित में से कौन सा पाठ्यक्रम विकास का सही क्रम है?

1. उद्देश्यों का मूल्यांकन
2. उद्देश्यों का गठन
3. शिक्षण - अधिगम अनुभवों को लागू करना
4. शिक्षण - सीखने के अनुभव का चयन

Options :

1. ✖ 2, 1, 3, 4
2. ✔ 2, 4, 3, 1
3. ✖ 2, 3, 4, 1
4. ✖ 2, 1, 4, 3

Question Number : 119 Question Id : 71939922157 Question Type : MCQ Option Shuffling : Yes Display Question Number : Yes  
Single Line Question Option : No Option Orientation : Vertical

Correct Marks : 1 Wrong Marks : 0.25

Which sociologist defined religion as unified system of beliefs and practices related to sacred things?

Options :

1. ✖ Karl Marx
2. ✔ Emile Durkheim
3. ✖ Talcott Parsons
4. ✖ MacIver and Page

Question Number : 119 Question Id : 71939922157 Question Type : MCQ Option Shuffling : Yes Display Question Number : Yes  
Single Line Question Option : No Option Orientation : Vertical

Correct Marks : 1 Wrong Marks : 0.25

किस समाजशास्त्री ने धर्म को पवित्र चीजों से संबंधित मान्यताओं तथा परंपराओं की एकीकृत प्रणाली के रूप में परिभाषित किया है?

Options :

1. ✖ कार्ल मार्क्स
2. ✔ इमाईल दुखीम
3. ✖ टैल्कोट पार्सन्स
4. ✖ मैकाइवर तथा पेज

Question Number : 120 Question Id : 71939922158 Question Type : MCQ Option Shuffling : Yes Display Question Number : Yes  
Single Line Question Option : No Option Orientation : Vertical

Correct Marks : 1 Wrong Marks : 0.25

To live at one level, disregarding the total process of life invites \_\_\_\_\_.

Options :

1. ✖ Happiness and money
2. ✔ Misery and destruction
3. ✖ Enlightenment
4. ✖ Great knowledge

Question Number : 120 Question Id : 71939922158 Question Type : MCQ Option Shuffling : Yes Display Question Number : Yes  
Single Line Question Option : No Option Orientation : Vertical

Correct Marks : 1 Wrong Marks : 0.25

एक स्तर पर रहने के लिए, जीवन की कुल प्रक्रिया की उपेक्षा करना \_\_\_\_\_ को आमंत्रित करता है।

Options :

1. ✖ खुशी तथा धन
2. ✔ गरीबी तथा बरबादी
3. ✖ प्रबोधन
4. ✖ प्रचुर ज्ञान

## Discipline2

Group Number :	7
Group Id :	719399865
Group Maximum Duration :	0
Group Minimum Duration :	0
Revisit allowed for view? :	No
Revisit allowed for edit? :	No
Break time:	0
Group Marks:	20
Revisit allowed for group Instructions? :	Yes
Maximum Instruction Time:	0
Minimum Instruction Time:	0

## Discipline2

Section Id :	719399975
Section Number :	1
Section type :	Online
Mandatory or Optional:	Mandatory
Number of Questions:	20
Number of Questions to be attempted:	20
Section Marks:	20
Display Number Panel:	Yes

Group All Questions:

No

Sub-Section Number:

1

Sub-Section Id:

7193991173

Question Shuffling Allowed :

Yes

Question Number : 121 Question Id : 71939922159 Question Type : MCQ Option Shuffling : Yes Display Question Number : Yes  
Single Line Question Option : No Option Orientation : Vertical

Correct Marks : 1 Wrong Marks : 0.25

Modern education -----.

I. is developing the interact.

II. offers more and more theories and facts.

Options :

1. ✖ Only I

2. ✖ Only II

3. ✔ Both I and II

4. ✖ Neither I nor II

Question Number : 121 Question Id : 71939922159 Question Type : MCQ Option Shuffling : Yes Display Question Number : Yes  
Single Line Question Option : No Option Orientation : Vertical

Correct Marks : 1 Wrong Marks : 0.25

आधुनिक शिक्षा ----- है।

I. परस्पर प्रभाव को विकसित करती है।

II. अधिक से अधिक सिद्धांतों तथा तथ्यों को प्रस्तावित करती है।

Options :

1. ✖ केवल I

2. ✖ केवल II

3. ✔ I तथा II दोनों

4. ✖ ना ही I ना ही II

Question Number : 122 Question Id : 71939922160 Question Type : MCQ Option Shuffling : Yes Display Question Number : Yes  
Single Line Question Option : No Option Orientation : Vertical

Correct Marks : 1 Wrong Marks : 0.25

To determine the readiness of children to learn, the teacher needs to have some knowledge of children's -----.

I. Emotional development

II. Intellectual development

Options :

1. ✖ Only I

2. ✖ Only II

3. ✔ Both I and II

4. ✖ Neither I nor II

Question Number : 122 Question Id : 71939922160 Question Type : MCQ Option Shuffling : Yes Display Question Number : Yes  
Single Line Question Option : No Option Orientation : Vertical

Correct Marks : 1 Wrong Marks : 0.25

सीखने के लिए बच्चों की तत्परता निर्धारित करने के लिए, अध्यापक को बच्चों के \_\_\_\_\_ का कुछ ज्ञान होना आवश्यक है।

- I. भावात्मक विकास
- II. बौद्धिक विकास

Options :

- 1. ✖ केवल I
- 2. ✖ केवल II
- 3. ✔ I तथा II दोनों
- 4. ✖ ना ही I ना ही II

Question Number : 123 Question Id : 71939922161 Question Type : MCQ Option Shuffling : Yes Display Question Number : Yes  
Single Line Question Option : No Option Orientation : Vertical

Correct Marks : 1 Wrong Marks : 0.25

Which of the following imitative behaviour is related to the responses of the model not to his/her behavioural characteristics per states?

Options :

- 1. ✖ Modelling effect
- 2. ✖ Inhibitory effect
- 3. ✖ Dis-inhibitory effect
- 4. ✔ Eliciting effect

Question Number : 123 Question Id : 71939922161 Question Type : MCQ Option Shuffling : Yes Display Question Number : Yes  
Single Line Question Option : No Option Orientation : Vertical

Correct Marks : 1 Wrong Marks : 0.25

निम्नलिखित में से कौन सा अनुकरणीय व्यवहार आदर्श के प्रतिक्रियात्मक कार्य से संबंधित है ना की उसकी व्यवहारिक विशेषताओं पर?

Options :

- 1. ✖ आदर्शीय प्रभाव
- 2. ✖ दमनात्मक प्रभाव
- 3. ✖ अदमनात्मक प्रभाव
- 4. ✔ प्रकटीकरण प्रभाव

Question Number : 124 Question Id : 71939922162 Question Type : MCQ Option Shuffling : Yes Display Question Number : Yes  
Single Line Question Option : No Option Orientation : Vertical

Correct Marks : 1 Wrong Marks : 0.25

In a classroom, for teaching various parts of a plant, a teacher instructs each student to bring a sample of plant from home to the class. Later, she divides the students into small group of five students and asks them to draw figures of the plant and label them. By doing so, which of the following benefits is she expecting?

- I. Developing social qualities like helping, sharing and accepting responsibility.
- II. Pooling combined resources for successful completion of the task.

Options :

- 1. ✖ Only I
- 2. ✖ Only II
- 3. ✔ Both I and II
- 4. ✖ Neither I nor II

Question Number : 124 Question Id : 71939922162 Question Type : MCQ Option Shuffling : Yes Display Question Number : Yes  
Single Line Question Option : No Option Orientation : Vertical

Correct Marks : 1 Wrong Marks : 0.25

एक कक्षा में, पौधे के विभिन्न हिस्सों के शिक्षण के लिए, एक अध्यापक प्रत्येक छात्र को घर से कक्षा में एक पौधे का नमूना लाने का निर्देश देती है। बाद में, वह छात्रों को पाँच छात्रों के छोटे समूह में विभाजित कर देती है तथा उन्हें पौधे का चित्र बनाने तथा उन्हें अंकित करने के लिए कहती है। ऐसा करने से, उसे निम्नलिखित में से किस लाभ की उम्मीद है?

- I. सहायता करना, बांटना तथा ज़िम्मेदारियों को ग्रहण करने जैसे सामाजिक गुणों का विकास
- II. किसी कार्य को सफलतापूर्वक पूर्ण करने के लिए सम्मिलित संसाधनों का संयोजन

Options :

- 1. ✖ केवल I
- 2. ✖ केवल II
- 3. ✔ I तथा II दोनों
- 4. ✖ ना ही I ना ही II

Question Number : 125 Question Id : 71939922163 Question Type : MCQ Option Shuffling : Yes Display Question Number : Yes  
Single Line Question Option : No Option Orientation : Vertical

Correct Marks : 1 Wrong Marks : 0.25

On which of the following parameters, a teacher should measure the success of his/her lesson plan to encourage discovery learning among his/her students?

- I. Increase in relevance of questions asked by students.
- II. Conviction in students in challenging opinions of other students, teacher and textbooks.
- III. Frequency with which students ask question.

Options :

- 1. ✖ I and II
- 2. ✖ II and III
- 3. ✖ I and III
- 4. ✔ I, II and III

Question Number : 125 Question Id : 71939922163 Question Type : MCQ Option Shuffling : Yes Display Question Number : Yes  
Single Line Question Option : No Option Orientation : Vertical

Correct Marks : 1 Wrong Marks : 0.25

निम्नलिखित में से किस मापदंड पर, एक अध्यापक को अपने छात्रों के बीच खोजपूर्ण अधिगम प्रोत्साहित करने के लिए अपनी पाठ योजना की सफलता को मापना चाहिए?

- I. छात्रों द्वारा पूछे गए प्रश्नों की उपयुक्तता में वृद्धि
- II. दूसरे विद्यार्थी, अध्यापक तथा पाठ्यपुस्तकों की राय को चुनौती देने में छात्रों में विश्वास
- III. छात्रों द्वारा प्रश्न पूछने की बारम्बारता

Options :

- 1. ✖ I तथा II
- 2. ✖ II तथा III
- 3. ✖ I तथा III
- 4. ✔ I, II तथा III

Question Number : 126 Question Id : 71939922164 Question Type : MCQ Option Shuffling : Yes Display Question Number : Yes  
Single Line Question Option : No Option Orientation : Vertical

Correct Marks : 1 Wrong Marks : 0.25

Which physiologist worked on Classical Conditioning?

Options :

- 1. ✖ B.F. Skinner
- 2. ✔ Ivan Pavlov
- 3. ✖ Piaget
- 4. ✖ Bandura

Question Number : 126 Question Id : 71939922164 Question Type : MCQ Option Shuffling : Yes Display Question Number : Yes  
Single Line Question Option : No Option Orientation : Vertical

Correct Marks : 1 Wrong Marks : 0.25

शास्त्रीय अनुकूलन पर किस शरीरक्रिया विज्ञानी ने काम किया था?

Options :

1. ✖ बी. एफ. स्किनर
2. ✔ इवान पावलोव
3. ✖ प्याज़े
4. ✖ बंडुरा

Question Number : 127 Question Id : 71939922165 Question Type : MCQ Option Shuffling : Yes Display Question Number : Yes  
Single Line Question Option : No Option Orientation : Vertical

Correct Marks : 1 Wrong Marks : 0.25

What are your roles as a teacher in the construction of knowledge of your students in the classroom?

- I. Supporting cooperative and collaborative learning in the classroom.
- II. Connecting the activities in the school with those outside the school.
- III. Encouraging self-analysis and self-assessment of their learning progress.

Options :

1. ✖ I and II
2. ✖ II and III
3. ✖ Only III
4. ✔ I, II and III

Question Number : 127 Question Id : 71939922165 Question Type : MCQ Option Shuffling : Yes Display Question Number : Yes  
Single Line Question Option : No Option Orientation : Vertical

Correct Marks : 1 Wrong Marks : 0.25

कक्षा में आपके छात्रों के ज्ञान के निर्माण में एक अध्यापक के रूप में आपकी क्या भूमिकाएँ हैं?

- I. कक्षा में सहकारी तथा सहयोगात्मक अधिगम को बढ़ावा देना।
- II. विद्यालय के अंदर की क्रियाओं को विद्यालय के बाहर की क्रियाओं से जोड़ना।
- III. उनके अधिगम की प्रगति के आत्म-विश्लेषण तथा आत्म-मूल्यांकन को प्रोत्साहित करना।

Options :

1. ✖ I तथा II
2. ✖ II तथा III
3. ✖ केवल III
4. ✔ I, II तथा III

Question Number : 128 Question Id : 71939922166 Question Type : MCQ Option Shuffling : Yes Display Question Number : Yes  
Single Line Question Option : No Option Orientation : Vertical

Correct Marks : 1 Wrong Marks : 0.25

Which of the following are the usefulness of competency based approach in teaching-learning process?

- I. It keeps the learner away from rote memorization.
- II. What students learn today cannot be forgotten tomorrow.
- III. Assessments of competencies are directly linked with the objectives of learning experience.

Options :

1. ✖ I and II
2. ✖ II and III
3. ✖ I and III

4. ✓ I, II and III

Question Number : 128 Question Id : 71939922166 Question Type : MCQ Option Shuffling : Yes Display Question Number : Yes  
Single Line Question Option : No Option Orientation : Vertical

Correct Marks : 1 Wrong Marks : 0.25

निम्नलिखित में से क्या शिक्षण-अधिगम प्रक्रिया में दक्षता आधारित उपागम की उपयोगिताएं हैं?

- I. विद्यार्थी को रटकर याद करने की पद्धति से दूर रखता है
- II. विद्यार्थी आज जो सीखते हैं उसे कल भुलाया नहीं जा सकता है
- III. दक्षताओं के मूल्यांकन का संबंध अधिगम अनुभव के उद्देश्य से प्रत्यक्ष रूप से होता है

Options :

- 1. ✗ I तथा II
- 2. ✗ II तथा III
- 3. ✗ I तथा III
- 4. ✓ I, II तथा III

Question Number : 129 Question Id : 71939922167 Question Type : MCQ Option Shuffling : Yes Display Question Number : Yes  
Single Line Question Option : No Option Orientation : Vertical

Correct Marks : 1 Wrong Marks : 0.25

Demonstration method of teaching is a \_\_\_\_\_.

Options :

- 1. ✓ teacher centered method
- 2. ✗ subject centered method
- 3. ✗ learner centered method
- 4. ✗ competency based method

Question Number : 129 Question Id : 71939922167 Question Type : MCQ Option Shuffling : Yes Display Question Number : Yes  
Single Line Question Option : No Option Orientation : Vertical

Correct Marks : 1 Wrong Marks : 0.25

शिक्षण की प्रदर्शन विधि एक \_\_\_\_\_ है।

Options :

- 1. ✓ अध्यापक केंद्रित विधि
- 2. ✗ विषय केंद्रित विधि
- 3. ✗ शिक्षार्थी केंद्रित विधि
- 4. ✗ दक्षता आधारित विधि

Question Number : 130 Question Id : 71939922168 Question Type : MCQ Option Shuffling : Yes Display Question Number : Yes  
Single Line Question Option : No Option Orientation : Vertical

Correct Marks : 1 Wrong Marks : 0.25

IDEAL model for problem solving was developed by \_\_\_\_\_.

Options :

- 1. ✓ Bransford
- 2. ✗ Ballord
- 3. ✗ Bandura
- 4. ✗ Lev Vygotsky

Question Number : 130 Question Id : 71939922168 Question Type : MCQ Option Shuffling : Yes Display Question Number : Yes  
Single Line Question Option : No Option Orientation : Vertical

Correct Marks : 1 Wrong Marks : 0.25

समस्या समाधान के लिए IDEAL मॉडल \_\_\_\_\_ द्वारा विकसित किया गया था।



Options :

1. ✓ ब्रैस्फोर्ड
2. ✗ बैलॉर्ड
3. ✗ बंडुरा
4. ✗ लेव विजोस्की

Question Number : 131 Question Id : 71939922169 Question Type : MCQ Option Shuffling : Yes Display Question Number : Yes  
Single Line Question Option : No Option Orientation : Vertical

Correct Marks : 1 Wrong Marks : 0.25

\_\_\_\_\_ intelligence according to Gardener helps individuals to recognize and make distinction about others' feelings, intentions and respond accordingly.

Options :

1. ✓ Intra-personal
2. ✗ Inter-personal
3. ✗ Musical
4. ✗ Linguistic

Question Number : 131 Question Id : 71939922169 Question Type : MCQ Option Shuffling : Yes Display Question Number : Yes  
Single Line Question Option : No Option Orientation : Vertical

Correct Marks : 1 Wrong Marks : 0.25

गार्डनर के अनुसार \_\_\_\_\_ बुद्धिमत्ता व्यक्तियों को दूसरों की भावनाओं, इरादों तथा प्रतिक्रियाओं को पहचानने तथा उसके अनुसार विभेदन करने में सहायता करती है।

Options :

1. ✓ इंटरा-पर्सनल
2. ✗ अंत-व्यैक्तिक
3. ✗ संगीतमय
4. ✗ भाषा

Question Number : 132 Question Id : 71939922170 Question Type : MCQ Option Shuffling : Yes Display Question Number : Yes  
Single Line Question Option : No Option Orientation : Vertical

Correct Marks : 1 Wrong Marks : 0.25

Which of the following are the characteristics of the learning-centred education?

- I. Teaching and assessing are interwoven.
- II. Teacher and students evaluate learning together.
- III. Emphasis is on generating better questions and learning from errors.

Options :

1. ✗ I and II
2. ✗ II and III
3. ✗ I and III
4. ✓ I, II and III

Question Number : 132 Question Id : 71939922170 Question Type : MCQ Option Shuffling : Yes Display Question Number : Yes  
Single Line Question Option : No Option Orientation : Vertical

Correct Marks : 1 Wrong Marks : 0.25

निम्नलिखित में से क्या अधिगम केंद्रित शिक्षा की विशेषताएं हैं?

- I. शिक्षण तथा मूल्यांकन परस्पर जुड़े हुए हैं।
- II. अध्यापक तथा विद्यार्थी मिलकर अधिगम का मूल्यांकन करते हैं।
- III. त्रुटियों से बेहतर प्रश्न तथा अधिगम उत्पन्न करने पर बल दिया जाता है।

Options :

1. ✖ I तथा II
2. ✖ II तथा III
3. ✖ I तथा III
4. ✔ I, II तथा III

Question Number : 133 Question Id : 71939922171 Question Type : MCQ Option Shuffling : Yes Display Question Number : Yes  
Single Line Question Option : No Option Orientation : Vertical

Correct Marks : 1 Wrong Marks : 0.25

In which of the following areas of learning, does Co-operative approach have a positive effect?

- I. Academic achievement
- II. Collaborative behaviour
- III. Cross-cultural understanding
- IV. Relationship and attitudes towards disabled students

Options :

1. ✖ I, II and III
2. ✖ II, III and IV
3. ✖ I, III and IV
4. ✔ I, II, III and IV

Question Number : 133 Question Id : 71939922171 Question Type : MCQ Option Shuffling : Yes Display Question Number : Yes  
Single Line Question Option : No Option Orientation : Vertical

Correct Marks : 1 Wrong Marks : 0.25

निम्नलिखित में से अधिगम के किस क्षेत्र में सहकारी उपागम का सकारात्मक प्रभाव पड़ता है?

- I. शैक्षणिक उपलब्धि
- II. सहयोगात्मक व्यवहार
- III. अतः सांस्कृतिक समझ
- IV. विकलांग विद्यार्थियों के प्रति संबंध तथा अभिवृत्ति

Options :

1. ✖ I, II तथा III
2. ✖ II, III तथा IV
3. ✖ I, III तथा IV
4. ✔ I, II, III तथा IV

Question Number : 134 Question Id : 71939922172 Question Type : MCQ Option Shuffling : Yes Display Question Number : Yes  
Single Line Question Option : No Option Orientation : Vertical

Correct Marks : 1 Wrong Marks : 0.25

Which methods is/are used for examining Collaborative learning processes?

- I. Conversation analysis
- II. Statistical discourse analysis

Options :

1. ✖ Only I
2. ✖ Only II
3. ✔ Both I and II
4. ✖ Neither I nor II

Question Number : 134 Question Id : 71939922172 Question Type : MCQ Option Shuffling : Yes Display Question Number : Yes  
Single Line Question Option : No Option Orientation : Vertical

Correct Marks : 1 Wrong Marks : 0.25

सहयोगात्मक अधिगम प्रक्रियाओं के परिक्षण के लिए किस विधि(यों) का उपयोग किया जाता है/हैं?

- I. संवाद विश्लेषण
- II. सांख्यिकी प्रोक्ति विश्लेषण

Options :

- 1. ✖ केवल I
- 2. ✖ केवल II
- 3. ✔ I तथा II दोनों
- 4. ✖ ना ही I ना ही II

Question Number : 135 Question Id : 71939922173 Question Type : MCQ Option Shuffling : Yes Display Question Number : Yes  
Single Line Question Option : No Option Orientation : Vertical

Correct Marks : 1 Wrong Marks : 0.25

What is the role of a teacher in enhancing physical climate of the classroom?

- I. To encourage students for beautification of the classroom walls with paintings and activity charts.
- II. To ensure safe and secured conditions of the building in which the class functions.
- III. To encourage students to share different activities like cleaning, disposal of garbage etc. among themselves.

Options :

- 1. ✖ I and II
- 2. ✖ II and III
- 3. ✖ I and III
- 4. ✔ I, II and III

Question Number : 135 Question Id : 71939922173 Question Type : MCQ Option Shuffling : Yes Display Question Number : Yes  
Single Line Question Option : No Option Orientation : Vertical

Correct Marks : 1 Wrong Marks : 0.25

कक्षा के भौतिक वातावरण की गुणवत्ता को बढ़ाने में अध्यापक की क्या भूमिका होती है?

- I. विद्यार्थियों को कक्षा की दीवारों को चित्रकारी तथा क्रियाकलाप वाले चार्ट से सुंदर बनाने के लिए प्रोत्साहित करना
- II. जिस इमारत में कक्षा होती है उसकी कुशलता तथा सुरक्षा सुनिश्चित करना
- III. विद्यार्थियों को विभिन्न क्रियाकलापों जैसे सफाई, कचरा निपटान आदि के लिए आपस में प्रोत्साहित करना

Options :

- 1. ✖ I तथा II
- 2. ✖ II तथा III
- 3. ✖ I तथा III
- 4. ✔ I, II तथा III

Question Number : 136 Question Id : 71939922174 Question Type : MCQ Option Shuffling : Yes Display Question Number : Yes  
Single Line Question Option : No Option Orientation : Vertical

Correct Marks : 1 Wrong Marks : 0.25

What is/are the roles of the teacher as a classroom manager?

I. Teacher has to plan meticulously the learning activities, provision of material and assessment strategies in advance.

II. The teacher has to ensure that every child in the class realize their right to participation and right to organization.

Options :

- 1. ✖ Only I
- 2. ✖ Only II
- 3. ✔ Both I and II

4. ✖ Neither I nor II

Question Number : 136 Question Id : 71939922174 Question Type : MCQ Option Shuffling : Yes Display Question Number : Yes  
Single Line Question Option : No Option Orientation : Vertical

Correct Marks : 1 Wrong Marks : 0.25

कक्षा प्रबंधक के रूप में अध्यापक की भूमिकाएं क्या हैं/हैं?

I. अध्यापक को अधिगम क्रियाकलापों, सामग्री के प्रावधान तथा मूल्यांकन रणनीतियों को पहले से ही सावधानीपूर्वक नियोजित करना होता है।

II. अध्यापक को यह सुनिश्चित करना होता है कि कक्षा में प्रत्येक विद्यार्थी अपने भागीदारी के अधिकार तथा संगठन बनाने के अधिकार से अवगत हो।

Options :

1. ✖ केवल I
2. ✖ केवल II
3. ✔ I तथा II दोनों
4. ✖ ना ही I ना ही II

Question Number : 137 Question Id : 71939922175 Question Type : MCQ Option Shuffling : Yes Display Question Number : Yes  
Single Line Question Option : No Option Orientation : Vertical

Correct Marks : 1 Wrong Marks : 0.25

The dictionaries and grammars derive their value from \_\_\_\_\_.

Options :

1. ✖ human behaviour
2. ✖ environment
3. ✔ speech community
4. ✖ the price of the book

Question Number : 137 Question Id : 71939922175 Question Type : MCQ Option Shuffling : Yes Display Question Number : Yes  
Single Line Question Option : No Option Orientation : Vertical

Correct Marks : 1 Wrong Marks : 0.25

शब्दकोश और व्याकरण \_\_\_\_\_ से अपना महत्व प्राप्त करते हैं।

Options :

1. ✖ मानवीय व्यवहार
2. ✖ परिवेश
3. ✔ भाषा समुदाय
4. ✖ पुस्तक की कीमत

Question Number : 138 Question Id : 71939922176 Question Type : MCQ Option Shuffling : Yes Display Question Number : Yes  
Single Line Question Option : No Option Orientation : Vertical

Correct Marks : 1 Wrong Marks : 0.25

Which of the following can be called as the features of "language"?

I. Language remains completely same throughout one state in a country like India.

II. Language can reveal social identity of the speaker.

III. Our choice of words while we speak shows which place we belong to.

Options :

1. ✖ I and II
2. ✔ II and III
3. ✖ I and III
4. ✖ I, II and III

Question Number : 138 Question Id : 71939922176 Question Type : MCQ Option Shuffling : Yes Display Question Number : Yes  
Single Line Question Option : No Option Orientation : Vertical

Correct Marks : 1 Wrong Marks : 0.25

निम्नलिखित में से किसे "भाषा" की विशेषताएं कहा जा सकता है?

- I. भारत जैसे देश में पूरे एक राज्य में भाषा पूरी तरह से समान रहती है।
- II. भाषा स्पीकर की सामाजिक पहचान को प्रकट कर सकती है।
- III. जब हम बोलते हैं तो शब्दों के बारे में हमारी पसंद दिखाती है कि हम किस स्थान से संबंधित हैं।

Options :

- 1. ✖ I तथा II
- 2. ✔ II तथा III
- 3. ✖ I तथा III
- 4. ✖ I, II तथा III

Question Number : 139 Question Id : 71939922177 Question Type : MCQ Option Shuffling : Yes Display Question Number : Yes  
Single Line Question Option : No Option Orientation : Vertical

Correct Marks : 1 Wrong Marks : 0.25

Which of the following languages belong to Indo-Argo family?

- I. Hindi
- II. Nepali
- III. Assamese
- IV. Punjab

Options :

- 1. ✖ I, II and III
- 2. ✖ Both I and IV
- 3. ✖ I, III and IV
- 4. ✔ I, II, III and IV

Question Number : 139 Question Id : 71939922177 Question Type : MCQ Option Shuffling : Yes Display Question Number : Yes  
Single Line Question Option : No Option Orientation : Vertical

Correct Marks : 1 Wrong Marks : 0.25

निम्नलिखित में से कौन सी भाषा इंडो-अर्गो परिवार से संबंधित है?

- I. हिंदी
- II. नेपाली
- III. असमिया
- IV. पंजाब

Options :

- 1. ✖ I, II तथा III
- 2. ✖ I तथा IV दोनों
- 3. ✖ I, III तथा IV
- 4. ✔ I, II, III तथा IV

Question Number : 140 Question Id : 71939922178 Question Type : MCQ Option Shuffling : Yes Display Question Number : Yes  
Single Line Question Option : No Option Orientation : Vertical

Correct Marks : 1 Wrong Marks : 0.25

Mathematization is regarded as constituting the higher aims of mathematics and it includes \_\_\_\_\_.

- I. Visualization
- II. Optimisation
- III. representation

Options :

1. ✖ II and III
2. ✖ I and III
3. ✖ I and II
4. ✔ I, II and III

Question Number : 140 Question Id : 71939922178 Question Type : MCQ Option Shuffling : Yes Display Question Number : Yes  
Single Line Question Option : No Option Orientation : Vertical

Correct Marks : 1 Wrong Marks : 0.25

गणितीयकरण को गणित के उच्च लक्ष्यों को संचरित करने के रूप में देखा जाता है तथा इसमें \_\_\_\_\_ शामिल है।

- I. मानसदर्शन
- II. इष्टतमीकरण
- III. निरूपण

Options :

1. ✖ II तथा III
2. ✖ I तथा III
3. ✖ I तथा II
4. ✔ I, II तथा III

Discipline3

Group Number :	8
Group Id :	719399866
Group Maximum Duration :	0
Group Minimum Duration :	0
Revisit allowed for view? :	No
Revisit allowed for edit? :	No
Break time:	0
Group Marks:	20
Revisit allowed for group Instructions? :	Yes
Maximum Instruction Time:	0
Minimum Instruction Time:	0

Discipline3

Section Id :	719399976
Section Number :	1
Section type :	Online
Mandatory or Optional:	Mandatory
Number of Questions:	20
Number of Questions to be attempted:	20
Section Marks:	20
Display Number Panel:	Yes
Group All Questions:	No

Sub-Section Number:	1
Sub-Section Id:	7193991174
Question Shuffling Allowed :	Yes

Question Number : 141 Question Id : 71939922179 Question Type : MCQ Option Shuffling : Yes Display Question Number : Yes  
Single Line Question Option : No Option Orientation : Vertical

Correct Marks : 1 Wrong Marks : 0.25

"After understanding the topic of fractions, a student asks a few questions from his/her teacher." The above statement indicates which sequential phase of 5 E's learning model?

Options :

1. ✖ Evaluation
2. ✖ Explanation
3. ✔ Elaboration
4. ✖ Exploration

Question Number : 141 Question Id : 71939922179 Question Type : MCQ Option Shuffling : Yes Display Question Number : Yes  
Single Line Question Option : No Option Orientation : Vertical

Correct Marks : 1 Wrong Marks : 0.25

"भिन्न के विषय को समझने के बाद, एक छात्र अपने शिक्षक से कुछ प्रश्न पूछता है" उपरोक्त कथन 5E अधिगम मॉडल की किस अनुक्रमिक अवस्था को दर्शाता है?

Options :

1. ✖ मूल्यांकन
2. ✖ स्पष्टीकरण
3. ✔ विस्तार
4. ✖ अन्वेषण

Question Number : 142 Question Id : 71939922180 Question Type : MCQ Option Shuffling : Yes Display Question Number : Yes  
Single Line Question Option : No Option Orientation : Vertical

Correct Marks : 1 Wrong Marks : 0.25

Which of the following is/are the examples of deductive method of teaching mathematics?

- I. If we have to find the square of  $(112)^2$ , then we can use the method of  $(a + b)^2 = a^2 + b^2 + 2ab$
- II. If we have to find the value of  $(C^{10}/C^2)$ , then we can use the law of indices i.e.  $(a^m/a^n) = a^{m-n}$

Options :

1. ✖ Only I
2. ✖ Only II
3. ✔ Both I and II
4. ✖ Neither I nor II

Question Number : 142 Question Id : 71939922180 Question Type : MCQ Option Shuffling : Yes Display Question Number : Yes  
Single Line Question Option : No Option Orientation : Vertical

Correct Marks : 1 Wrong Marks : 0.25

निम्नलिखित में से कौन सा/से गणित शिक्षण की निगमनात्मक विधि के उदाहरण हैं?

I. यदि हमें  $(112)^2$  का वर्ग ज्ञात करना है, तो हम  $(a + b)^2 = a^2 + b^2 + 2ab$  की विधि का उपयोग कर सकते हैं

II. यदि हमें  $(C^{10}/C^2)$  का मान ज्ञात करना है, तो हम घातांक नियम का उपयोग कर सकते हैं अर्थात्  $(a^m/a^n) = a^{m-n}$

Options :

- ✗ केवल I
- ✗ केवल II
- ✓ I तथा II दोनों
- ✗ ना ही I ना ही II

Question Number : 143 Question Id : 71939922181 Question Type : MCQ Option Shuffling : Yes Display Question Number : Yes  
Single Line Question Option : No Option Orientation : Vertical

Correct Marks : 1 Wrong Marks : 0.25

Which of the following is/are the instructional objectives of mathematics?

- I. To develop in the child the power of thinking and reasoning.
- II. To perform computations with speed and accuracy.
- III. To understand and get acquainted with different coins.

Options :

- ✗ I and III
- ✗ Only II
- ✗ II and III
- ✓ I, II and III

Question Number : 143 Question Id : 71939922181 Question Type : MCQ Option Shuffling : Yes Display Question Number : Yes  
Single Line Question Option : No Option Orientation : Vertical

Correct Marks : 1 Wrong Marks : 0.25

निम्नलिखित में से क्या गणित के अनुदेशात्मक उद्देश्य हैं?

- I. बच्चे में सोचने तथा तर्क करने की क्षमता का विकास करना।
- II. तीव्रता तथा सटीकता के साथ गणना करना।
- III. विभिन्न सिद्धों को समझना तथा पहचानना।

Options :

- ✗ I तथा III
- ✗ केवल II
- ✗ II तथा III
- ✓ I, II तथा III



Question Number : 144 Question Id : 71939922182 Question Type : MCQ Option Shuffling : Yes Display Question Number : Yes  
Single Line Question Option : No Option Orientation : Vertical

Correct Marks : 1 Wrong Marks : 0.25

Process of reflective thinking includes which of the following?

- I. Inventing
- II. Theory Building
- III. Generalizing

Options :

- 1. ✖ I and III
- 2. ✖ II and III
- 3. ✔ I, II and III
- 4. ✖ Only II

Question Number : 144 Question Id : 71939922182 Question Type : MCQ Option Shuffling : Yes Display Question Number : Yes  
Single Line Question Option : No Option Orientation : Vertical

Correct Marks : 1 Wrong Marks : 0.25

विचारात्मक चिंतन की प्रक्रिया में निम्नलिखित में से क्या शामिल होता है?

- I. आविष्कार
- II. सिद्धांत निर्माण
- III. सामान्यीकरण

Options :

- 1. ✖ I तथा III
- 2. ✖ II तथा III
- 3. ✔ I, II तथा III
- 4. ✖ केवल II

Question Number : 145 Question Id : 71939922183 Question Type : MCQ Option Shuffling : Yes Display Question Number : Yes  
Single Line Question Option : No Option Orientation : Vertical

Correct Marks : 1 Wrong Marks : 0.25

Which of the following statement is correct about Mathematical thinking?

- I. Mathematical thinking consists of solving problem and posing problems.
- II. Mathematical thinking requires the skills of precise thinking and logical reasoning.

Options :

- 1. ✖ Only I
- 2. ✖ Only II
- 3. ✔ Both I and II
- 4. ✖ Neither I nor II

Question Number : 145 Question Id : 71939922183 Question Type : MCQ Option Shuffling : Yes Display Question Number : Yes  
Single Line Question Option : No Option Orientation : Vertical

Correct Marks : 1 Wrong Marks : 0.25

गणितीय चिंतन के बारे में निम्नलिखित में से कौन सा कथन सही है?

- I. गणितीय चिंतन में समस्या समाधान तथा समस्या निर्माण शामिल है।
- II. गणितीय चिंतन में सटीक चिंतन तथा तार्किक विवेचन कौशल की आवश्यकता होती है।

Options :

- 1. ✖ केवल I
- 2. ✖ केवल II
- 3. ✔ I तथा II दोनों

4. ✖ ना ही I ना ही II

Question Number : 146 Question Id : 71939922184 Question Type : MCQ Option Shuffling : Yes Display Question Number : Yes  
Single Line Question Option : No Option Orientation : Vertical

Correct Marks : 1 Wrong Marks : 0.25

Which of the following is not a phase of 5 E's learning model?

Options :

1. ✖ Exploration phase
2. ✖ Engagement phase
3. ✖ Evaluation phase
4. ✔ Examination phase

Question Number : 146 Question Id : 71939922184 Question Type : MCQ Option Shuffling : Yes Display Question Number : Yes  
Single Line Question Option : No Option Orientation : Vertical

Correct Marks : 1 Wrong Marks : 0.25

निम्नलिखित में से कौन सी 5E अधिगम मॉडल की एक अवस्था नहीं है?

Options :

1. ✖ अन्वेषण अवस्था
2. ✖ विनियोजन अवस्था
3. ✖ मूल्यांकन अवस्था
4. ✔ परीक्षण अवस्था

Question Number : 147 Question Id : 71939922185 Question Type : MCQ Option Shuffling : Yes Display Question Number : Yes  
Single Line Question Option : No Option Orientation : Vertical

Correct Marks : 1 Wrong Marks : 0.25

By which of the following method of teaching mathematics, a teacher can help the children to apply the concept of profit and loss from the textbooks during marketing?

- I. Analytic method
- II. Project method

Options :

1. ✖ Only I
2. ✔ Only II
3. ✖ Both I and II
4. ✖ Neither I nor II

Question Number : 147 Question Id : 71939922185 Question Type : MCQ Option Shuffling : Yes Display Question Number : Yes  
Single Line Question Option : No Option Orientation : Vertical

Correct Marks : 1 Wrong Marks : 0.25

गणित शिक्षण की निम्नलिखित में से किस विधि से, शिक्षक बच्चों को विपणन के दौरान पाठ्यपुस्तकों से लाभ तथा हानि की अवधारणा को लागू करने में मदद कर सकते हैं?

- I. विश्लेषणात्मक विधि
- II. परियोजना विधि

Options :

1. ✖ केवल I
2. ✔ केवल II
3. ✖ I तथा II दोनों
4. ✖ ना ही I ना ही II

Question Number : 148 Question Id : 71939922186 Question Type : MCQ Option Shuffling : Yes Display Question Number : Yes  
Single Line Question Option : No Option Orientation : Vertical

Correct Marks : 1 Wrong Marks : 0.25

Which of the following examples can help the students in connecting their knowledge with the life outside the school?

I. Going market with their parents and observing and participating in the way of buying and selling of goods and also understanding the approach of buyer and seller.

II. A frog climbs 60 meters on a pole in a day and slides back 50 meters in a night. If the pole is 100 meters high, then how many days the frog will take to climb to the top of the pole?

Options :

1. ✖ Only I
2. ✖ Only II
3. ✔ Both I and II
4. ✖ Neither I nor II

Question Number : 148 Question Id : 71939922186 Question Type : MCQ Option Shuffling : Yes Display Question Number : Yes  
Single Line Question Option : No Option Orientation : Vertical

Correct Marks : 1 Wrong Marks : 0.25

निम्नलिखित में से कौन सा उदाहरण विद्यार्थियों को अपने ज्ञान को विद्यालय के बाहर के जीवन से जोड़ने में मदद कर सकता है?

I. अपने माता-पिता के साथ बाज़ार जाना तथा सामान खरीदने तथा बेचने की प्रक्रिया को देखना तथा भाग लेना तथा खरीदार तथा विक्रेता के दृष्टिकोण को भी समझना।

II. एक मेंढक एक दिन में खम्बे पर 60 मीटर तक चढ़ता है तथा एक रात में 50 मीटर नीचे खिसक जाता है। यदि खम्बा 100 मीटर ऊंचा है, तो मेंढक खम्बे के शीर्ष पर चढ़ने में कितने दिन लेगा?

Options :

1. ✖ केवल I
2. ✖ केवल II
3. ✔ I तथा II दोनों
4. ✖ ना ही I ना ही II

Question Number : 149 Question Id : 71939922187 Question Type : MCQ Option Shuffling : Yes Display Question Number : Yes  
Single Line Question Option : No Option Orientation : Vertical

Correct Marks : 1 Wrong Marks : 0.25

\_\_\_\_\_ refers to the application of concepts, procedures and methods developed in mathematics to the objects of other discipline or at least of other fields of knowledge.

Options :

1. ✖ Simplification
2. ✖ Generalization
3. ✔ Mathematization
4. ✖ Specialization

Question Number : 149 Question Id : 71939922187 Question Type : MCQ Option Shuffling : Yes Display Question Number : Yes  
Single Line Question Option : No Option Orientation : Vertical

Correct Marks : 1 Wrong Marks : 0.25

\_\_\_\_\_ गणित में विकसित अवधारणाओं, प्रक्रियाओं तथा विधियों के दूसरे विषयों की वस्तुओं या कम से कम ज्ञान के दूसरे क्षेत्रों में अनुप्रयोग को संदर्भित करता है।

Options :

1. ✖ सरलीकरण
2. ✖ सामान्यीकरण
3. ✔ गणितीयकरण

#### 4. ✖ विशेषीकरण

Question Number : 150 Question Id : 71939922188 Question Type : MCQ Option Shuffling : Yes Display Question Number : Yes  
Single Line Question Option : No Option Orientation : Vertical

Correct Marks : 1 Wrong Marks : 0.25

Find the part of the given sentence that has an error in it. If there is no error, choose 'No error'.

The greatest advancement (1)/ in modern technology is (2)/ the invention with computers (3)/ No error (4)

Options :

1. ✖ 1

2. ✖ 2

3. ✔ 3

4. ✖ 4

Question Number : 150 Question Id : 71939922188 Question Type : MCQ Option Shuffling : Yes Display Question Number : Yes  
Single Line Question Option : No Option Orientation : Vertical

Correct Marks : 1 Wrong Marks : 0.25

Find the part of the given sentence that has an error in it. If there is no error, choose 'No error'.

The greatest advancement (1)/ in modern technology is (2)/ the invention with computers (3)/ No error (4)

Options :

1. ✖ 1

2. ✖ 2

3. ✔ 3

4. ✖ 4

Question Number : 151 Question Id : 71939922189 Question Type : MCQ Option Shuffling : Yes Display Question Number : Yes  
Single Line Question Option : No Option Orientation : Vertical

Correct Marks : 1 Wrong Marks : 0.25

Choose the word that is opposite in meaning to the given word.

Harmony

Options :

1. ✖ skill

2. ✖ undo

3. ✖ accord

4. ✔ discord

Question Number : 151 Question Id : 71939922189 Question Type : MCQ Option Shuffling : Yes Display Question Number : Yes  
Single Line Question Option : No Option Orientation : Vertical

Correct Marks : 1 Wrong Marks : 0.25

Choose the word that is opposite in meaning to the given word.

Harmony

Options :

1. ✖ skill

2. ✖ undo

3. ✖ accord

4. ✔ discord

Question Number : 152 Question Id : 71939922190 Question Type : MCQ Option Shuffling : Yes Display Question Number : Yes  
Single Line Question Option : No Option Orientation : Vertical

Correct Marks : 1 Wrong Marks : 0.25

Choose the word that is opposite in meaning to the given word.

Expensive

Options :

1. ✖ dear
2. ✖ costly
3. ✖ plenty
4. ✔ cheap

Question Number : 152 Question Id : 71939922190 Question Type : MCQ Option Shuffling : Yes Display Question Number : Yes  
Single Line Question Option : No Option Orientation : Vertical

Correct Marks : 1 Wrong Marks : 0.25

Choose the word that is opposite in meaning to the given word.

Expensive

Options :

1. ✖ dear
2. ✖ costly
3. ✖ plenty
4. ✔ cheap

Question Number : 153 Question Id : 71939922191 Question Type : MCQ Option Shuffling : Yes Display Question Number : Yes  
Single Line Question Option : No Option Orientation : Vertical

Correct Marks : 1 Wrong Marks : 0.25

Choose the word that means the same as the given word.

Modern

Options :

1. ✖ obsolete
2. ✖ merry
3. ✖ worldly
4. ✔ current

Question Number : 153 Question Id : 71939922191 Question Type : MCQ Option Shuffling : Yes Display Question Number : Yes  
Single Line Question Option : No Option Orientation : Vertical

Correct Marks : 1 Wrong Marks : 0.25

Choose the word that means the same as the given word.

Modern

Options :

1. ✖ obsolete
2. ✖ merry
3. ✖ worldly
4. ✔ current

Question Number : 154 Question Id : 71939922192 Question Type : MCQ Option Shuffling : Yes Display Question Number : Yes  
Single Line Question Option : No Option Orientation : Vertical

Correct Marks : 1 Wrong Marks : 0.25

Choose the word that can substitute the given sentence.

Absence of government

Options :

1. ✖ plutocracy
2. ✖ apostate
3. ✔ anarchy
4. ✖ theocracy

Question Number : 154 Question Id : 71939922192 Question Type : MCQ Option Shuffling : Yes Display Question Number : Yes  
Single Line Question Option : No Option Orientation : Vertical

Correct Marks : 1 Wrong Marks : 0.25

Choose the word that can substitute the given sentence.

Absence of government

Options :

1. ✖ plutocracy
2. ✖ apostate
3. ✔ anarchy
4. ✖ theocracy

Question Number : 155 Question Id : 71939922193 Question Type : MCQ Option Shuffling : Yes Display Question Number : Yes  
Single Line Question Option : No Option Orientation : Vertical

Correct Marks : 1 Wrong Marks : 0.25

Choose the word that can substitute the given sentence.

A person who spends very little

Options :

1. ✖ drey
2. ✖ claque
3. ✔ miser
4. ✖ stoic

Question Number : 155 Question Id : 71939922193 Question Type : MCQ Option Shuffling : Yes Display Question Number : Yes  
Single Line Question Option : No Option Orientation : Vertical

Correct Marks : 1 Wrong Marks : 0.25

Choose the word that can substitute the given sentence.

A person who spends very little

Options :

1. ✖ drey
2. ✖ claque
3. ✔ miser
4. ✖ stoic

Question Number : 156 Question Id : 71939922194 Question Type : MCQ Option Shuffling : Yes Display Question Number : Yes  
Single Line Question Option : No Option Orientation : Vertical

Correct Marks : 1 Wrong Marks : 0.25

In the following question, out of the given four alternatives, select the alternative which best expresses the meaning of the Idiom/Phrase.

To take something to heart

Options :

1. ✖ stand out of the way
2. ✔ to be greatly affected by something
3. ✖ to reach a crises
4. ✖ assume responsibility for

Question Number : 156 Question Id : 71939922194 Question Type : MCQ Option Shuffling : Yes Display Question Number : Yes  
Single Line Question Option : No Option Orientation : Vertical

Correct Marks : 1 Wrong Marks : 0.25

In the following question, out of the given four alternatives, select the alternative which best expresses the meaning of the Idiom/Phrase.

To take something to heart

Options :

1. ✖ stand out of the way
2. ✔ to be greatly affected by something
3. ✖ to reach a crises
4. ✖ assume responsibility for

Question Number : 157 Question Id : 71939922195 Question Type : MCQ Option Shuffling : Yes Display Question Number : Yes  
Single Line Question Option : No Option Orientation : Vertical

Correct Marks : 1 Wrong Marks : 0.25

A sentence has been given with a blank to be filled with an appropriate word. Choose the correct alternative.

I \_\_\_\_\_ the teacher to excuse me.

Options :

1. ✖ told
2. ✖ tell
3. ✖ ask
4. ✔ asked

Question Number : 157 Question Id : 71939922195 Question Type : MCQ Option Shuffling : Yes Display Question Number : Yes  
Single Line Question Option : No Option Orientation : Vertical

Correct Marks : 1 Wrong Marks : 0.25

A sentence has been given with a blank to be filled with an appropriate word. Choose the correct alternative.

I \_\_\_\_\_ the teacher to excuse me.

Options :

1. ✖ told
2. ✖ tell
3. ✖ ask
4. ✔ asked

Question Number : 158 Question Id : 71939922196 Question Type : MCQ Option Shuffling : Yes Display Question Number : Yes  
Single Line Question Option : No Option Orientation : Vertical

Correct Marks : 1 Wrong Marks : 0.25

Which of the following Kohlberg's stage of moral development works best in two-person relationships with family members or close friends, where one can make a real effort to get to know the other's feelings and needs and try to help?

Options :

- ✗ Universal principles
- ✓ Maintaining the social order
- ✗ Social contract and individual rights
- ✗ Good interpersonal relationships

Question Number : 158 Question Id : 71939922196 Question Type : MCQ Option Shuffling : Yes Display Question Number : Yes  
Single Line Question Option : No Option Orientation : Vertical

Correct Marks : 1 Wrong Marks : 0.25

निम्नलिखित में से कौन सा कोहलबर्ग का नैतिक विकास का चरण परिवार के सदस्यों या करीबी दोस्तों के साथ दो-व्यक्ति संबंधों में सबसे अच्छा काम करता है, जहां एक व्यक्ति दूसरे की भावनाओं और जरूरतों को जानने के लिए वास्तविक प्रयास कर सकता है और मदद करने की कोशिश कर सकता है?

Options :

- ✗ सार्वभौमिक सिद्धांत
- ✓ सामाजिक व्यवस्था बनाए रखना
- ✗ सामाजिक अनुबंध और व्यक्तिगत अधिकार
- ✗ अच्छे पारस्परिक संबंध

Question Number : 159 Question Id : 71939922197 Question Type : MCQ Option Shuffling : Yes Display Question Number : Yes  
Single Line Question Option : No Option Orientation : Vertical

Correct Marks : 1 Wrong Marks : 0.25

In practice, Skinner's follower often deal with species-specific behaviour as the topography of a \_\_\_\_\_.

- human being
- response

Options :

- ✗ Only I
- ✓ Only II
- ✗ Both I and II
- ✗ Neither I nor II

Question Number : 159 Question Id : 71939922197 Question Type : MCQ Option Shuffling : Yes Display Question Number : Yes  
Single Line Question Option : No Option Orientation : Vertical

Correct Marks : 1 Wrong Marks : 0.25

अभ्यास में, स्किनर के अनुयायी अक्सर प्रजाति-विशिष्ट व्यवहार के साथ एक \_\_\_\_\_ की स्थलाकृति के रूप में कार्य करते हैं।

- मानव
- प्रतिक्रिया

Options :

- ✗ केवल I
- ✓ केवल II
- ✗ I तथा II दोनों
- ✗ ना ही I ना ही II

Question Number : 160 Question Id : 71939922198 Question Type : MCQ Option Shuffling : Yes Display Question Number : Yes  
Single Line Question Option : No Option Orientation : Vertical

Correct Marks : 1 Wrong Marks : 0.25



What is socialization process?

- I. A process by which societies induce their members to behave in socially acceptable ways.
- II. A process by which societies are induced by their members to behave in socially acceptable ways.

Options :

- 1. ☒ Only I
- 2. ☐ Only II
- 3. ☐ Both I and II
- 4. ☐ Neither I nor II

Question Number : 160 Question Id : 71939922198 Question Type : MCQ Option Shuffling : Yes Display Question Number : Yes  
Single Line Question Option : No Option Orientation : Vertical

Correct Marks : 1 Wrong Marks : 0.25

समाजीकरण प्रक्रिया क्या है?

- I. एक प्रक्रिया जिसके द्वारा समाज अपने सदस्यों को सामाजिक रूप से स्वीकार्य तरीके से व्यवहार करने के लिए प्रेरित करते हैं।
- II. एक प्रक्रिया जिसके द्वारा समाज अपने सदस्यों द्वारा सामाजिक रूप से स्वीकार्य तरीके से व्यवहार करने के लिए प्रेरित होती है।

Options :

- 1. ☒ केवल I
- 2. ☐ केवल II
- 3. ☐ I तथा II दोनों
- 4. ☐ ना ही I ना ही II

Discipline4

Group Number :	9
Group Id :	719399867
Group Maximum Duration :	0
Group Minimum Duration :	0
Revisit allowed for view? :	No
Revisit allowed for edit? :	No
Break time:	0
Group Marks:	20
Revisit allowed for group Instructions? :	Yes
Maximum Instruction Time:	0
Minimum Instruction Time:	0

Discipline4

Section Id :	719399977
Section Number :	1
Section type :	Online
Mandatory or Optional:	Mandatory
Number of Questions:	20
Number of Questions to be attempted:	20
Section Marks:	20
Display Number Panel:	Yes
Group All Questions:	No

Sub-Section Number: 1  
Sub-Section Id: 7193991175  
Question Shuffling Allowed : Yes

Question Number : 161 Question Id : 71939922199 Question Type : MCQ Option Shuffling : Yes Display Question Number : Yes  
Single Line Question Option : No Option Orientation : Vertical

Correct Marks : 1 Wrong Marks : 0.25

How many reasons are behind the Erikson's theory being a stage theory?

Options :

1. ✖ 1
2. ✖ 2
3. ✖ 3
4. ✔ 4

Question Number : 161 Question Id : 71939922199 Question Type : MCQ Option Shuffling : Yes Display Question Number : Yes  
Single Line Question Option : No Option Orientation : Vertical

Correct Marks : 1 Wrong Marks : 0.25

एरिकसन के सिद्धांत का एक स्टेज सिद्धांत होने के पीछे कितने कारण हैं?

Options :

1. ✖ 1
2. ✖ 2
3. ✖ 3
4. ✔ 4

Question Number : 162 Question Id : 71939922200 Question Type : MCQ Option Shuffling : Yes Display Question Number : Yes  
Single Line Question Option : No Option Orientation : Vertical

Correct Marks : 1 Wrong Marks : 0.25

Which of the following statement(s) is/are correct regarding creative expression in EVS?

- I. Creativity enhances ability to manage change.
- II. Creative expressions can be very useful in developing the affective domain.
- III. Creativity stimulates learning.

Options :

1. ✖ Only I
2. ✖ Both I and II
3. ✖ Both II and III
4. ✔ I, II and III

Question Number : 162 Question Id : 71939922200 Question Type : MCQ Option Shuffling : Yes Display Question Number : Yes  
Single Line Question Option : No Option Orientation : Vertical

Correct Marks : 1 Wrong Marks : 0.25

ई.वी.एस. में रचनात्मक अभिव्यक्ति के संबंध में निम्नलिखित में से कौन सा कथन सही है/हैं?

- I. रचनात्मकता परिवर्तन को प्रबंधित करने की क्षमता बढ़ाती है।
- II. रचनात्मक अभिव्यक्तियाँ भावात्मक डोमेन को विकसित करने में बहुत उपयोगी हो सकती हैं।
- III. रचनात्मकता अधिगम को उत्तेजित करती है।

Options :

1. ✖ केवल I
2. ✖ I तथा II दोनों
3. ✖ II तथा III दोनों
4. ✔ I, II तथा III

Question Number : 163 Question Id : 71939922201 Question Type : MCQ Option Shuffling : Yes Display Question Number : Yes  
Single Line Question Option : No Option Orientation : Vertical

Correct Marks : 1 Wrong Marks : 0.25

Which of the following can be a learning objective in EVS lesson plan while teaching about living and non - living things?

Options :

1. ✓ Students could tell the characteristics of living and non - living things.
2. ✗ Students will differentiate between artificial and natural things.
3. ✗ Students can draw the diagrams of living things.
4. ✗ Students will be able to name all the non - living things.

Question Number : 163 Question Id : 71939922201 Question Type : MCQ Option Shuffling : Yes Display Question Number : Yes  
Single Line Question Option : No Option Orientation : Vertical

Correct Marks : 1 Wrong Marks : 0.25

जीवित और गैर-जीवित चीजों के बारे में पढ़ाते समय ई.वी.एस. पाठ योजना में निम्नलिखित में से कौन सा एक अधिगम उद्देश्य हो सकता है?

Options :

1. ✓ छात्र जीवित और गैर-जीवित चीजों की विशेषताओं को बता सकते हैं
2. ✗ छात्र कृत्रिम और प्राकृतिक चीजों के बीच अंतर करेंगे
3. ✗ छात्र जीवित चीजों के आरेख बना सकते हैं
4. ✗ छात्र सभी गैर-जीवित चीजों के नाम ले सकेंगे

Question Number : 164 Question Id : 71939922202 Question Type : MCQ Option Shuffling : Yes Display Question Number : Yes  
Single Line Question Option : No Option Orientation : Vertical

Correct Marks : 1 Wrong Marks : 0.25

Which of the following is NOT a learning objective in EVS to be considered while assessing?

Options :

1. ✗ To understand children's analytical abilities.
2. ✗ To know about evaluation skills.
3. ✓ Use single variety of testing technique.
4. ✗ Give feed back.

Question Number : 164 Question Id : 71939922202 Question Type : MCQ Option Shuffling : Yes Display Question Number : Yes  
Single Line Question Option : No Option Orientation : Vertical

Correct Marks : 1 Wrong Marks : 0.25

मूल्यांकन करते समय निम्नलिखित में से कौन सा ई.वी.एस. में एक अधिगम उद्देश्य के रूप में नहीं माना जा सकता है?

Options :

1. ✗ बच्चों की विवेचनात्मक क्षमताओं को समझना
2. ✗ मूल्यांकन कौशल के बारे में जानना
3. ✓ परीक्षण तकनीक के एकल प्रकार का उपयोग करना
4. ✗ प्रतिक्रिया देना

Question Number : 165 Question Id : 71939922203 Question Type : MCQ Option Shuffling : Yes Display Question Number : Yes  
Single Line Question Option : No Option Orientation : Vertical

Correct Marks : 1 Wrong Marks : 0.25

Which of the following is NOT one of the aspects of Socio - cultural environment?

Options :

1. ✗ Norms
2. ✗ Traditions

3. ✖ Customs
4. ✔ Architecture

Question Number : 165 Question Id : 71939922203 Question Type : MCQ Option Shuffling : Yes Display Question Number : Yes  
Single Line Question Option : No Option Orientation : Vertical

Correct Marks : 1 Wrong Marks : 0.25

निम्नलिखित में से कौन सा सामाजिक - सांस्कृतिक वातावरण के पहलुओं में से एक नहीं है?

Options :

1. ✖ मानदंड
2. ✖ परम्पराएं
3. ✖ रिवाज
4. ✔ आर्किटेक्चर

Question Number : 166 Question Id : 71939922204 Question Type : MCQ Option Shuffling : Yes Display Question Number : Yes  
Single Line Question Option : No Option Orientation : Vertical

Correct Marks : 1 Wrong Marks : 0.25

Which of the following exercise can teacher give to her/his students to teach about living and non-living things in EVS?

Options :

1. ✖ Ask the students to write about artificial and man-made things.
2. ✔ Ask the students to list living and non-living things that they see around them.
3. ✖ Ask the students to copy the example of living and non-living things from their textbooks.
4. ✖ Ask the students to memorize examples of living and non-living things from their textbooks.

Question Number : 166 Question Id : 71939922204 Question Type : MCQ Option Shuffling : Yes Display Question Number : Yes  
Single Line Question Option : No Option Orientation : Vertical

Correct Marks : 1 Wrong Marks : 0.25

निम्नलिखित में से कौन सा अभ्यास ई.वी.एस में जीवित और निर्जीव चीजों के बारे में सिखाने के लिए शिक्षक अपने छात्रों को दे सकता है?

Options :

1. ✖ छात्रों से कृत्रिम और मानव निर्मित चीजों के बारे में लिखने के लिए कहना।
2. ✔ छात्रों से उन जीवित और निर्जीव चीजों को सूचीबद्ध करने के लिए कहें जो वे अपने आसपास देखते हैं।
3. ✖ छात्रों को अपनी पाठ्यपुस्तकों से जीवित और निर्जीव चीजों के उदाहरण को कॉपी करने के लिए कहें।
4. ✖ छात्रों को अपनी पाठ्यपुस्तकों से जीवित और निर्जीव चीजों के उदाहरण याद करने के लिए कहें।

Question Number : 167 Question Id : 71939922205 Question Type : MCQ Option Shuffling : Yes Display Question Number : Yes  
Single Line Question Option : No Option Orientation : Vertical

Correct Marks : 1 Wrong Marks : 0.25

Which of the following statements is/are true?

- I. Fill-in exercises can be used for vocabulary.
- II. Fill-in exercises do not require much active production of language.

Options :

1. ✖ Only I
2. ✖ Only II
3. ✔ Both I and II
4. ✖ Neither I nor II

Question Number : 167 Question Id : 71939922205 Question Type : MCQ Option Shuffling : Yes Display Question Number : Yes  
Single Line Question Option : No Option Orientation : Vertical

Correct Marks : 1 Wrong Marks : 0.25

निम्नलिखित में से कौन सा/से कथन सही है/हैं?

- I. फिल-इन अभ्यासों का प्रयोग शब्दावली के लिए किया जा सकता है।
- II. फिल-इन अभ्यासों को भाषा के अधिक सक्रिय उत्पादन की आवश्यकता नहीं होती है।

Options :

- 1. ✗ केवल I
- 2. ✗ केवल II
- 3. ✓ I तथा II दोनों
- 4. ✗ ना ही I ना ही II

Question Number : 168 Question Id : 71939922206 Question Type : MCQ Option Shuffling : Yes Display Question Number : Yes  
Single Line Question Option : No Option Orientation : Vertical

Correct Marks : 1 Wrong Marks : 0.25

Book reviews \_\_\_\_\_.

Options :

- 1. ✓ help you to decide on the suitability of a book.
- 2. ✗ give a sense of achievement.
- 3. ✗ show the pupils the new book and tell them what it's about.
- 4. ✗ put the title of the new book on the notice board.

Question Number : 168 Question Id : 71939922206 Question Type : MCQ Option Shuffling : Yes Display Question Number : Yes  
Single Line Question Option : No Option Orientation : Vertical

Correct Marks : 1 Wrong Marks : 0.25

पुस्तक समीक्षाएं \_\_\_\_\_।

Options :

- 1. ✓ किसी पुस्तक की उपयुक्तता के बारे में निर्णय लेने में आपकी सहायता करते हैं।
- 2. ✗ उपलब्धि का बोध देती हैं।
- 3. ✗ विद्यार्थियों को नई पुस्तक दिखाती हैं तथा उन्हें बताती हैं कि यह किस बारे में है।
- 4. ✗ नई पुस्तक का शीर्षक नोटिस बोर्ड पर रखती हैं।

Question Number : 169 Question Id : 71939922207 Question Type : MCQ Option Shuffling : Yes Display Question Number : Yes  
Single Line Question Option : No Option Orientation : Vertical

Correct Marks : 1 Wrong Marks : 0.25

Which of the following is not a reason for using storybooks?

Options :

- 1. ✗ Stories exercise the imagination.
- 2. ✗ Stories are motivating, challenging and enjoyable.
- 3. ✓ Listening to stories in class is a political experience.
- 4. ✗ Storybooks develop children's learning strategies.

Question Number : 169 Question Id : 71939922207 Question Type : MCQ Option Shuffling : Yes Display Question Number : Yes  
Single Line Question Option : No Option Orientation : Vertical

Correct Marks : 1 Wrong Marks : 0.25

निम्नलिखित में से कौन सा कहानी वाली पुस्तकों का उपयोग करने का एक कारण नहीं है?

Options :

- 1. ✗ कहानियां कल्पना की कवायद करती हैं।
- 2. ✗ कहानियां प्रेरक, चुनौतीपूर्ण और सुखद होती हैं।
- 3. ✓ कक्षा में कहानियाँ सुनना एक राजनीतिक अनुभव है।
- 4. ✗ कहानियों वाली पुस्तक बच्चों की अधिगम रणनीतियों का विकास करती हैं।

Question Number : 170 Question Id : 71939922208 Question Type : MCQ Option Shuffling : Yes Display Question Number : Yes  
Single Line Question Option : No Option Orientation : Vertical

Correct Marks : 1 Wrong Marks : 0.25

Which of the following occasions can be decided to use the childrens' first language?

- I. Predicting what comes next in a story.
- II. Discussing learning strategies.

Options :

- 1. ✖ Only I
- 2. ✖ Only II
- 3. ✔ Both I and II
- 4. ✖ Neither I nor II

Question Number : 170 Question Id : 71939922208 Question Type : MCQ Option Shuffling : Yes Display Question Number : Yes  
Single Line Question Option : No Option Orientation : Vertical

Correct Marks : 1 Wrong Marks : 0.25

निम्नलिखित में से किस अवसर पर बच्चों की पहली भाषा का उपयोग करने का निर्णय लिया जा सकता है?

- I. एक कहानी में आगे क्या आता है, इसकी भविष्यवाणी करना
- II. अधिगम रणनीतियों पर चर्चा

Options :

- 1. ✖ केवल I
- 2. ✖ केवल II
- 3. ✔ I तथा II दोनों
- 4. ✖ ना ही I ना ही II

Question Number : 171 Question Id : 71939922209 Question Type : MCQ Option Shuffling : Yes Display Question Number : Yes  
Single Line Question Option : No Option Orientation : Vertical

Correct Marks : 1 Wrong Marks : 0.25

Which story telling technique can be ignored?

Options :

- 1. ✔ Making sound effects all the time.
- 2. ✖ Encourage pupils to take part by giving them chances to repeat key vocabulary and phrases.
- 3. ✖ Commentate on the story where needed and relate it to the children.
- 4. ✖ Ask questions to involve the children.

Question Number : 171 Question Id : 71939922209 Question Type : MCQ Option Shuffling : Yes Display Question Number : Yes  
Single Line Question Option : No Option Orientation : Vertical

Correct Marks : 1 Wrong Marks : 0.25

कहानी सुनाने की कौन सी तकनीक को अनदेखा किया जा सकता है?

Options :

- 1. ✔ हर समय ध्वनि प्रभाव बनाना
- 2. ✖ विद्यार्थियों को मुख्य शब्दावली और वाक्यांशों को दोहराने का मौका देकर भाग लेने के लिए प्रोत्साहित करना
- 3. ✖ जहाँ जरूरत हो कहानी पर टिप्पणी करना तथा कहानी को बच्चों से संबंधित करना
- 4. ✖ बच्चों को शामिल करने के लिए उनसे प्रश्न पूछना

Question Number : 172 Question Id : 71939922210 Question Type : MCQ Option Shuffling : Yes Display Question Number : Yes  
Single Line Question Option : No Option Orientation : Vertical

Correct Marks : 1 Wrong Marks : 0.25

'Shows global understanding of language in context' would come under which head?

Options :

1. ✖ Listening
2. ✖ Speaking
3. ✔ Reading
4. ✖ Writing

Question Number : 172 Question Id : 71939922210 Question Type : MCQ Option Shuffling : Yes Display Question Number : Yes  
Single Line Question Option : No Option Orientation : Vertical

Correct Marks : 1 Wrong Marks : 0.25

'प्रसंग में भाषा की वैश्विक समझ को दिखाना' किस शीर्षक के अंतर्गत आता है?

Options :

1. ✖ सुनना
2. ✖ बोलना
3. ✔ पढ़ना
4. ✖ लिखना

Question Number : 173 Question Id : 71939922211 Question Type : MCQ Option Shuffling : Yes Display Question Number : Yes  
Single Line Question Option : No Option Orientation : Vertical

Correct Marks : 1 Wrong Marks : 0.25

What do you mean by formulaic language?

Options :

1. ✔ The type of english children produce in the early stages of language learning.
2. ✖ The type of english children learn in primary classes.
3. ✖ The type of English children learn in their secondary classes.
4. ✖ The type of English children learn while graduating.

Question Number : 173 Question Id : 71939922211 Question Type : MCQ Option Shuffling : Yes Display Question Number : Yes  
Single Line Question Option : No Option Orientation : Vertical

Correct Marks : 1 Wrong Marks : 0.25

सूत्रात्मक भाषा से आपका क्या अभिप्राय है?

Options :

1. ✔ अंग्रेजी का प्रकार जो बच्चे भाषा अधिगमन के शुरुआती चरणों में उत्पन्न करते हैं।
2. ✖ अंग्रेजी का प्रकार जो बच्चे प्राथमिक कक्षाओं में सीखते हैं।
3. ✖ अंग्रेजी का प्रकार जो बच्चे अपनी माध्यमिक कक्षाओं में सीखते हैं।
4. ✖ अंग्रेजी का प्रकार जो बच्चे स्नातक करते समय सीखते हैं।

Question Number : 174 Question Id : 71939922212 Question Type : MCQ Option Shuffling : Yes Display Question Number : Yes  
Single Line Question Option : No Option Orientation : Vertical

Correct Marks : 1 Wrong Marks : 0.25

What comes under 'writing at word-level' writing activity?

- I. Labels for pictures
- II. Word puzzles

Options :

1. ✖ Only I
2. ✖ Only II
3. ✔ Both I and II
4. ✖ Neither I nor II

Question Number : 174 Question Id : 71939922212 Question Type : MCQ Option Shuffling : Yes Display Question Number : Yes  
Single Line Question Option : No Option Orientation : Vertical

Correct Marks : 1 Wrong Marks : 0.25

लेखन गतिविधि "शब्द-स्तर पर लिखना" किस के अंतर्गत आता है?

- I. पिक्चरों के लिए लेबल
- II. शब्द पहेली

Options :

- 1. ✖ केवल I
- 2. ✖ केवल II
- 3. ✔ I तथा II दोनों
- 4. ✖ ना ही I ना ही II

Question Number : 175 Question Id : 71939922213 Question Type : MCQ Option Shuffling : Yes Display Question Number : Yes  
Single Line Question Option : No Option Orientation : Vertical

Correct Marks : 1 Wrong Marks : 0.25

What is included in metacognitive strategies?

- I. Previewing
- II. Self-correction

Options :

- 1. ✖ Only I
- 2. ✔ Only II
- 3. ✖ Both I and II
- 4. ✖ Neither I nor II

Question Number : 175 Question Id : 71939922213 Question Type : MCQ Option Shuffling : Yes Display Question Number : Yes  
Single Line Question Option : No Option Orientation : Vertical

Correct Marks : 1 Wrong Marks : 0.25

मेटाकॉग्निटिव रणनीतियों में क्या शामिल है?

- I. पूर्वावलोकन
- II. स्वयं सुधार

Options :

- 1. ✖ केवल I
- 2. ✔ केवल II
- 3. ✖ I तथा II दोनों
- 4. ✖ ना ही I ना ही II

Question Number : 176 Question Id : 71939922214 Question Type : MCQ Option Shuffling : Yes Display Question Number : Yes  
Single Line Question Option : No Option Orientation : Vertical

Correct Marks : 1 Wrong Marks : 0.25

To prompt children to use different strategies is a part of which role?

Options :

- 1. ✔ Interactive role
- 2. ✖ Affective role
- 3. ✖ Procedural role
- 4. ✖ Behavioural role



Question Number : 176 Question Id : 71939922214 Question Type : MCQ Option Shuffling : Yes Display Question Number : Yes  
Single Line Question Option : No Option Orientation : Vertical

Correct Marks : 1 Wrong Marks : 0.25

विभिन्न रणनीतियों का उपयोग करने के लिए बच्चों को संकेत देना किस भूमिका का हिस्सा है?

Options :

1. ☒ संवादात्मक भूमिका
2. ☐ प्रभावी भूमिका
3. ☐ प्रक्रियात्मक भूमिका
4. ☐ व्यावहारिक भूमिका

Question Number : 177 Question Id : 71939922215 Question Type : MCQ Option Shuffling : Yes Display Question Number : Yes  
Single Line Question Option : No Option Orientation : Vertical

Correct Marks : 1 Wrong Marks : 0.25

What are the tips for effective classroom use of digital video?

- I. Familiarise yourself with the website/media etc.
- II. Watch a sequence several times before showing it so you know when to pause.

Options :

1. ☐ Only I
2. ☐ Only II
3. ☒ Both I and II
4. ☐ Neither I nor II

Question Number : 177 Question Id : 71939922215 Question Type : MCQ Option Shuffling : Yes Display Question Number : Yes  
Single Line Question Option : No Option Orientation : Vertical

Correct Marks : 1 Wrong Marks : 0.25

डिजिटल वीडियो के कक्षा में प्रभावशाली उपयोग के लिए क्या सुझाव हैं?

- I. वेबसाइट/मीडिया आदि से अपने आप को परिचित करना
- II. दिखाने से पहले कई बार अनुक्रम देखना ताकि आप जान सकें कि कब रोकना है।

Options :

1. ☐ केवल I
2. ☐ केवल II
3. ☒ I तथा II दोनों
4. ☐ ना ही I ना ही II

Question Number : 178 Question Id : 71939922216 Question Type : MCQ Option Shuffling : Yes Display Question Number : Yes  
Single Line Question Option : No Option Orientation : Vertical

Correct Marks : 1 Wrong Marks : 0.25

What are the certain ground rules that will to be negotiated with children to ensure an inclusive learning environment?

- I. Independent learning in pairs or groups requires co-operation, not competition.
- II. Children need to share materials so they all have access to the task.

Options :

1. ☐ Only I
2. ☐ Only II
3. ☒ Both I and II
4. ☐ Neither I nor II

Question Number : 178 Question Id : 71939922216 Question Type : MCQ Option Shuffling : Yes Display Question Number : Yes  
Single Line Question Option : No Option Orientation : Vertical

Correct Marks : 1 Wrong Marks : 0.25

एक समावेशी अधिगम वातावरण को सुनिश्चित करने के लिए बच्चों के साथ तय किये गए कुछ निश्चित नियम क्या हैं?

- I. जोड़े या समूहों में स्वतंत्र अधिगम के लिए सहयोग की आवश्यकता होती है, प्रतिस्पर्धा की नहीं।  
II. बच्चों को वस्तुएं साझा करने की आवश्यकता है ताकि वे सभी कार्य तक पहुंच सकें।

Options :

1. ✖ केवल I
2. ✖ केवल II
3. ✔ I तथा II दोनों
4. ✖ ना ही I ना ही II

Question Number : 179 Question Id : 71939922217 Question Type : MCQ Option Shuffling : Yes Display Question Number : Yes  
Single Line Question Option : No Option Orientation : Vertical

Correct Marks : 1 Wrong Marks : 0.25

What is stage 4 called in productive computer session?

Options :

1. ✖ Before the computer /tablet/mobile session.
2. ✖ After the computer /tablet/mobile session.
3. ✖ During the computer /tablet/mobile session.
4. ✔ There is no stage 4 in productive computer session.

Question Number : 179 Question Id : 71939922217 Question Type : MCQ Option Shuffling : Yes Display Question Number : Yes  
Single Line Question Option : No Option Orientation : Vertical

Correct Marks : 1 Wrong Marks : 0.25

उपयोगी कंप्यूटर सत्र में चरण 4 को क्या कहा जाता है?

Options :

1. ✖ कंप्यूटर/टैबलेट/मोबाइल सत्र से पूर्वी
2. ✖ कंप्यूटर/टैबलेट/मोबाइल सत्र के पश्चात्
3. ✖ कंप्यूटर/टैबलेट/मोबाइल सत्र के दौरान
4. ✔ उपयोगी कंप्यूटर सत्र में कोई 4 चरण नहीं है।

Question Number : 180 Question Id : 71939922218 Question Type : MCQ Option Shuffling : Yes Display Question Number : Yes  
Single Line Question Option : No Option Orientation : Vertical

Correct Marks : 1 Wrong Marks : 0.25

Which of the following is not a part of a teacher's role?

- I. Perspective Role  
II. Procedural Role

Options :

1. ✔ Only I
2. ✖ Only II
3. ✖ Both I and II
4. ✖ Neither I nor II





Question Number : 180 Question Id : 71939922218 Question Type : MCQ Option Shuffling : Yes Display Question Number : Yes  
Single Line Question Option : No Option Orientation : Vertical

Correct Marks : 1 Wrong Marks : 0.25

निम्नलिखित में से कौन सा एक शिक्षक की भूमिका का हिस्सा नहीं है?

- I. संदर्श भूमिका
- II. प्रक्रियात्मक भूमिका

Options :

- 1.  केवल I
- 2.  केवल II
- 3.  I तथा II दोनों
- 4.  ना ही I ना ही II

Discipline5

Group Number :	10
Group Id :	719399868
Group Maximum Duration :	0
Group Minimum Duration :	120
Revisit allowed for view? :	No
Revisit allowed for edit? :	No
Break time:	0
Group Marks:	20
Revisit allowed for group Instructions? :	Yes
Maximum Instruction Time:	0
Minimum Instruction Time:	0

Discipline5

Section Id :	719399978
Section Number :	1
Section type :	Online
Mandatory or Optional:	Mandatory
Number of Questions:	20
Number of Questions to be attempted:	20
Section Marks:	20
Display Number Panel:	Yes
Group All Questions:	No

Sub-Section Number:	1
Sub-Section Id:	7193991176
Question Shuffling Allowed :	Yes

Question Number : 181 Question Id : 71939922219 Question Type : MCQ Option Shuffling : Yes Display Question Number : Yes  
Single Line Question Option : No Option Orientation : Vertical

Correct Marks : 1 Wrong Marks : 0.25

What do you mean by consolidating vocabulary?

- I. Encouraging children to create their own picture dictionaries.
- II. New words that are learnt quickly are needed to recycle regularly to aid retention.

Options :

- 1.  Only I
- 2.  Only II

3. ✖ Both I and II  
4. ✖ Neither I nor II

Question Number : 181 Question Id : 71939922219 Question Type : MCQ Option Shuffling : Yes Display Question Number : Yes  
Single Line Question Option : No Option Orientation : Vertical

Correct Marks : 1 Wrong Marks : 0.25

शब्दावली को समेकित करने से आपका क्या तात्पर्य है?

- I. बच्चों को स्वयं का चित्र शब्दकोश बनाने के लिए प्रोत्साहित करना  
II. नए शब्द जो जल्दी सीखे जाते हैं, उन्हें अवरोधन की सहायता के लिए नियमित रूप से पुनः प्रयोग करने की आवश्यकता होती है

Options :

1. ✖ केवल I  
2. ✔ केवल II  
3. ✖ I तथा II दोनों  
4. ✖ ना ही I ना ही II

Question Number : 182 Question Id : 71939922220 Question Type : MCQ Option Shuffling : Yes Display Question Number : Yes  
Single Line Question Option : No Option Orientation : Vertical

Correct Marks : 1 Wrong Marks : 0.25

Which of the following is NOT a type of learning resource in social science?

Options :

1. ✔ Place Value Cards  
2. ✖ Diorama  
3. ✖ Time - Lines  
4. ✖ Graphs

Question Number : 182 Question Id : 71939922220 Question Type : MCQ Option Shuffling : Yes Display Question Number : Yes  
Single Line Question Option : No Option Orientation : Vertical

Correct Marks : 1 Wrong Marks : 0.25

निम्नलिखित में से कौन सा सामाजिक विज्ञान में अधिगम संसाधन का एक प्रकार नहीं है?

Options :

1. ✔ प्लेस वैल्यू कार्ड  
2. ✖ चित्रावली  
3. ✖ समय - रेखा  
4. ✖ ग्राफ़

Question Number : 183 Question Id : 71939922221 Question Type : MCQ Option Shuffling : Yes Display Question Number : Yes  
Single Line Question Option : No Option Orientation : Vertical

Correct Marks : 1 Wrong Marks : 0.25

According to National Curriculum Framework (NCF), 2005 which of the following statement(s) is/are correct regarding teaching History at the upper primary stage?

- I. At the upper primary stage, History must focus on developments in India.  
II. At the upper primary stage, History will take into account developments in different parts of India, with sections on events or developments in other parts of the world.  
III. At the upper primary stage, History will only take into account development in different parts of India.

Options :

1. ✖ I, II and III  
2. ✖ Only III  
3. ✖ Only I

4. ✓ Only II

Question Number : 183 Question Id : 71939922221 Question Type : MCQ Option Shuffling : Yes Display Question Number : Yes  
Single Line Question Option : No Option Orientation : Vertical

Correct Marks : 1 Wrong Marks : 0.25

राष्ट्रीय पाठ्यक्रम की रूपरेखा (NCF), 2005 के अनुसार उच्च प्राथमिक स्तर पर इतिहास पढ़ाने के विषय में निम्नलिखित में से कौन सा/से कथन सही है/हैं?

- I. उच्च प्राथमिक स्तर में, इतिहास को भारत में विकास पर ध्यान केंद्रित करना चाहिए
- II. उच्च प्राथमिक स्तर पर, इतिहास भारत के विभिन्न हिस्सों में विकास के साथ विश्व के अन्य हिस्सों में विकास या कार्यक्रमों पर खंज पर ध्यान देगा
- III. उच्च प्राथमिक स्तर पर, इतिहास केवल भारत के विभिन्न हिस्सों में विकास को ध्यान में रखेगा

Options :

- 1. ✗ I, II तथा III
- 2. ✗ केवल III
- 3. ✗ केवल I
- 4. ✓ केवल II

Question Number : 184 Question Id : 71939922222 Question Type : MCQ Option Shuffling : Yes Display Question Number : Yes  
Single Line Question Option : No Option Orientation : Vertical

Correct Marks : 1 Wrong Marks : 0.25

Which of the following activity/activities can be given to the students to teach about 'cultural diversity in India'?

- I. Asking one student to read about cultural diversity in the class.
- II. Asking the students to list different cultures of India and write their features.
- III. Asking students to write about the different dimensions of cultures of India and prepare a chart on it.

Options :

- 1. ✗ I, II and III
- 2. ✗ Only I
- 3. ✗ Only III
- 4. ✓ Both II and III

Question Number : 184 Question Id : 71939922222 Question Type : MCQ Option Shuffling : Yes Display Question Number : Yes  
Single Line Question Option : No Option Orientation : Vertical

Correct Marks : 1 Wrong Marks : 0.25

निम्नलिखित में से कौन सी गतिविधि/गतिविधियाँ छात्रों को 'भारत में सांस्कृतिक विविधता' के बारे में सिखाने के लिए दी जा सकती हैं?

- I. कक्षा में सांस्कृतिक विविधता के बारे में एक छात्र को पढ़ने के लिए कहना
- II. छात्रों को भारत की विभिन्न संस्कृतियों को सूचीबद्ध करने तथा उनकी विशेषताओं को लिखने के लिए कहना
- III. छात्रों को भारत की संस्कृतियों के विभिन्न आयामों के बारे में लिखने तथा उस पर एक चार्ट तैयार करने के लिए कहना

Options :

- 1. ✗ I, II तथा III
- 2. ✗ केवल I
- 3. ✗ केवल III
- 4. ✓ II तथा III दोनों

Question Number : 185 Question Id : 71939922223 Question Type : MCQ Option Shuffling : Yes Display Question Number : Yes  
Single Line Question Option : No Option Orientation : Vertical

Correct Marks : 1 Wrong Marks : 0.25

Which of the following is an academic discipline incorporating fields such as surveying, geographic information systems, hydrography and cartography?

Options :

1. ✓ Spatial Science
2. ✗ Human Geography
3. ✗ Pedagogy
4. ✗ Areal Differentiation

Question Number : 185 Question Id : 71939922223 Question Type : MCQ Option Shuffling : Yes Display Question Number : Yes  
Single Line Question Option : No Option Orientation : Vertical

Correct Marks : 1 Wrong Marks : 0.25

निम्नलिखित में से कौन सा एक अकादमिक अनुशासन है जिसमें सर्वेक्षण, भौगोलिक सूचना प्रणाली, जलराशिकी विज्ञान तथा मानचित्रकारी जैसे क्षेत्र समाविष्ट हैं?

Options :

1. ✓ स्थानिक विज्ञान
2. ✗ मानवीय भूगोल
3. ✗ शिक्षा शास्त्र
4. ✗ क्षेत्रीय विभेदन

Question Number : 186 Question Id : 71939922224 Question Type : MCQ Option Shuffling : Yes Display Question Number : Yes  
Single Line Question Option : No Option Orientation : Vertical

Correct Marks : 1 Wrong Marks : 0.25

Which of the following are purposes of assessment in social sciences at elementary level?

- I. Identify the individual needs and requirements.
- II. Improve teaching learning process.
- III. Do away with the fear of assessment among children.
- IV. Encourage children to learn individually.

Options :

1. ✓ I, II and III
2. ✗ I, III and IV
3. ✗ II, III and IV
4. ✗ I, II, III and IV

Question Number : 186 Question Id : 71939922224 Question Type : MCQ Option Shuffling : Yes Display Question Number : Yes  
Single Line Question Option : No Option Orientation : Vertical

Correct Marks : 1 Wrong Marks : 0.25

प्राथमिक स्तर पर निम्नलिखित में से कौन सा/से सामाजिक विज्ञान में मूल्यांकन के उद्देश्य हैं?

- I. व्यक्तिगत ज़रूरतों तथा आवश्यकताओं को पहचानें
- II. शिक्षण अधिगम प्रक्रिया में सुधार
- III. बच्चों में मूल्यांकन के भय को दूर करें
- IV. बच्चों को व्यक्तिगत रूप से सीखने के लिए प्रोत्साहित करें

Options :

1. ✓ I, II तथा III
2. ✗ I, III तथा IV
3. ✗ II, III तथा IV
4. ✗ I, II, III तथा IV

Question Number : 187 Question Id : 71939922225 Question Type : MCQ Option Shuffling : Yes Display Question Number : Yes  
Single Line Question Option : No Option Orientation : Vertical

Correct Marks : 1 Wrong Marks : 0.25

An article is sold at a discount of 25%. If marked price of article is Rs. 6000, then what will be the selling price of article?

Options :

1. ✓ Rs. 4500
2. ✗ Rs. 4200
3. ✗ Rs. 4800
4. ✗ Rs. 5400

Question Number : 187 Question Id : 71939922225 Question Type : MCQ Option Shuffling : Yes Display Question Number : Yes  
Single Line Question Option : No Option Orientation : Vertical

Correct Marks : 1 Wrong Marks : 0.25

एक वस्तु को 25% की छूट पर बेचा गया है। यदि वस्तु का अंकित मूल्य 6000 रुपये है, तो वस्तु का विक्रय मूल्य क्या होगा?

Options :

1. ✓ 4500 रुपये
2. ✗ 4200 रुपये
3. ✗ 4800 रुपये
4. ✗ 5400 रुपये

Question Number : 188 Question Id : 71939922226 Question Type : MCQ Option Shuffling : Yes Display Question Number : Yes  
Single Line Question Option : No Option Orientation : Vertical

Correct Marks : 1 Wrong Marks : 0.25

$\triangle ABC$  and  $\triangle PQR$  are congruent to each other. If  $AC = 12$  cm, then what will be value of  $PR$ ?

Options :

1. ✗ 10 cm
2. ✗ 18 cm
3. ✗ 15 cm
4. ✓ 12 cm

Question Number : 188 Question Id : 71939922226 Question Type : MCQ Option Shuffling : Yes Display Question Number : Yes  
Single Line Question Option : No Option Orientation : Vertical

Correct Marks : 1 Wrong Marks : 0.25

$\triangle ABC$  तथा  $\triangle PQR$  एक दूसरे के सर्वांगसम हैं। यदि  $AC = 12$  से.मी. है, तो  $PR$  का मान क्या होगा?

Options :

1. ✗ 10 से.मी.
2. ✗ 18 से.मी.
3. ✗ 15 से.मी.
4. ✓ 12 से.मी.

Question Number : 189 Question Id : 71939922227 Question Type : MCQ Option Shuffling : Yes Display Question Number : Yes  
Single Line Question Option : No Option Orientation : Vertical

Correct Marks : 1 Wrong Marks : 0.25

Which of the following are related with "Prior negative experiences with mathematics"?

- I. Unfavourable school climate
- II. Lack of encouragement from parents and/or teachers
- III. Lack of positive role models
- IV. Ethnic and/or gender stereotypes

Options :

1. ✗ II, III and IV
2. ✓ I, II, III and IV
3. ✗ II and III

4. ✖ I, II and III

Question Number : 189 Question Id : 71939922227 Question Type : MCQ Option Shuffling : Yes Display Question Number : Yes  
Single Line Question Option : No Option Orientation : Vertical

Correct Marks : 1 Wrong Marks : 0.25

निम्नलिखित में से कौन से "गणित के बारे में पूर्व नकारात्मक अनुभव" से सम्बंधित है?

- I. विद्यालय का अप्रिय वातावरण
- II. माता-पिता तथा/या शिक्षको से प्रोत्साहन की कमी
- III. सकारात्मक आदर्श की कमी
- IV. जातीय तथा/या लिंग की रूढ़िबद्ध धारणा

Options :

- 1. ✖ II, III तथा IV
- 2. ✔ I, II, III तथा IV
- 3. ✖ II तथा III
- 4. ✖ I, II तथा III

Question Number : 190 Question Id : 71939922228 Question Type : MCQ Option Shuffling : Yes Display Question Number : Yes  
Single Line Question Option : No Option Orientation : Vertical

Correct Marks : 1 Wrong Marks : 0.25

Which of the following propertie(s) of circle is/are correct?

- I. Opposite angles of a cyclic quadrilateral are supplementary. ABCD is cyclic quadrilateral as its vertices lie on the circle.
- II. The degree measure of an arc is equal to twice the measure of angle inscribed in the opposite arc.

Options :

- 1. ✖ Only I
- 2. ✖ Only II
- 3. ✔ Both I and II
- 4. ✖ Neither I nor II

Question Number : 190 Question Id : 71939922228 Question Type : MCQ Option Shuffling : Yes Display Question Number : Yes  
Single Line Question Option : No Option Orientation : Vertical

Correct Marks : 1 Wrong Marks : 0.25

निम्नलिखित में से वृत्त का/के कौन सा/से गुण सही है/हैं?

- I. एक चक्रीय चतुर्भुज के विपरीत कोण संपूरक होते हैं। ABCD एक चक्रीय चतुर्भुज है क्योंकि इसके शीर्ष वृत्त पर स्थित होते हैं।
- II. एक चाप का डिग्री माप विपरीत चाप में निहित कोण के माप के दोगुना के बराबर है।

Options :

- 1. ✖ केवल I
- 2. ✖ केवल II
- 3. ✔ I तथा II दोनों
- 4. ✖ ना ही I ना ही II

Question Number : 191 Question Id : 71939922229 Question Type : MCQ Option Shuffling : Yes Display Question Number : Yes  
Single Line Question Option : No Option Orientation : Vertical

Correct Marks : 1 Wrong Marks : 0.25



In which of the following way we can represent a data regarding the population of five different countries in a particular year?

- I. Table
- II. Bar graph
- III. Histogram
- IV. Pie chart

Options :

- 1. ✖ I and III
- 2. ✖ II, III and IV
- 3. ✔ I, II, III and IV
- 4. ✖ I and II

Question Number : 191 Question Id : 71939922229 Question Type : MCQ Option Shuffling : Yes Display Question Number : Yes  
Single Line Question Option : No Option Orientation : Vertical

Correct Marks : 1 Wrong Marks : 0.25

एक विशिष्ट वर्ष में पांच विभिन्न देशों की जनसंख्या को निम्नलिखित में से किस तरीके से निरूपित किया जा सकता है?

- I. तालिका
- II. दंड चित्र
- III. हिस्टोग्राम
- IV. वृत्त चित्र

Options :

- 1. ✖ I तथा III
- 2. ✖ II, III तथा IV
- 3. ✔ I, II, III तथा IV
- 4. ✖ I तथा II

Question Number : 192 Question Id : 71939922230 Question Type : MCQ Option Shuffling : Yes Display Question Number : Yes  
Single Line Question Option : No Option Orientation : Vertical

Correct Marks : 1 Wrong Marks : 0.25

Which of the following combination is not correct?

Options :

- 1. ✖  $(4x - 3) \times (2x) \rightarrow$  Multiplication of a monomial with a polynomial
- 2. ✖  $2x \times 3y \rightarrow$  Multiplication of monomials
- 3. ✔  $(5x) - (2x) \rightarrow$  Division of monomials
- 4. ✖  $(9x^2 - 15xy) \div 3x \rightarrow$  Division of polynomial by a monomial

Question Number : 192 Question Id : 71939922230 Question Type : MCQ Option Shuffling : Yes Display Question Number : Yes  
Single Line Question Option : No Option Orientation : Vertical

Correct Marks : 1 Wrong Marks : 0.25

निम्नलिखित में से कौन सा संयोजन सही नहीं है?

Options :

- 1. ✖  $(4x - 3) \times (2x) \rightarrow$  एकपदी का बहुपद से गुणनफल
- 2. ✖  $2x \times 3y \rightarrow$  एकपदियों का गुणनफल
- 3. ✔  $(5x) - (2x) \rightarrow$  एकपदियों का विभाजन
- 4. ✖  $(9x^2 - 15xy) \div 3x \rightarrow$  बहुपद को एकपदी से विभाजन

Question Number : 193 Question Id : 71939922231 Question Type : MCQ Option Shuffling : Yes Display Question Number : Yes  
Single Line Question Option : No Option Orientation : Vertical

Correct Marks : 1 Wrong Marks : 0.25

Which of the following statements regarding inductive reference method of teaching science in teaching-learning process are correct?

- I. In this method, knowledge is self-acquired and is transformed into wisdom.
- II. Learning by doing is a basis of this method.
- III. It develops the habit of keen observation boosting critical thinking in students.

Options :

- 1. ✖ Both I and II
- 2. ✖ Both II and III
- 3. ✖ Both I and III
- 4. ✔ I, II and III

Question Number : 193 Question Id : 71939922231 Question Type : MCQ Option Shuffling : Yes Display Question Number : Yes  
Single Line Question Option : No Option Orientation : Vertical

Correct Marks : 1 Wrong Marks : 0.25

शिक्षण-अधिगम प्रक्रिया में विज्ञान के शिक्षण की प्रेरक संदर्भ पद्धति के बारे में निम्नलिखित में से कौन से कथन सही है/हैं?

- I. इस पद्धति में, ज्ञान आत्म-अर्जित है और ज्ञान में बदल जाता है।
- II. करके - सीखने द्वारा अधिगम इस पद्धति का एक आधार है।
- III. यह छात्रों में महत्वपूर्ण सोच को बढ़ाने के लिए उत्सुक अवलोकन की आदत विकसित करता है।

Options :

- 1. ✖ I तथा II दोनों
- 2. ✖ II तथा III दोनों
- 3. ✖ I तथा III दोनों
- 4. ✔ I, II तथा III

Question Number : 194 Question Id : 71939922232 Question Type : MCQ Option Shuffling : Yes Display Question Number : Yes  
Single Line Question Option : No Option Orientation : Vertical

Correct Marks : 1 Wrong Marks : 0.25

Which of the following approach to teaching science in classroom is totally teacher centered?

Options :

- 1. ✔ Expository transmission approach
- 2. ✖ Discovery approach
- 3. ✖ Inquiry approach
- 4. ✖ Hands on experiments approach

Question Number : 194 Question Id : 71939922232 Question Type : MCQ Option Shuffling : Yes Display Question Number : Yes  
Single Line Question Option : No Option Orientation : Vertical

Correct Marks : 1 Wrong Marks : 0.25

कक्षा में विज्ञान पढ़ाने के लिए निम्नलिखित में से कौन सा उपागम पूरी तरह से शिक्षक केंद्रित है?

Options :

- 1. ✔ एक्सपोजिटरी ट्रांसमिशन उपागम
- 2. ✖ डिस्कवरी उपागम
- 3. ✖ पूछताछ उपागम
- 4. ✖ हैंड्स - ओन प्रयोग उपागम

Question Number : 195 Question Id : 71939922233 Question Type : MCQ Option Shuffling : Yes Display Question Number : Yes  
Single Line Question Option : No Option Orientation : Vertical

Correct Marks : 1 Wrong Marks : 0.25

Which of the following methods used in discovery approach to teaching science is/are based on inductive thinking?

- I. Open discovery method
- II. Guided discovery method
- III. Deductive discovery method

Options :

- 1. ✖ Only I
- 2. ✔ Both I and II
- 3. ✖ Only II
- 4. ✖ Only III

Question Number : 195 Question Id : 71939922233 Question Type : MCQ Option Shuffling : Yes Display Question Number : Yes  
Single Line Question Option : No Option Orientation : Vertical

Correct Marks : 1 Wrong Marks : 0.25

शिक्षण विज्ञान के खोज उपागम में उपयोग की जाने वाली निम्नलिखित में से कौन सी विधि(याँ) आगमनिक चिंतन पर आधारित है/हैं?

- I. ओपन डिस्कवरी विधि
- II. गाइडिड डिस्कवरी विधि
- III. डिडक्टिव डिस्कवरी विधि

Options :

- 1. ✖ केवल I
- 2. ✔ I तथा II दोनों
- 3. ✖ केवल II
- 4. ✖ केवल III

Question Number : 196 Question Id : 71939922234 Question Type : MCQ Option Shuffling : Yes Display Question Number : Yes  
Single Line Question Option : No Option Orientation : Vertical

Correct Marks : 1 Wrong Marks : 0.25

Which of the following is/are the characteristics of investigative science identified by a teacher in the science classroom?

- I. Pupils have to make their own decisions.
- II. No investigation will allow pupils to use every kind of investigational procedure.

Options :

- 1. ✖ Only I
- 2. ✖ Only II
- 3. ✔ Both I and II
- 4. ✖ Neither I nor II

Question Number : 196 Question Id : 71939922234 Question Type : MCQ Option Shuffling : Yes Display Question Number : Yes  
Single Line Question Option : No Option Orientation : Vertical

Correct Marks : 1 Wrong Marks : 0.25

निम्नलिखित में से कौन सा विज्ञान की कक्षा में शिक्षक द्वारा पहचाने जाने वाले खोजी विज्ञान की विशेषताएँ हैं?

- I. विद्यार्थियों को अपने निर्णय स्वयं करने होंगे
- II. कोई भी जांच विद्यार्थियों को हर प्रकार की जांच प्रक्रिया का उपयोग करने की अनुमति नहीं देगी।

Options :

- 1. ✖ केवल I

2. ✖ केवल II
3. ✔ I तथा II दोनों
4. ✖ ना ही I ना ही II

Question Number : 197 Question Id : 71939922235 Question Type : MCQ Option Shuffling : Yes Display Question Number : Yes  
Single Line Question Option : No Option Orientation : Vertical

Correct Marks : 1 Wrong Marks : 0.25

Which of the following activities are involved in the interactive stage of pedagogical analysis?

- I. Giving feedback.
- II. Deciding on expected learner's responses.
- III. Deciding methods/approaches of stimulus presentation.

Options :

1. ✖ Both I and II
2. ✖ Both II and III
3. ✖ Both I and III
4. ✔ I, II and III

Question Number : 197 Question Id : 71939922235 Question Type : MCQ Option Shuffling : Yes Display Question Number : Yes  
Single Line Question Option : No Option Orientation : Vertical

Correct Marks : 1 Wrong Marks : 0.25

अध्यापन विश्लेषण के इंटरैक्टिव चरण में निम्नलिखित में से कौन सी गतिविधियां शामिल हैं?

- I. प्रतिक्रिया देना
- II. शिक्षार्थियों की अपेक्षित प्रतिक्रियाओं पर निर्णय लेना
- III. उत्तेजना प्रस्तुति की विधियां/उपागम तय करना

Options :

1. ✖ I तथा II दोनों
2. ✖ II तथा III दोनों
3. ✖ I तथा III दोनों
4. ✔ I, II तथा III

Question Number : 198 Question Id : 71939922236 Question Type : MCQ Option Shuffling : Yes Display Question Number : Yes  
Single Line Question Option : No Option Orientation : Vertical

Correct Marks : 1 Wrong Marks : 0.25

Which of the following is/are the aspects of educational evaluation in teaching learning process?

- I. Content
- II. Learning objectives
- III. Learning activities
- IV. Evaluation procedures

Options :

1. ✖ I, II and III
2. ✖ II, III and IV
3. ✖ I, III and IV
4. ✔ I, II, III and IV

Question Number : 198 Question Id : 71939922236 Question Type : MCQ Option Shuffling : Yes Display Question Number : Yes  
Single Line Question Option : No Option Orientation : Vertical

Correct Marks : 1 Wrong Marks : 0.25

शिक्षण अधिगम प्रक्रिया में शैक्षिक मूल्यांकन के निम्नलिखित में से कौन सा/से पहलू है/हैं?

- I. सामग्री
- II. अधिगम उद्देश्य
- III. अधिगम गतिविधियाँ
- IV. मूल्यांकन प्रक्रियाएं

Options :

- 1. ✖ I, II तथा III
- 2. ✖ II, III तथा IV
- 3. ✖ I, III तथा IV
- 4. ✔ I, II, III तथा IV

Question Number : 199 Question Id : 71939922237 Question Type : MCQ Option Shuffling : Yes Display Question Number : Yes  
Single Line Question Option : No Option Orientation : Vertical

Correct Marks : 1 Wrong Marks : 0.25

Which is essential for implementation of inclusive education?

- I. Teacher education
- II. School leadership

Options :

- 1. ✖ Only I
- 2. ✖ Only II
- 3. ✔ Both I and II
- 4. ✖ Neither I nor II

Question Number : 199 Question Id : 71939922237 Question Type : MCQ Option Shuffling : Yes Display Question Number : Yes  
Single Line Question Option : No Option Orientation : Vertical

Correct Marks : 1 Wrong Marks : 0.25

समावेशी शिक्षा के कार्यान्वयन के लिए कौन सा आवश्यक है?

- I. शिक्षक की शिक्षा
- II. स्कूल का नेतृत्व

Options :

- 1. ✖ केवल I
- 2. ✖ केवल II
- 3. ✔ I तथा II दोनों
- 4. ✖ ना ही I ना ही II

Question Number : 200 Question Id : 71939922238 Question Type : MCQ Option Shuffling : Yes Display Question Number : Yes  
Single Line Question Option : No Option Orientation : Vertical

Correct Marks : 1 Wrong Marks : 0.25

Which of the following is a benefit of inclusion for students without S.E.N.?

- I. May serve as peer tutors during interactional activities.
- II. To learn to communicate and deal effectively with wide range of individuals.
- III. Chance to learn about many human device professions.

Options :

- 1. ✖ I and II
- 2. ✖ II and III
- 3. ✖ I and III
- 4. ✔ I, II and III

Question Number : 200 Question Id : 71939922238 Question Type : MCQ Option Shuffling : Yes Display Question Number : Yes  
Single Line Question Option : No Option Orientation : Vertical

Correct Marks : 1 Wrong Marks : 0.25

एस. ई. एन. के बिना वाले छात्रों के लिए निम्नलिखित में से कौन सा समावेशी का लाभ है?

- I. अंतःक्रियात्मक गतिविधियों के दौरान ट्यूटर्स के अनुसार काम कर सकता है।
- II. व्यक्तियों की विस्तृत श्रृंखला के साथ प्रभावी ढंग से संवाद करना और उन्हें संबोधित करना सीखना।
- III. कई मानव उपकरण व्यवसायों के बारे में जानने की संभावना।

Options :

- 1. ✖ I तथा II
- 2. ✖ II तथा III
- 3. ✖ I तथा III
- 4. ✔ I, II तथा III